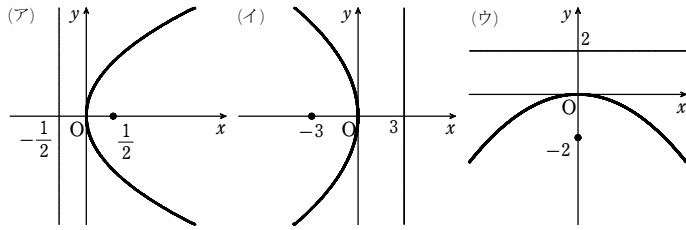


1

【解答】 (1) (ア)  $(\frac{1}{2}, 0)$ ,  $x = -\frac{1}{2}$ , [図] (イ)  $(-3, 0)$ ,  $x = 3$ , [図]  
(ウ)  $(0, -2)$ ,  $y = 2$ , [図]



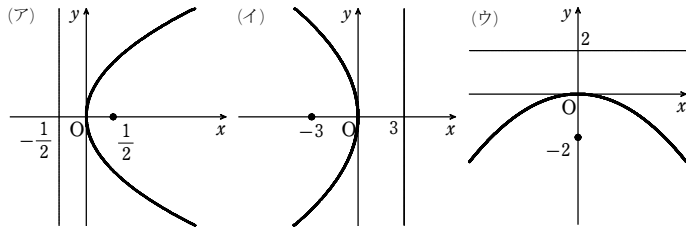
(2) (エ)  $y^2 = \frac{2}{3}x$  (オ)  $x^2 = 16y$

【解説】

(1) (ア)  $y^2 = 4 \cdot \frac{1}{2}x$  から 焦点は点  $(\frac{1}{2}, 0)$ , 準線は直線  $x = -\frac{1}{2}$ , 概形は下図。

(イ)  $y^2 = 4 \cdot (-3)x$  から 焦点は点  $(-3, 0)$ , 準線は直線  $x = 3$ , 概形は下図。

(ウ)  $x^2 = -8y$  すなわち  $x^2 = 4 \cdot (-2)y$  から 焦点は点  $(0, -2)$ , 準線は直線  $y = 2$ , 概形は下図。



(2) (エ)  $y^2 = 4px$  に  $p = \frac{1}{6}$  を代入して  $y^2 = \frac{2}{3}x$

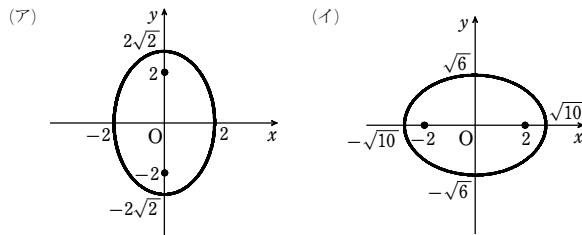
(オ)  $x^2 = 4py$  に  $p = 4$  を代入して  $x^2 = 16y$

2

【解答】 (1) (ア) 長軸  $4\sqrt{2}$ , 短軸 4; 焦点は点  $(0, 2)$ ,  $(0, -2)$ ; [図]

(イ) 長軸  $2\sqrt{10}$ , 短軸  $2\sqrt{6}$ ; 焦点は点  $(2, 0)$ ,  $(-2, 0)$ ; [図]

(2)  $\frac{x^2}{9} + y^2 = 1$



【解説】

(1) (ア)  $\frac{x^2}{2^2} + \frac{y^2}{(2\sqrt{2})^2} = 1$  であるから

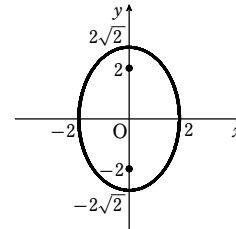
長軸の長さは  $2 \cdot 2\sqrt{2} = 4\sqrt{2}$ ,

短軸の長さは  $2 \cdot 2 = 4$

$\sqrt{(2\sqrt{2})^2 - 2^2} = 2$  であるから, 焦点は

2点  $(0, 2)$ ,  $(0, -2)$

概形は右図のようになる。



(イ)  $3x^2 + 5y^2 = 30$  を変形すると,

$\frac{x^2}{(\sqrt{10})^2} + \frac{y^2}{(\sqrt{6})^2} = 1$  となるから,

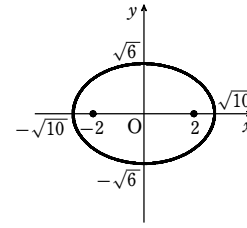
長軸の長さは  $2 \cdot \sqrt{10} = 2\sqrt{10}$ ,

短軸の長さは  $2 \cdot \sqrt{6} = 2\sqrt{6}$

$\sqrt{(\sqrt{10})^2 - (\sqrt{6})^2} = 2$  であるから, 焦点は

2点  $(2, 0)$ ,  $(-2, 0)$

概形は右図のようになる。



(2) 2点  $(2\sqrt{2}, 0)$ ,  $(-2\sqrt{2}, 0)$  を焦点とする楕円の方程式は

$\frac{x^2}{a^2} + \frac{y^2}{b^2} = 1$  ( $a > b > 0$ ) と表されて, 焦点からの距離の和が6であるから

$2a = 6$  よって  $a = 3$

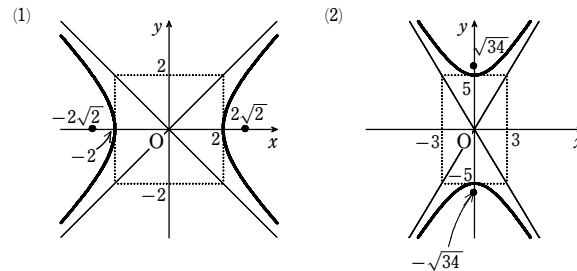
焦点の座標から,  $\sqrt{a^2 - b^2} = 2\sqrt{2}$  となり  $b^2 = 1$

ゆえに, 求める楕円の方程式は  $\frac{x^2}{9} + y^2 = 1$

3

【解答】 (1) 頂点は点  $(2, 0)$ ,  $(-2, 0)$ ; 焦点は点  $(2\sqrt{2}, 0)$ ,  $(-2\sqrt{2}, 0)$ ; 漸近線は2直線  $y = \pm x$ ; [図]

(2) 頂点は点  $(0, 5)$ ,  $(0, -5)$ ; 焦点は点  $(0, \sqrt{34})$ ,  $(0, -\sqrt{34})$ ; 漸近線は2直線  $y = \pm \frac{5}{3}x$ ; [図]



【解説】

(1)  $\frac{x^2}{2^2} - \frac{y^2}{2^2} = 1$  であるから, 頂点は

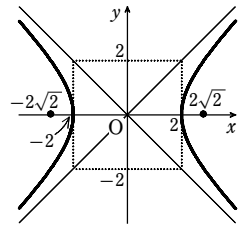
2点  $(2, 0)$ ,  $(-2, 0)$

$\sqrt{2^2 + 2^2} = 2\sqrt{2}$  であるから, 焦点は

2点  $(2\sqrt{2}, 0)$ ,  $(-2\sqrt{2}, 0)$

また, 漸近線は 2直線  $y = \pm x$

概形は右図のようになる。



(2)  $25x^2 - 9y^2 = -225$  を変形して

$\frac{x^2}{3^2} - \frac{y^2}{5^2} = -1$

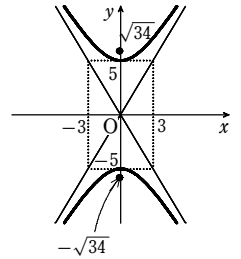
よって, 頂点は 2点  $(0, 5)$ ,  $(0, -5)$

$\sqrt{3^2 + 5^2} = \sqrt{34}$  であるから, 焦点は

2点  $(0, \sqrt{34})$ ,  $(0, -\sqrt{34})$

また, 漸近線は 2直線  $y = \pm \frac{5}{3}x$

概形は右図のようになる。



4

【解答】 (1)  $\frac{x^2}{16} + \frac{y^2}{25} = 1$  (2)  $x^2 = -3y$  (3)  $\frac{x^2}{9} - \frac{y^2}{7} = 1$

【解説】

(1) 中心が原点で, 長軸が  $y$  軸上にあるから, 求める楕円の方程式を

$\frac{x^2}{a^2} + \frac{y^2}{b^2} = 1$  ( $b > a > 0$ ) とおく。

短軸の長さが8であるから  $2a = 8$  ゆえに  $a = 4$

また, 点  $(\frac{12}{5}, 4)$  を通るから  $\frac{1}{4^2} \cdot (\frac{12}{5})^2 + \frac{4^2}{b^2} = 1$

よって  $\frac{16}{b^2} = 1 - \frac{9}{25} = \frac{16}{25}$  ゆえに  $b^2 = 25$

したがって, 求める方程式は  $\frac{x^2}{16} + \frac{y^2}{25} = 1$

(2) 頂点が原点で, 焦点が  $y$  軸上にあるから軸は  $y$  軸。

また, 頂点が原点であるから, 求める放物線の方程式は  $x^2 = 4py$  とおける。

点  $(3, -3)$  を通るから  $3^2 = 4p \cdot (-3)$  よって  $p = -\frac{3}{4}$

したがって, 求める放物線の方程式は  $x^2 = -3y$

(3) 2点  $(4, 0)$ ,  $(-4, 0)$  を焦点とするから, 求める双曲線の方程式は

$\frac{x^2}{a^2} - \frac{y^2}{b^2} = 1$  ( $a > 0$ ,  $b > 0$ ) とおける。

このとき, 焦点からの距離の差は  $2a$  であるから,  $2a = 6$  より  $a = 3$

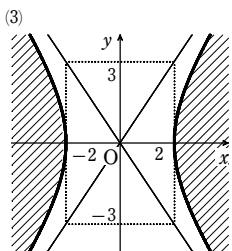
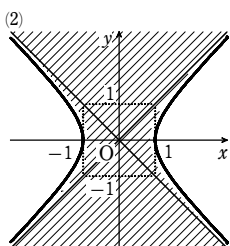
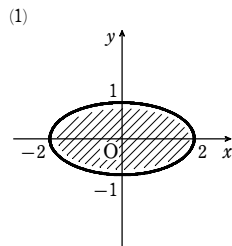
また  $a^2 + b^2 = 4^2$  よって  $b^2 = 4^2 - a^2 = 16 - 3^2 = 7$

したがって  $\frac{x^2}{9} - \frac{y^2}{7} = 1$

5

【解答】 (1) [図] 境界線を含まない (2) [図] 境界線を含まない

(3) [図] 境界線を含む

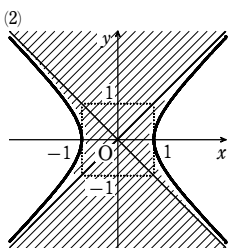
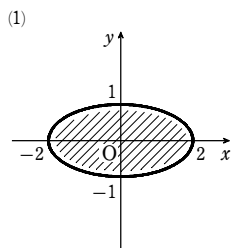


解説

(1) この領域は、楕円  $\frac{x^2}{4} + y^2 = 1$  の内部で、[図]の斜線部分である。

ただし、境界線を含まない。

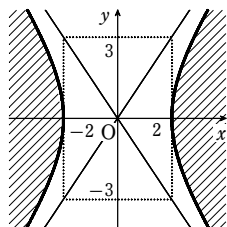
(2) この領域は、双曲線  $x^2 - y^2 = 1$  を境界線とし、原点を含む領域で、[図]の斜線部分である。ただし、境界線を含まない。



(3) この領域は、双曲線  $\frac{x^2}{4} - \frac{y^2}{9} = 1$  を境界線とし、

原点を含まない領域で、[図]の斜線部分である。

ただし、境界線を含む。



6

解答 略

解説

点 P の座標を  $(x_1, y_1)$  とする。

P は双曲線  $x^2 - y^2 = a^2$  上にあるから

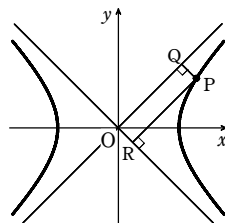
$$x_1^2 - y_1^2 = a^2$$

また、漸近線の方程式は  $x - y = 0, x + y = 0$

$$\text{よって } PQ \cdot PR = \frac{|x_1 - y_1|}{\sqrt{2}} \cdot \frac{|x_1 + y_1|}{\sqrt{2}}$$

$$= \frac{|x_1^2 - y_1^2|}{2}$$

$$= \frac{|a^2|}{2} = \frac{a^2}{2} \quad (\text{一定})$$

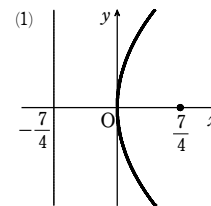


1

解答 (1) 順に 点  $(\frac{7}{4}, 0)$ , 直線  $x = -\frac{7}{4}$ , [図]

(2)  $x^2 = -4y$

(3)  $y^2 = -2x$



解説

(1)  $y^2 = 7x$  を変形して  $y^2 = 4 \cdot \frac{7}{4}x$

ゆえに 焦点は点  $(\frac{7}{4}, 0)$ , 準線は直線  $x = -\frac{7}{4}$

概形は右図のようになる。

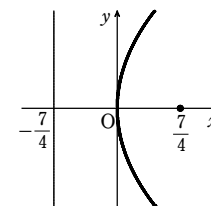
(2) 条件から  $x^2 = 4 \cdot (-1)y$  すなわち  $x^2 = -4y$

(3) 頂点が原点で、焦点が  $x$  軸上にあるから、条件を満たす放物線の方程式は  $y^2 = ax$  ( $a \neq 0$ ) と表される。

この放物線が点  $(-2, 2)$  を通るから  $4 = -2a$

ゆえに  $a = -2$

よって、求める方程式は  $y^2 = -2x$



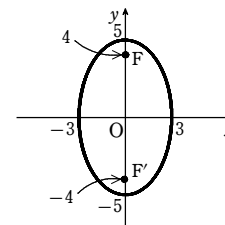
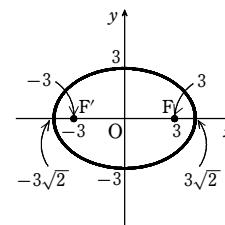
2

解答 (1) (ア) 長軸  $6\sqrt{2}$ , 短軸 6, 焦点  $(3, 0), (-3, 0)$ , [図]

(イ) 長軸 10, 短軸 6, 焦点  $(0, 4), (0, -4)$ , [図]

(ア)

(イ)



(2)  $\frac{4}{169}x^2 + \frac{4}{25}y^2 = 1$

解説

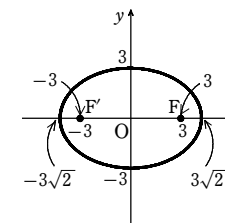
(1) (ア)  $\frac{x^2}{(3\sqrt{2})^2} + \frac{y^2}{3^2} = 1$  であるから、

長軸の長さは  $2 \cdot 3\sqrt{2} = 6\sqrt{2}$ ,

短軸の長さは  $2 \cdot 3 = 6$

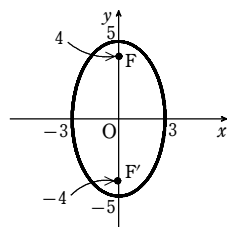
$\sqrt{(3\sqrt{2})^2 - 3^2} = 3$  より、焦点は 2 点  $(3, 0)$ ,

$(-3, 0)$  であり、概形は右図。



第1講 例題演習

(イ)  $25x^2 + 9y^2 = 225$  を変形すると、  
 $\frac{x^2}{9} + \frac{y^2}{25} = 1$  であるから、長軸の長さは  $2 \cdot 5 = 10$ 、  
 短軸の長さは  $2 \cdot 3 = 6$   
 $\sqrt{5^2 - 3^2} = 4$  より、焦点は2点  $(0, 4)$ ,  $(0, -4)$   
 であり、概形は右図。



(2) 2点  $(6, 0)$ ,  $(-6, 0)$  を焦点とする楕円の方程式は

$$\frac{x^2}{a^2} + \frac{y^2}{b^2} = 1 \quad (a > b > 0)$$

と表されて、焦点からの距離の和が13であるから  $2a = 13$

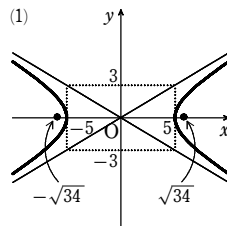
よって  $a = \frac{13}{2}$

焦点の座標から、 $\sqrt{a^2 - b^2} = 6$  となり  $b^2 = a^2 - 6^2 = \frac{25}{4}$

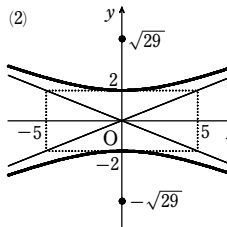
ゆえに、求める楕円の方程式は  $\frac{4}{169}x^2 + \frac{4}{25}y^2 = 1$

3

解答 (1) 頂点  $(5, 0)$ ,  $(-5, 0)$ 、  
 焦点  $(\sqrt{34}, 0)$ ,  $(-\sqrt{34}, 0)$ 、  
 漸近線  $y = \pm \frac{3}{5}x$ 、[図]

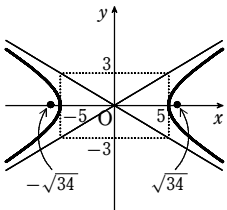


(2) 頂点  $(0, 2)$ ,  $(0, -2)$ 、  
 焦点  $(0, \sqrt{29})$ ,  $(0, -\sqrt{29})$ 、  
 漸近線  $y = \pm \frac{2}{5}x$ 、[図]



解説

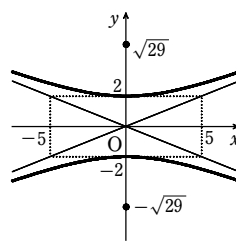
(1)  $\frac{x^2}{5^2} - \frac{y^2}{3^2} = 1$  であるから、頂点は  
 2点  $(5, 0)$ ,  $(-5, 0)$   
 $\sqrt{5^2 + 3^2} = \sqrt{34}$  であるから、焦点は  
 2点  $(\sqrt{34}, 0)$ ,  $(-\sqrt{34}, 0)$   
 また、漸近線は  
 2直線  $y = \pm \frac{3}{5}x$   
 概形は右図。



(2)  $4x^2 - 25y^2 = -100$  を変形して

$$\frac{x^2}{5^2} - \frac{y^2}{2^2} = -1$$

よって、頂点は  
 2点  $(0, 2)$ ,  $(0, -2)$   
 $\sqrt{5^2 + 2^2} = \sqrt{29}$  であるから、焦点は  
 2点  $(0, \sqrt{29})$ ,  $(0, -\sqrt{29})$   
 また、漸近線は  
 2直線  $y = \pm \frac{2}{5}x$



概形は右図。

4

解答 (1)  $y^2 = -\frac{1}{2}x$  (2)  $y^2 = 12x$ ,  $y^2 = -12x$  (3)  $\frac{x^2}{16} + \frac{y^2}{4} = 1$

(4)  $\frac{x^2}{4} - \frac{y^2}{16} = 1$  (5)  $\frac{x^2}{8} - \frac{y^2}{8} = -1$

解説

(1) 頂点が原点で、焦点が  $x$  軸上にあるから、求める放物線の方程式は  $y^2 = 4px$  ( $p \neq 0$ ) とおける。

点  $(-12, \sqrt{6})$  を通ることから  $(\sqrt{6})^2 = 4p \cdot (-12)$

$6 = -48p$  より  $p = -\frac{1}{8}$  これは  $p \neq 0$  を満たす。

よって、求める方程式は  $y^2 = 4 \cdot (-\frac{1}{8})x$  すなわち  $y^2 = -\frac{1}{2}x$

(2) 軸が  $x$  軸、頂点が原点であるから、求める放物線の方程式は  $y^2 = 4px$  ( $p \neq 0$ ) とおける。

このとき、焦点は点  $(p, 0)$ 、準線は直線  $x = -p$  である。

焦点と準線の距離が6であるから

$$|p - (-p)| = 6 \quad \text{すなわち} \quad |2p| = 6$$

よって  $p = \pm 3$  これは  $p \neq 0$  を満たす。

したがって、求める方程式は  $y^2 = 12x$ ,  $y^2 = -12x$

(3) 中心が原点で、長軸が  $x$  軸上、短軸が  $y$  軸上にある楕円の方程式は

$$\frac{x^2}{a^2} + \frac{y^2}{b^2} = 1 \quad (a > b > 0)$$

と表される。

点  $(-4, 0)$  を通るから

$$\frac{16}{a^2} = 1 \quad \dots\dots \text{①}$$

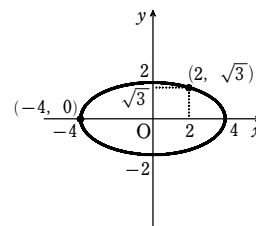
点  $(2, \sqrt{3})$  を通るから

$$\frac{4}{a^2} + \frac{3}{b^2} = 1 \quad \dots\dots \text{②}$$

① から  $a^2 = 16$

よって、② から  $b^2 = 4$

したがって、求める楕円の方程式は  $\frac{x^2}{16} + \frac{y^2}{4} = 1$



(4) 中心が原点で、焦点が  $x$  軸上にあるから、双曲線の方程式は  $\frac{x^2}{a^2} - \frac{y^2}{b^2} = 1$

( $a > 0$ ,  $b > 0$ ) と表される。

点  $(\frac{5}{2}, -3)$  を通るから  $\frac{25}{4a^2} - \frac{9}{b^2} = 1 \quad \dots\dots \text{①}$

点  $(4, 4\sqrt{3})$  を通るから  $\frac{16}{a^2} - \frac{48}{b^2} = 1 \quad \dots\dots \text{②}$

①×16-②×3 から  $\frac{52}{a^2} = 13$

よって  $a^2 = 4$  ゆえに、② から  $b^2 = 16$

よって、求める双曲線の方程式は  $\frac{x^2}{4} - \frac{y^2}{16} = 1$

(5) 中心が原点、1つの焦点が  $(0, 4)$  であるから、双曲線の方程式は  $\frac{x^2}{a^2} - \frac{y^2}{b^2} = -1$

( $a > 0$ ,  $b > 0$ ) と表される。

このとき、漸近線は  $y = \pm \frac{b}{a}x$

漸近線が直交するから  $\frac{b}{a} \cdot (-\frac{b}{a}) = -1$

ゆえに  $b^2 = a^2 \quad \dots\dots \text{①}$

焦点の1つが  $(0, 4)$  であるから  $\sqrt{a^2 + b^2} = 4$

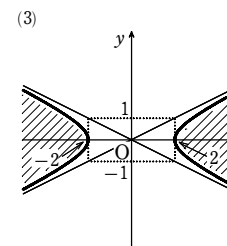
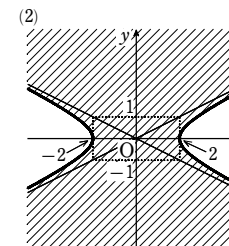
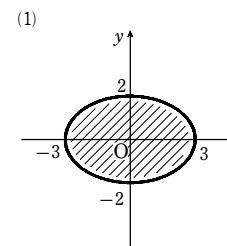
両辺を2乗して  $a^2 + b^2 = 16$  ①を代入して  $2a^2 = 16$

よって  $a^2 = 8$  ①から  $b^2 = 8$

ゆえに、求める直角双曲線の方程式は  $\frac{x^2}{8} - \frac{y^2}{8} = -1$

5

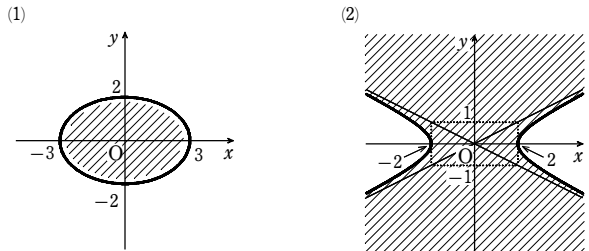
解答 (1) [図] 境界線を含まない (2) [図] 境界線を含む  
 (3) [図] 境界線を含まない



解説

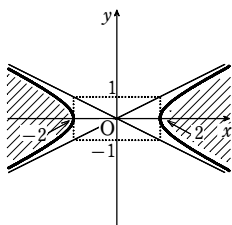
(1) この領域は、楕円  $\frac{x^2}{9} + \frac{y^2}{4} = 1$  の内部で、[図]の斜線部分である。  
 ただし、境界線を含まない。

(2) この領域は、双曲線  $\frac{x^2}{4} - y^2 = 1$  を境界線とし、原点を含む領域で、[図]の斜線部分である。ただし、境界線を含む。



(3) この領域は、双曲線  $\frac{x^2}{4} - y^2 = 1$  を境界線とし、原点を含まない領域で、[図]の斜線部分である。ただし、境界線を含まない。

【参考】不等式の表す領域が、原点を含むかどうかは、不等式に  $x=0, y=0$  を代入してみればわかる。  
 $x=0, y=0$  を代入すると  
 (1), (2) 不等式が成り立つ → 原点を含む  
 (3) 不等式が成り立たない → 原点を含まない



6

【解答】 略  
 【解説】

点Pの座標を  $(x_1, y_1)$  とし、A(0, 5), B(0, -5) とする。

条件から  $x_1 \neq 0, y_1 \neq \pm 5$

直線 PA, PB の方程式は、それぞれ

$$PA: y = \frac{y_1 - 5}{x_1}x + 5$$

$$PB: y = \frac{y_1 + 5}{x_1}x - 5$$

これらの方程式で  $y=0$  とすると、それぞれ

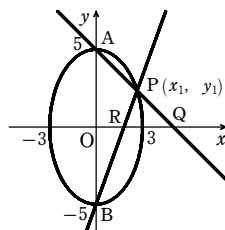
$$x = -\frac{5x_1}{y_1 - 5}, x = \frac{5x_1}{y_1 + 5}$$

$$\text{よって } OQ \cdot OR = \left| -\frac{5x_1}{y_1 - 5} \right| \cdot \left| \frac{5x_1}{y_1 + 5} \right| = \left| \frac{25x_1^2}{y_1^2 - 25} \right|$$

$$\text{ここで、点 P は楕円にあるから } \frac{x_1^2}{9} + \frac{y_1^2}{25} = 1$$

$$\text{ゆえに } 25x_1^2 = 9(25 - y_1^2)$$

$$\text{したがって } OQ \cdot OR = \left| \frac{9(25 - y_1^2)}{y_1^2 - 25} \right| = 9 \text{ (一定)}$$



1

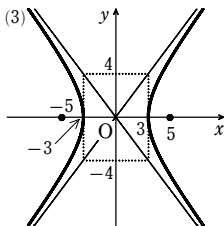
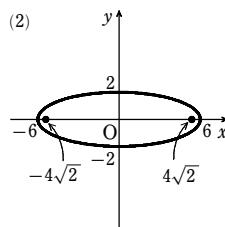
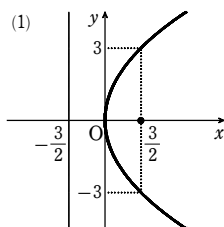
【解答】 (1) 焦点の座標は  $(\frac{3}{2}, 0)$ , 準線の方程式は  $x = -\frac{3}{2}$

(2) 焦点の座標は  $(4\sqrt{2}, 0), (-4\sqrt{2}, 0)$ ,  
 長軸の長さは 12, 短軸の長さは 4

(3) 頂点の座標は  $(3, 0), (-3, 0)$ , 焦点の座標は  $(5, 0), (-5, 0)$ ,

漸近線の方程式は  $y = \frac{4}{3}x, y = -\frac{4}{3}x$

(4) [図]



【解説】

(1)  $y^2 = 6x$  から  $y^2 = 4 \cdot \frac{3}{2}x$

よって、焦点の座標は  $(\frac{3}{2}, 0)$ , 準線の方程式は  $x = -\frac{3}{2}$

(2)  $x^2 + 9y^2 = 36$  から  $\frac{x^2}{6^2} + \frac{y^2}{2^2} = 1$

$\sqrt{6^2 - 2^2} = 4\sqrt{2}$  であるから、焦点の座標は  $(4\sqrt{2}, 0), (-4\sqrt{2}, 0)$   
 長軸の長さは  $2 \cdot 6 = 12$ , 短軸の長さは  $2 \cdot 2 = 4$

(3)  $16x^2 - 9y^2 = 144$  から  $\frac{x^2}{3^2} - \frac{y^2}{4^2} = 1$

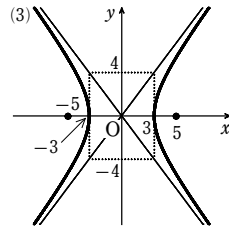
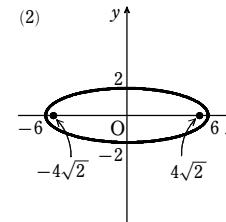
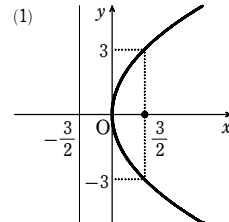
よって、頂点の座標は  $(3, 0), (-3, 0)$

$\sqrt{3^2 + 4^2} = 5$  であるから、焦点の座標は  $(5, 0), (-5, 0)$

漸近線の方程式は  $\frac{x}{3} - \frac{y}{4} = 0, \frac{x}{3} + \frac{y}{4} = 0$

すなわち  $y = \frac{4}{3}x, y = -\frac{4}{3}x$

(4) (1), (2), (3) の結果から、それぞれの概形は図のようになる。



2

【解答】 (1)  $\frac{x^2}{20} + \frac{y^2}{16} = 1$  (2)  $\frac{x^2}{49} - y^2 = 1, p = \pm 7$

【解説】

(1) 楕円  $\frac{x^2}{16} + \frac{y^2}{12} = 1$  の焦点は、 $(\sqrt{16-12}, 0), (-\sqrt{16-12}, 0)$  から  
 $(2, 0), (-2, 0)$

求める楕円の方程式を  $\frac{x^2}{b^2+4} + \frac{y^2}{b^2} = 1$  とおく。

点  $(\sqrt{15}, 2)$  を通るから  $\frac{15}{b^2+4} + \frac{4}{b^2} = 1$

よって  $(b^2+1)(b^2-16) = 0$

$b^2+1 \neq 0$  であるから  $b^2 = 16$

したがって、求める楕円の方程式は  $\frac{x^2}{20} + \frac{y^2}{16} = 1$

(2) 中心が原点で焦点が  $x$  軸上にあり、かつ、点  $(p, 0)$  を通り漸近線の方程式が

$py = x$  であるから、双曲線の方程式は  $\frac{x^2}{p^2} - \frac{y^2}{1^2} = 1$  と書ける。

焦点の座標が  $(5\sqrt{2}, 0), (-5\sqrt{2}, 0)$  であるから  $p^2 + 1 = 50$

よって  $p = \pm 7$

求める双曲線の方程式は  $\frac{x^2}{49} - y^2 = 1$

3

【解答】  $P(-\sqrt{3}, 2)$  または  $P(\sqrt{3}, 2)$  のときで距離は 2

【解説】

第1講 レベルA

A(0, 3), P(s, t)とする。

Pは双曲線  $x^2 - \frac{y^2}{2} = 1$  上の点であるから

$$s^2 - \frac{t^2}{2} = 1 \quad \dots\dots ①$$

ゆえに  $AP^2 = s^2 + (t-3)^2 = 1 + \frac{t^2}{2} + (t-3)^2$

$$= \frac{3}{2}t^2 - 6t + 10 = \frac{3}{2}(t-2)^2 + 4$$

よって、 $AP^2$ は  $t=2$  のとき最小値4をとる。

$AP \geq 0$  であるから、 $AP^2$ が最小のとき、 $AP$ も最小となる。

$t=2$  のとき、①から  $s^2=3$

ゆえに  $s = \pm\sqrt{3}$

よって、 $P(-\sqrt{3}, 2)$  または  $P(\sqrt{3}, 2)$  のとき最小となり、そのときの距離は2

4

【解答】 双曲線の一部  $x^2 - \frac{y^2}{8} = 1 (x \geq 1)$

【解説】

点(3, 0)をF, 円  $(x+3)^2 + y^2 = 4$  の中心をF'とおくと F'(-3, 0)

題意の点(X, Y)をPとおくと、条件から  $PF' - PF = 2$

また、線分FF'の中点は原点であるから、点Pは双曲線  $\frac{x^2}{a^2} - \frac{y^2}{b^2} = 1 (a > 0, b > 0)$  上

を動く。

ゆえに  $|PF' - PF| = 2a$  から  $2 = 2a$  よって  $a = 1$

また、 $3 = \sqrt{a^2 + b^2}$  から  $9 = 1 + b^2$  ゆえに  $b^2 = 8$

よって、点Pは双曲線  $x^2 - \frac{y^2}{8} = 1$  上を動く。

ここで、Pがx軸上にあるときP(1, 0)であるから、求める軌跡は双曲線の一部

$x^2 - \frac{y^2}{8} = 1 (x \geq 1)$  である。

【別解】 点(3, 0)を通り、円  $(x+3)^2 + y^2 = 4$  と互いに外接する円の中心(X, Y)をP, 半径をrとする。

また、A(-3, 0)とすると  $AP = r + 2$

ここで、 $AP = \sqrt{(X+3)^2 + Y^2}$ ,  $r = \sqrt{(X-3)^2 + Y^2}$  であるから

$$\sqrt{(X+3)^2 + Y^2} = \sqrt{(X-3)^2 + Y^2} + 2$$

両辺を2乗すると

$$(X+3)^2 + Y^2 = (X-3)^2 + Y^2 + 4\sqrt{(X-3)^2 + Y^2} + 4$$

ゆえに  $3X - 1 = \sqrt{(X-3)^2 + Y^2} \quad \dots\dots ①$

このとき、 $3X - 1 \geq 0$  から  $X \geq \frac{1}{3} \quad \dots\dots ②$

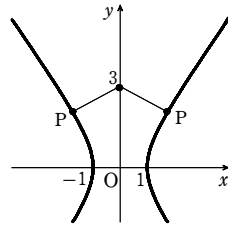
①の両辺を2乗すると  $9X^2 - 6X + 1 = (X-3)^2 + Y^2$

ゆえに  $Y^2 = 8(X^2 - 1)$

このとき、 $X^2 - 1 \geq 0$  から  $X \leq -1, 1 \leq X \quad \dots\dots ③$

よって  $X^2 - \frac{Y^2}{8} = 1$

ただし、②、③から  $X \geq 1$



ゆえに、求める軌跡は、双曲線の一部  $x^2 - \frac{y^2}{8} = 1 (x \geq 1)$

5

【解答】 (1) 楕円  $\frac{x^2}{36} + \frac{y^2}{9} = 1$

(2) 楕円  $\frac{x^2}{4} + y^2 = 1$  ただし、2点(2, 0), (-2, 0)を除く

【解説】

(1) 2点A, Bの座標を、それぞれ(s, 0), (0, t)とすると、 $AB^2 = 3^2$  であるから  $s^2 + t^2 = 3^2 \quad \dots\dots ①$

点Pの座標を(x, y)とすると  $x = 2s, y = -t$

ゆえに  $s = \frac{1}{2}x, t = -y$

これを①に代入すると  $(\frac{1}{2}x)^2 + (-y)^2 = 3^2$  すなわち  $\frac{x^2}{6^2} + \frac{y^2}{3^2} = 1$

よって、点Pの軌跡は、楕円  $\frac{x^2}{36} + \frac{y^2}{9} = 1$  である。

(2) Qの座標を(s, t), Pの座標を(x, y)とする。

Qは楕円  $\frac{x^2}{36} + \frac{y^2}{9} = 1$  上にあるから  $\frac{s^2}{36} + \frac{t^2}{9} = 1 \quad \dots\dots ①$

Pは△AQBの重心であるから  $x = \frac{-2+s+2}{3}, y = \frac{0+t+0}{3}$

よって  $s = 3x, t = 3y$

これを①に代入すると  $\frac{(3x)^2}{36} + \frac{(3y)^2}{9} = 1$  ゆえに  $\frac{x^2}{4} + y^2 = 1$

ここで、(s, t) = (±6, 0) のとき、3点A, B, Qは同じ直線上にあり、△AQBができない。

よって (s, t) ≠ (±6, 0) すなわち (x, y) ≠ (±2, 0)

よって、点Pの軌跡は 楕円  $\frac{x^2}{4} + y^2 = 1$

ただし、2点(2, 0), (-2, 0)を除く。

第1講 レベルB

1

【解答】 2辺の長さ  $\sqrt{2}a, \sqrt{2}b$ ; 面積  $2ab$

【解説】

第1象限にある長方形の頂点をP(s, t) (s > 0, t > 0)とする。

このとき、長方形の面積Sは  $S = 2s \cdot 2t = 4st$

点Pは楕円上にあるから  $\frac{s^2}{a^2} + \frac{t^2}{b^2} = 1 \quad \dots\dots ①$

$\frac{s^2}{a^2} > 0, \frac{t^2}{b^2} > 0$  であるから、(相加平均) ≥ (相乗平均) により

$$\frac{s^2}{a^2} + \frac{t^2}{b^2} \geq 2\sqrt{\frac{s^2}{a^2} \cdot \frac{t^2}{b^2}} = \frac{2st}{ab}$$

よって、①から  $\frac{2st}{ab} \leq 1$  ゆえに  $S \leq 2ab$

$S = 2ab$  となるのは  $\frac{s}{a} = \frac{t}{b}$  のときで、このとき  $t = \frac{b}{a}s$  を①に代入して整理すると

$$s^2 = \frac{a^2}{2}$$

$s > 0, a > 0$  であるから  $s = \frac{a}{\sqrt{2}}$  ゆえに  $t = \frac{b}{\sqrt{2}}$

よって、求める長方形の2辺の長さは  $2s = \sqrt{2}a, 2t = \sqrt{2}b$ , 面積は  $2ab$

2

【解答】 略

【解説】

双曲線の方程式を  $\frac{x^2}{a^2} - \frac{y^2}{b^2} = 1 (a > 0, b > 0)$  とする。

このとき、漸近線は  $y = \pm \frac{b}{a}x$

すなわち  $bx - ay = 0, bx + ay = 0$

P(x<sub>1</sub>, y<sub>1</sub>)とすると  $\frac{x_1^2}{a^2} - \frac{y_1^2}{b^2} = 1 \quad \dots\dots ①$

また  $PQ \cdot PR = \frac{|bx_1 - ay_1|}{\sqrt{b^2 + a^2}} \cdot \frac{|bx_1 + ay_1|}{\sqrt{b^2 + a^2}} = \frac{|b^2x_1^2 - a^2y_1^2|}{a^2 + b^2}$

①から  $b^2x_1^2 - a^2y_1^2 = a^2b^2$

よって  $PQ \cdot PR = \frac{|a^2b^2|}{a^2 + b^2} = \frac{a^2b^2}{a^2 + b^2}$  (一定)

3

【解答】 略

【解説】

原点O以外で放物線と2直線は交点をもつから、2直線の方程式は  $x=0$  でも  $y=0$  でもない。

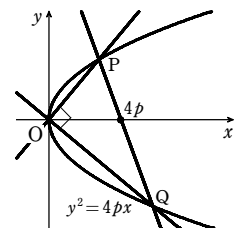
よって、直交する2直線の方程式は

$$y = mx, y = -\frac{1}{m}x (m \neq 0)$$

と表される。

$y = mx, y^2 = 4px$  から  $y$  を消去して

$$m^2x^2 = 4px$$



ゆえに、 $x \neq 0$  のとき  $x = \frac{4p}{m^2}$   
 $y = -\frac{1}{m}x$ ,  $y^2 = 4px$  から  $y$  を消去して  $\frac{1}{m^2}x^2 = 4px$

よって、 $x \neq 0$  のとき  $x = 4pm^2$   
 $P\left(\frac{4p}{m^2}, \frac{4p}{m}\right)$ ,  $Q(4pm^2, -4pm)$  …… ① とする。

$P, Q$  の  $x$  座標が一致するとき  $\frac{4p}{m^2} = 4pm^2$   
 ゆえに  $m^4 - 1 = 0$  よって  $(m^2 + 1)(m^2 - 1) = 0$   
 $m^2 + 1 > 0$  であるから  $m = \pm 1$

[1]  $m = \pm 1$  のとき  
 ① から、 $P, Q$  の  $x$  座標は、ともに  $x = 4p$  となる。  
 ゆえに、直線  $PQ$  は定点  $(4p, 0)$  を通る。

[2]  $m \neq \pm 1$  のとき  
 ① から、直線  $PQ$  の方程式は  

$$y = \frac{-4pm - \frac{4p}{m}}{4pm^2 - \frac{4p}{m^2}} \left(x - \frac{4p}{m^2}\right) + \frac{4p}{m}$$

ゆえに  $y = \frac{-m(m^2 + 1)}{m^4 - 1} \left(x - \frac{4p}{m^2}\right) + \frac{4p}{m}$

よって  $y = \frac{-m}{m^2 - 1} \cdot \frac{m^2x - 4p}{m^2} + \frac{4p}{m}$

ゆえに  $y = \frac{-m^2x + 4p + 4pm^2 - 4p}{m(m^2 - 1)}$

すなわち  $y = -\frac{m}{m^2 - 1}(x - 4p)$

よって、直線  $PQ$  は定点  $(4p, 0)$  を通る。  
 [1], [2] により、直線  $PQ$  は常に  $x$  軸上の定点  $(4p, 0)$  を通る。

**別解** ① を求めた後の別解  
 ① から、直線  $PQ$  の方程式は  

$$\left(-4pm - \frac{4p}{m}\right)\left(x - \frac{4p}{m^2}\right) - \left(4pm^2 - \frac{4p}{m^2}\right)\left(y - \frac{4p}{m}\right) = 0$$

よって  

$$\left(-m - \frac{1}{m}\right)\left(x - \frac{4p}{m^2}\right) - \left(m^2 - \frac{1}{m^2}\right)\left(y - \frac{4p}{m}\right) = 0$$

ゆえに  

$$\left(m + \frac{1}{m}\right)\left(-x + \frac{4p}{m^2} - \left(m - \frac{1}{m}\right)\left(y - \frac{4p}{m}\right)\right) = 0$$

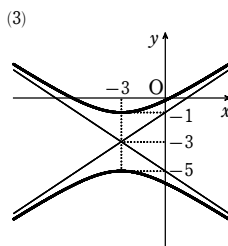
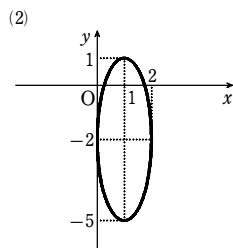
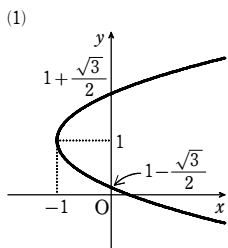
$m + \frac{1}{m} = \frac{m^2 + 1}{m} \neq 0$  であるから

$$-x - \left(m - \frac{1}{m}\right)y + 4p = 0$$

よって、直線  $PQ$  は常に  $x$  軸上の定点  $(4p, 0)$  を通る。

1

- 解答** (1) [図] 頂点は点  $(-1, 1)$ ; 焦点は点  $\left(-\frac{13}{16}, 1\right)$   
 (2) [図] 中心は点  $(1, -2)$ ; 焦点は2点  $(1, 2\sqrt{2}-2)$ ,  $(1, -2\sqrt{2}-2)$   
 (3) [図] 漸近線は2直線  $2x - 3y - 3 = 0$ ,  $2x + 3y + 15 = 0$ ;  
 焦点は2点  $(-3, \sqrt{13}-3)$ ,  $(-3, -\sqrt{13}-3)$



**解説**

(1)  $4y^2 - 8y - 3x + 1 = 0$  を変形すると  $4(y-1)^2 - 3(x+1) = 0$

よって  $(y-1)^2 = \frac{3}{4}(x+1)$  …… ①

曲線 ① は放物線  $y^2 = \frac{3}{4}x$  を  $x$  軸方向に  $-1$ ,  $y$  軸

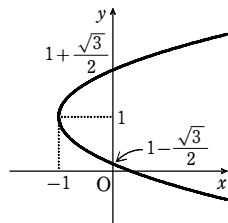
方向に  $1$  だけ平行移動したもので、その概形は [図] のようになる。

放物線  $y^2 = \frac{3}{4}x$  の頂点は原点  $(0, 0)$ , 焦点は点

$\left(\frac{3}{16}, 0\right)$  である。

よって、放物線 ① の頂点は 点  $(-1, 1)$ , 焦点は 点  $\left(-\frac{13}{16}, 1\right)$

(2)  $9x^2 + y^2 - 18x + 4y + 4 = 0$  を変形すると  $9(x-1)^2 + (y+2)^2 = 9$



よって  $(x-1)^2 + \frac{(y+2)^2}{9} = 1$  …… ①

曲線 ① は、楕円  $x^2 + \frac{y^2}{9} = 1$  を  $x$  軸方向に  $1$ ,  $y$  軸方向に  $-2$  だけ平行移動したもので、その概形は [図] のようになる。

楕円  $x^2 + \frac{y^2}{9} = 1$  の中心は原点  $(0, 0)$ , 焦点は2点  $(0, 2\sqrt{2})$ ,  $(0, -2\sqrt{2})$  である。

よって、楕円 ① の中心は 点  $(1, -2)$ ,

焦点は 2点  $(1, 2\sqrt{2}-2)$ ,  $(1, -2\sqrt{2}-2)$

(3)  $4x^2 - 9y^2 + 24x - 54y - 9 = 0$  を変形すると  $4(x+3)^2 - 9(y+3)^2 = -36$

よって  $\frac{(x+3)^2}{9} - \frac{(y+3)^2}{4} = -1$  …… ①

曲線 ① は双曲線  $\frac{x^2}{9} - \frac{y^2}{4} = -1$  を  $x$  軸方向に  $-3$ ,  $y$  軸方向に  $-3$  だけ平行移動したもので、その概形は [図] のようになる。

双曲線  $\frac{x^2}{9} - \frac{y^2}{4} = -1$  の漸近線は、2直線

$$\frac{x}{3} - \frac{y}{2} = 0, \frac{x}{3} + \frac{y}{2} = 0$$

すなわち  $2x - 3y = 0$ ,  $2x + 3y = 0$

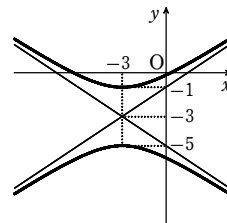
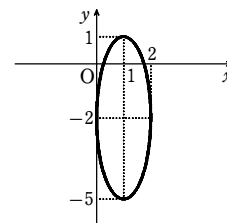
焦点は2点  $(0, \sqrt{13})$ ,  $(0, -\sqrt{13})$  である。

よって、双曲線 ① の漸近線は、2直線

$$2(x+3) - 3(y+3) = 0, 2(x+3) + 3(y+3) = 0$$

すなわち  $2x - 3y - 3 = 0$ ,  $2x + 3y + 15 = 0$

焦点は 2点  $(-3, \sqrt{13}-3)$ ,  $(-3, -\sqrt{13}-3)$



2

**解答**  $\frac{x^2}{25} + \frac{y^2}{4} = 1$

**解説**

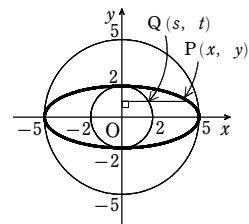
円上に点  $Q(s, t)$  をとり、 $Q$  が移る点を  $P(x, y)$  とすると

$$x = \frac{5}{2}s, y = t$$

ゆえに  $s = \frac{2}{5}x, t = y$

$s^2 + t^2 = 4$  であるから  $\left(\frac{2}{5}x\right)^2 + y^2 = 4$

よって、求める方程式は  $\frac{x^2}{25} + \frac{y^2}{4} = 1$



3

**解答**  $\frac{x^2}{2} - \frac{y^2}{10} = 1$

**解説**

原点を中心とする  $\frac{\pi}{4}$  の回転によって、双曲線上の点  $Q(X, Y)$  が点  $P(x, y)$  に移るとす

第2講 例題

る。  
 点 Q は、点 P を原点を中心として  $-\frac{\pi}{4}$  だけ回転した点であるから、複素数平面で考え

$$X + Yi = \left( \cos\left(-\frac{\pi}{4}\right) + i \sin\left(-\frac{\pi}{4}\right) \right) (x + yi)$$

$$= \left( \frac{1}{\sqrt{2}} - \frac{1}{\sqrt{2}}i \right) (x + yi)$$

$$= \frac{1}{\sqrt{2}}(x + y) + \frac{1}{\sqrt{2}}(-x + y)i$$

よって  $X = \frac{1}{\sqrt{2}}(x + y)$ ,  $Y = \frac{1}{\sqrt{2}}(-x + y)$  …… ①

点 Q は曲線  $x^2 - 3xy + y^2 = 5$  上にあるから  $X^2 - 3XY + Y^2 = 5$

この式に ① を代入して  $\frac{1}{2}(x + y)^2 - \frac{3}{2}(x + y)(-x + y) + \frac{1}{2}(-x + y)^2 = 5$

整理すると  $\frac{x^2}{2} - \frac{y^2}{10} = 1$

【参考】①の式は、次のように三角関数の加法定理を用いて求めることもできる。

OP = r, x 軸の正の向きから半直線 OP までの回転角を  $\theta$  とすると  
 $x = r \cos \theta$ ,  $y = r \sin \theta$

また、OQ = r で、x 軸の正の向きから半直線 OQ までの回転角は  $\theta - \frac{\pi}{4}$  であるから

$$X = r \cos\left(\theta - \frac{\pi}{4}\right) = r \cos \theta \cos \frac{\pi}{4} + r \sin \theta \sin \frac{\pi}{4} = \frac{1}{\sqrt{2}}(x + y)$$

$$Y = r \sin\left(\theta - \frac{\pi}{4}\right) = r \sin \theta \cos \frac{\pi}{4} - r \cos \theta \sin \frac{\pi}{4} = \frac{1}{\sqrt{2}}(-x + y)$$

4

【解答】  $k < -\sqrt{3}$ ,  $\sqrt{3} < k$  のとき 2 個,  $k = \pm\sqrt{3}$  のとき 1 個,  
 $-\sqrt{3} < k < \sqrt{3}$  のとき 0 個

【解説】

$$\begin{cases} x^2 - 4y^2 = 4 & \dots\dots ① \\ y = x + k & \dots\dots ② \end{cases}$$

② を ① に代入すると  $x^2 - 4(x + k)^2 = 4$

整理すると  $3x^2 + 8kx + 4k^2 + 4 = 0$

この 2 次方程式の判別式を D とすると

$$\frac{D}{4} = (4k)^2 - 3(4k^2 + 4) = 4k^2 - 12 = 4(k^2 - 3)$$

$$= 4(k + \sqrt{3})(k - \sqrt{3})$$

① と ② の共有点の個数は

D > 0 すなわち  $k < -\sqrt{3}$ ,  $\sqrt{3} < k$  のとき 2 個

D = 0 すなわち  $k = \pm\sqrt{3}$  のとき 1 個

D < 0 すなわち  $-\sqrt{3} < k < \sqrt{3}$  のとき 0 個

5

【解答】 (3, 4),  $8\sqrt{2}$

【解説】

$y = 3x - 5$  …… ①,  $4x^2 - y^2 = 4$  …… ② とする。

① と ② の 2 つの交点を P( $x_1$ ,  $y_1$ ), Q( $x_2$ ,  $y_2$ ) とする。

①, ② から y を消去すると  $5x^2 - 30x + 29 = 0$  …… ③

$x_1, x_2$  は 2 次方程式 ③ の異なる 2 つの実数解である。

ここで、③ において、解と係数の関係から

$$x_1 + x_2 = 6 \dots\dots ④, \quad x_1 x_2 = \frac{29}{5} \dots\dots ⑤$$

線分 PQ の中点の座標は  $\left( \frac{x_1 + x_2}{2}, 3 \cdot \frac{x_1 + x_2}{2} - 5 \right)$

④ を代入して (3, 4)

また  $PQ^2 = (x_2 - x_1)^2 + (y_2 - y_1)^2 = (x_2 - x_1)^2 + 9(x_2 - x_1)^2$   
 $= 10(x_2 - x_1)^2 = 10[(x_1 + x_2)^2 - 4x_1 x_2]$

④, ⑤ を代入して  $PQ^2 = 10\left(6^2 - 4 \cdot \frac{29}{5}\right) = 128$

よって  $PQ = \sqrt{128} = 8\sqrt{2}$

6

【解答】 (1)  $-\sqrt{5} < k < \sqrt{5}$  (2) 直線  $y = -\frac{1}{4}x$  ( $-\frac{4\sqrt{5}}{5} < x < \frac{4\sqrt{5}}{5}$ )

【解説】

(1)  $x^2 + 4y^2 = 4$  …… ①,  $y = x + k$  …… ②

② を ① に代入すると  $x^2 + 4(x + k)^2 = 4$

整理すると  $5x^2 + 8kx + 4(k^2 - 1) = 0$  …… ③

求める条件は、2 次方程式 ③ が異なる 2 つの実数解をもつ条件であるから、判別式を D とすると  $D > 0$

$$\frac{D}{4} = 16k^2 - 20(k^2 - 1) = 4(-k^2 + 5)$$

よって  $-k^2 + 5 > 0$  これを解いて  $-\sqrt{5} < k < \sqrt{5}$

(2) k が (1) で求めた範囲内にあるとき、方程式 ③ は異なる 2 つの実数解  $x_1, x_2$  をもち、これらは P, Q の x 座標である。

よって、線分 PQ の中点 R の座標を (x, y) とすると、③ の解と係数の関係から

$$x = \frac{x_1 + x_2}{2} = -\frac{4}{5}k \dots\dots ④, \quad y = x + k = -\frac{4}{5}k + k = \frac{1}{5}k \dots\dots ⑤$$

④, ⑤ から、k を消去すると  $y = -\frac{1}{4}x$

④ から  $k = -\frac{5}{4}x$  (1) から  $-\sqrt{5} < -\frac{5}{4}x < \sqrt{5}$  よって  $-\frac{4\sqrt{5}}{5} < x < \frac{4\sqrt{5}}{5}$

したがって、線分 PQ の中点 R の軌跡は

$$\text{直線 } y = -\frac{1}{4}x \text{ の } -\frac{4\sqrt{5}}{5} < x < \frac{4\sqrt{5}}{5} \text{ の部分}$$

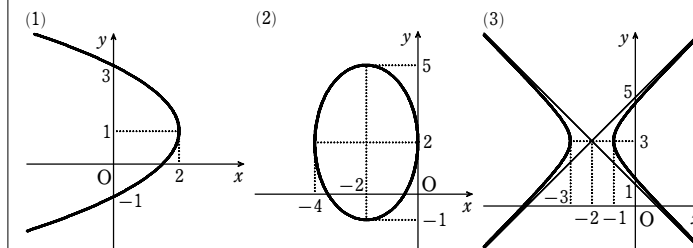
第2講 例題演習

1

【解答】 (1) 放物線  $y^2 = -2x$  を x 軸方向に 2, y 軸方向に 1 だけ平行移動した放物線,  
 【図】

(2) 楕円  $\frac{x^2}{4} + \frac{y^2}{9} = 1$  を x 軸方向に -2, y 軸方向に 2 だけ平行移動した楕円,  
 【図】

(3) 双曲線  $x^2 - y^2 = 1$  を x 軸方向に -2, y 軸方向に 3 だけ平行移動した双曲線,  
 【図】



【解説】

(1) 方程式を変形すると  $(y - 1)^2 + 2(x - 2) = 0$

よって  $(y - 1)^2 = -2(x - 2)$

この曲線は、放物線  $y^2 = -2x$  を x 軸方向に 2, y 軸方向に 1 だけ平行移動した放物線である。また、その概形は【図】のようになる。

(2) 方程式を変形すると  $9(x + 2)^2 + 4(y - 2)^2 = 36$

$$\text{よって } \frac{(x + 2)^2}{4} + \frac{(y - 2)^2}{9} = 1$$

この曲線は、楕円  $\frac{x^2}{4} + \frac{y^2}{9} = 1$  を x 軸方向に -2, y 軸方向に 2 だけ平行移動した楕円である。また、その概形は【図】のようになる。

(3) 方程式を変形すると  $(x + 2)^2 - (y - 3)^2 = 1$

この曲線は、双曲線  $x^2 - y^2 = 1$  を x 軸方向に -2, y 軸方向に 3 だけ平行移動した双曲線である。また、その概形は【図】のようになる。

2

【解答】 (1) 楕円  $\frac{x^2}{25} + \frac{y^2}{4} = 1$  (2) 楕円  $\frac{x^2}{100} + \frac{y^2}{25} = 1$

第2講 例題演習

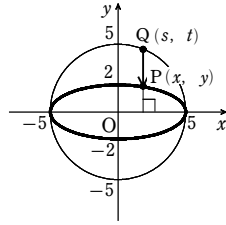
解説

(1) 円上に点Q(s, t)をとり, Qが移る点をP(x, y)とする

$$x=s, y=\frac{2}{5}t \quad \text{ゆえに} \quad s=x, t=\frac{5}{2}y$$

$$s^2+t^2=25 \text{ であるから} \quad x^2+\left(\frac{5}{2}y\right)^2=25$$

$$\text{よって 楕円} \quad \frac{x^2}{25}+\frac{y^2}{4}=1$$

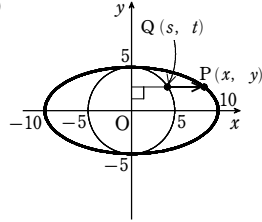


(2) 円上に点Q(s, t)をとり, Qが移る点をP(x, y)とする

$$x=2s, y=t \quad \text{ゆえに} \quad s=\frac{x}{2}, t=y$$

$$s^2+t^2=25 \text{ であるから} \quad \left(\frac{x}{2}\right)^2+y^2=25$$

$$\text{よって 楕円} \quad \frac{x^2}{100}+\frac{y^2}{25}=1$$



3

解答 (1)  $xy=1$  (2)  $13x^2-6\sqrt{3}xy+7y^2=16$

(3)  $x^2+2\sqrt{3}xy+3y^2-8\sqrt{3}x+8y=0$

解説

(1) 原点を中心とする  $\frac{\pi}{4}$  の回転によって, 双曲線上の点Q(X, Y)が点P(x, y)に移るとする。

点Qは, 点Pを原点を中心として  $-\frac{\pi}{4}$  だけ回転した点であるから, 複素数平面で考

$$\begin{aligned} \text{えると} \quad X+Yi &= \left\{ \cos\left(-\frac{\pi}{4}\right) + i\sin\left(-\frac{\pi}{4}\right) \right\} (x+yi) = \left( \frac{1}{\sqrt{2}} - \frac{1}{\sqrt{2}}i \right) (x+yi) \\ &= \frac{1}{\sqrt{2}}(x+y) + \frac{1}{\sqrt{2}}(-x+y)i \end{aligned}$$

$$\text{したがって} \quad X=\frac{1}{\sqrt{2}}(x+y), Y=\frac{1}{\sqrt{2}}(-x+y) \quad \text{…… ①}$$

点Qは双曲線  $x^2-y^2=2$  上にあるから  $X^2-Y^2=2$

$$\text{これに①を代入すると} \quad \frac{1}{2}(x+y)^2 - \frac{1}{2}(-x+y)^2 = 2$$

$$\text{よって, 求める曲線の方程式は} \quad xy=1$$

(2) 原点を中心とする  $\frac{\pi}{3}$  の回転によって, 楕円上の点Q(X, Y)が点P(x, y)に移るとする。

点Qは, 点Pを原点を中心として  $-\frac{\pi}{3}$  だけ回転した点であるから, 複素数平面で考

$$\begin{aligned} \text{えると} \quad X+Yi &= \left\{ \cos\left(-\frac{\pi}{3}\right) + i\sin\left(-\frac{\pi}{3}\right) \right\} (x+yi) = \left( \frac{1}{2} - \frac{\sqrt{3}}{2}i \right) (x+yi) \\ &= \frac{1}{2}(x+\sqrt{3}y) + \frac{1}{2}(-\sqrt{3}x+y)i \end{aligned}$$

$$\text{したがって} \quad X=\frac{1}{2}(x+\sqrt{3}y), Y=\frac{1}{2}(-\sqrt{3}x+y) \quad \text{…… ①}$$

$$\text{点Qは楕円} \quad \frac{x^2}{4}+y^2=1 \text{ 上にあるから} \quad \frac{X^2}{4}+Y^2=1$$

$$\text{これに①を代入すると} \quad \frac{1}{4} \cdot \frac{1}{4}(x+\sqrt{3}y)^2 + \frac{1}{4}(-\sqrt{3}x+y)^2 = 1$$

$$\text{よって, 求める曲線の方程式は} \quad 13x^2-6\sqrt{3}xy+7y^2=16$$

(3) 原点を中心とする  $-\frac{\pi}{6}$  の回転によって, 放物線上の点Q(X, Y)が点P(x, y)に移るとする。

点Qは, 点Pを原点を中心として  $\frac{\pi}{6}$  だけ回転した点であるから, 複素数平面で考

$$\begin{aligned} \text{ると} \quad X+Yi &= \left( \cos\frac{\pi}{6} + i\sin\frac{\pi}{6} \right) (x+yi) = \left( \frac{\sqrt{3}}{2} + \frac{1}{2}i \right) (x+yi) \\ &= \frac{1}{2}(\sqrt{3}x-y) + \frac{1}{2}(x+\sqrt{3}y)i \end{aligned}$$

$$\text{したがって} \quad X=\frac{1}{2}(\sqrt{3}x-y), Y=\frac{1}{2}(x+\sqrt{3}y) \quad \text{…… ①}$$

点Qは放物線  $y^2=4x$  上にあるから  $Y^2=4X$

$$\text{これに①を代入すると} \quad \frac{1}{4}(x+\sqrt{3}y)^2 = 4 \cdot \frac{1}{2}(\sqrt{3}x-y)$$

$$\text{よって, 求める曲線の方程式は} \quad x^2+2\sqrt{3}xy+3y^2-8\sqrt{3}x+8y=0$$

4

解答 (1)  $k > -\frac{1}{2}$  のとき2個;  $k = -\frac{1}{2}$  のとき1個;  $k < -\frac{1}{2}$  のとき0個

(2)  $k < -\sqrt{21}$ ,  $\sqrt{21} < k$  のとき2個;  $k = \pm\sqrt{21}$  のとき1個;  $-\sqrt{21} < k < \sqrt{21}$  のとき0個

解説

(1)  $\begin{cases} y^2 = -4x & \text{…… ①} \\ y = 2x + k & \text{…… ②} \end{cases}$

②を①に代入すると  $(2x+k)^2 = -4x$

整理すると  $4x^2 + 4(k+1)x + k^2 = 0$

この2次方程式の判別式をDとすると  $\frac{D}{4} = \{2(k+1)\}^2 - 4k^2 = 8k+4$

①と②の共有点の個数は

$$D > 0 \text{ すなわち } k > -\frac{1}{2} \text{ のとき2個}$$

$$D = 0 \text{ すなわち } k = -\frac{1}{2} \text{ のとき1個}$$

$$D < 0 \text{ すなわち } k < -\frac{1}{2} \text{ のとき0個}$$

(2)  $\begin{cases} 4x^2 - 25y^2 = 100 & \text{…… ①} \\ x + y = k & \text{…… ②} \end{cases}$

②から  $y = k - x$  …… ②'

②'を①に代入すると  $4x^2 - 25(k-x)^2 = 100$

整理すると  $21x^2 - 50kx + 25(k^2+4) = 0$

この2次方程式の判別式をDとすると

$$\begin{aligned} \frac{D}{4} &= (-25k)^2 - 21 \cdot 25(k^2+4) = 100(k^2-21) \\ &= 100(k+\sqrt{21})(k-\sqrt{21}) \end{aligned}$$

①と②の共有点の個数は

$$D > 0 \text{ すなわち } k < -\sqrt{21}, \sqrt{21} < k \text{ のとき2個}$$

$$D = 0 \text{ すなわち } k = \pm\sqrt{21} \text{ のとき1個}$$

$$D < 0 \text{ すなわち } -\sqrt{21} < k < \sqrt{21} \text{ のとき0個}$$

5

解答 (1) (7, 4),  $8\sqrt{5}$  (2)  $\left(\frac{4}{13}, \frac{3}{13}\right), \frac{8\sqrt{30}}{13}$  (3)  $\left(\frac{12}{7}, \frac{3}{7}\right), \frac{2\sqrt{55}}{7}$

解説

(1)  $y^2=8x$  …… ①,  $x-y=3$  …… ② とする。

①と②の2つの交点をP(x<sub>1</sub>, y<sub>1</sub>), Q(x<sub>2</sub>, y<sub>2</sub>)とする。

②から  $y = x - 3$

これを①に代入して, yを消去すると

$$x^2 - 14x + 9 = 0 \quad \text{…… ③}$$

x<sub>1</sub>, x<sub>2</sub>は2次方程式③の異なる2つの実数解である。

ここで, ③において, 解と係数の関係から

$$x_1 + x_2 = 14 \quad \text{…… ④}, x_1 x_2 = 9 \quad \text{…… ⑤}$$

線分PQの中点の座標は  $\left(\frac{x_1+x_2}{2}, \frac{x_1+x_2}{2} - 3\right)$

④を代入して (7, 4)

また  $PQ^2 = (x_2-x_1)^2 + (y_2-y_1)^2 = (x_2-x_1)^2 + (x_2-x_1)^2 = 2(x_2-x_1)^2 = 2\{(x_1+x_2)^2 - 4x_1x_2\}$

④, ⑤を代入して  $PQ^2 = 2(14^2 - 4 \cdot 9) = 320$

したがって  $PQ = 8\sqrt{5}$

(2)  $x^2+4y^2=4$  …… ①,  $x+3y=1$  …… ② とする。

①と②の2つの交点をP(x<sub>1</sub>, y<sub>1</sub>), Q(x<sub>2</sub>, y<sub>2</sub>)とする。

②から  $x = 1 - 3y$

これを①に代入して, xを消去すると

$$13y^2 - 6y - 3 = 0 \quad \text{…… ③}$$

y<sub>1</sub>, y<sub>2</sub>は2次方程式③の異なる2つの実数解である。

ここで, ③において, 解と係数の関係から

$$y_1 + y_2 = \frac{6}{13} \quad \text{…… ④}, y_1 y_2 = -\frac{3}{13} \quad \text{…… ⑤}$$

線分PQの中点の座標は  $\left(1 - 3 \cdot \frac{y_1+y_2}{2}, \frac{y_1+y_2}{2}\right)$

④を代入して  $\left(\frac{4}{13}, \frac{3}{13}\right)$

また  $PQ^2 = (x_2-x_1)^2 + (y_2-y_1)^2 = 9(y_2-y_1)^2 + (y_2-y_1)^2 = 10(y_2-y_1)^2 = 10\{(y_1+y_2)^2 - 4y_1y_2\}$

④, ⑤を代入して  $PQ^2 = 10\left\{\left(\frac{6}{13}\right)^2 - 4 \cdot \left(-\frac{3}{13}\right)\right\} = \frac{1920}{169}$

したがって  $PQ = \frac{8\sqrt{30}}{13}$

(3)  $x^2-2y^2=1$  …… ①,  $2x-y=3$  …… ② とする。

①と②の2つの交点をP(x<sub>1</sub>, y<sub>1</sub>), Q(x<sub>2</sub>, y<sub>2</sub>)とする。

②から  $y = 2x - 3$



これを①に代入して、 $y$ を消去すると

$$7x^2 - 24x + 19 = 0 \quad \dots\dots ③$$

$x_1, x_2$ は2次方程式③の異なる2つの実数解である。

ここで、③において、解と係数の関係から

$$x_1 + x_2 = \frac{24}{7} \quad \dots\dots ④, \quad x_1 x_2 = \frac{19}{7} \quad \dots\dots ⑤$$

線分PQの中点の座標は  $\left(\frac{x_1+x_2}{2}, 2 \cdot \frac{x_1+x_2}{2} - 3\right)$

④を代入して  $\left(\frac{12}{7}, \frac{3}{7}\right)$

また  $PQ^2 = (x_2 - x_1)^2 + (y_2 - y_1)^2 = (x_2 - x_1)^2 + 4(x_2 - x_1)^2 = 5(x_2 - x_1)^2 = 5\left(\frac{24}{7}\right)^2 - 4 \cdot \frac{19}{7} = \frac{220}{49}$

④、⑤を代入して  $PQ^2 = 5\left[\left(\frac{24}{7}\right)^2 - 4 \cdot \frac{19}{7}\right] = \frac{220}{49}$

したがって  $PQ = \frac{2\sqrt{55}}{7}$

6

解答 (1)  $k < -\sqrt{2}, \sqrt{2} < k$  (2) 直線  $y = \frac{1}{3}x$  の  $x < -\frac{3}{\sqrt{2}}, \frac{3}{\sqrt{2}} < x$  の部分

解説

(1) 2つの方程式から、 $y$ を消去すると  $2x^2 + 6kx + 3k^2 + 3 = 0 \quad \dots\dots ①$

2次方程式①の判別式を  $D$  とすると  $\frac{D}{4} = (3k)^2 - 2(3k^2 + 3) = 3(k^2 - 2)$

異なる2点で交わるから  $D > 0$

ゆえに  $k^2 - 2 > 0$  よって  $k < -\sqrt{2}, \sqrt{2} < k$

(2) ①の異なる2つの実数解を  $x_1, x_2$  とし、線分の中点の座標を  $(x, y)$  とすると

$$x = \frac{x_1+x_2}{2} = \frac{1}{2}\left(-\frac{6k}{2}\right) = -\frac{3}{2}k, \quad y = x+k = -\frac{3}{2}k+k = -\frac{1}{2}k$$

$k$ を消去して  $x=3y$  (1)から  $x < -\frac{3}{\sqrt{2}}, \frac{3}{\sqrt{2}} < x$

よって、求める軌跡は 直線  $y = \frac{1}{3}x$  の  $x < -\frac{3}{\sqrt{2}}, \frac{3}{\sqrt{2}} < x$  の部分

1

解答 (ア)  $(-2, 5+\sqrt{5})$  (イ) 6

解説

与えられた楕円の方程式を変形すると

$$9(x^2+4x+4) - 9 \cdot 4 + 4(y^2-10y+25) - 4 \cdot 25 + 100 = 0$$

すなわち  $9(x+2)^2 + 4(y-5)^2 = 36$

よって  $\frac{(x+2)^2}{4} + \frac{(y-5)^2}{9} = 1 \quad \dots\dots ①$

これは楕円  $\frac{x^2}{4} + \frac{y^2}{9} = 1 \quad \dots\dots ②$  を  $x$ 軸方向に  $-2$ ,

$y$ 軸方向に  $5$ だけ平行移動した楕円を表す。

$\sqrt{9-4} = \sqrt{5}$  より、楕円②の焦点の座標は

$$(0, \sqrt{5}), (0, -\sqrt{5})$$

長軸の長さは  $2 \cdot 3 = 6$

ゆえに、楕円①の2つの焦点のうち、 $y$ 座標が大きい方

の座標は  $(-2, 5+\sqrt{5})$

長軸の長さは  $6$

2

解答  $k = -1$

解説

$9x^2 + y^2 + 18kx - 2(k+2)y - 16k - 9 = 0$  から

$$9(x^2 + 2kx) + y^2 - 2(k+2)y - 16k - 9 = 0$$

よって  $9(x+k)^2 - 9k^2 + [y - (k+2)]^2 - (k+2)^2 - 16k - 9 = 0$

すなわち  $9(x+k)^2 + [y - (k+2)]^2 = 10k^2 + 20k + 13$

$10k^2 + 20k + 13 = 10(k+1)^2 + 3 > 0$  であるから、与えられた方程式はすべての実数  $k$  に対して楕円を表す。

$10(k+1)^2 + 3 = r$  とおくと  $\frac{(x+k)^2}{\left(\frac{\sqrt{r}}{3}\right)^2} + \frac{[y - (k+2)]^2}{(\sqrt{r})^2} = 1$

よって、長軸の長さ  $\times$  短軸の長さの積は  $\frac{2\sqrt{r}}{3} \cdot 2\sqrt{r} = \frac{4}{3}r = \frac{4}{3}\{10(k+1)^2 + 3\}$

これが最小となる  $k$  の値は  $k = -1$

3

解答 (1) 双曲線  $\frac{(x+3)^2}{16} - \frac{(y-2)^2}{9} = -1$  (2) 放物線  $(y+1)^2 = 8(x-1)$

解説

(1) 軌跡は点  $(-3, 2)$  を中心とする双曲線である。

2点  $(-3, -3), (-3, 7)$  を  $x$ 軸方向に  $3$ 、 $y$ 軸方向に  $-2$  だけ平行移動すると2点  $(0, -5), (0, 5)$

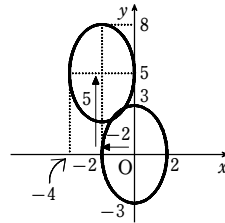
2点  $(0, -5), (0, 5)$  を焦点とする双曲線の方程式は

$$\frac{x^2}{a^2} - \frac{y^2}{b^2} = -1 \quad (a > 0, b > 0) \quad \dots\dots ①$$
 と表される。

焦点からの距離の差が  $6$  であるから  $2b = 6$  よって  $b = 3$

焦点の座標について、 $\sqrt{a^2 + b^2} = 5$  であるから  $a^2 + b^2 = 25$

$b = 3$  であるから  $a^2 = 16$



ゆえに、①は  $\frac{x^2}{16} - \frac{y^2}{9} = -1$

よって、軌跡は 双曲線  $\frac{(x+3)^2}{16} - \frac{(y-2)^2}{9} = -1$

別解 A  $(-3, -3)$ , B  $(-3, 7)$ , 軌跡上の点を P  $(x, y)$  とする。

AP - BP =  $\pm 6$  であるから

$$\sqrt{(x+3)^2 + (y+3)^2} - \sqrt{(x+3)^2 + (y-7)^2} = \pm 6$$

よって  $\sqrt{(x+3)^2 + (y+3)^2} = \pm 6 + \sqrt{(x+3)^2 + (y-7)^2}$

両辺を2乗して

$$(x+3)^2 + (y+3)^2 = 36 \pm 12\sqrt{(x+3)^2 + (y-7)^2} + (x+3)^2 + (y-7)^2$$

よって  $y^2 + 6y + 9 = \pm 12\sqrt{(x+3)^2 + (y-7)^2} + y^2 - 14y + 85$

ゆえに  $\pm 3\sqrt{(x+3)^2 + (y-7)^2} = 5y - 19$

この式の両辺を2乗して整理すると  $9(x+3)^2 - 16(y-2)^2 = -144$

したがって、求める軌跡は 双曲線  $\frac{(x+3)^2}{16} - \frac{(y-2)^2}{9} = -1$

(2) 軌跡は点  $(1, -1)$  を頂点とする放物線である。

点  $(3, -1)$  と直線  $x = -1$  を  $x$ 軸方向に  $-1$ 、 $y$ 軸方向に  $1$  だけ平行移動すると点  $(2, 0)$ 、直線  $x = -2$

焦点が点  $(2, 0)$ 、準線が直線  $x = -2$  である放物線の方程式は

$$y^2 = 8x$$

よって、軌跡は 放物線  $(y+1)^2 = 8(x-1)$

別解 A  $(3, -1)$ ,  $l: x = -1$ , 軌跡上の点を P  $(x, y)$  とする。

また、P から  $l$  に下ろした垂線を PH とすると AP = PH

ゆえに  $\sqrt{(x-3)^2 + (y+1)^2} = |x - (-1)|$

両辺を2乗して  $(x-3)^2 + (y+1)^2 = (x+1)^2$

整理して  $(y+1)^2 = 8(x-1)$

したがって、求める軌跡は 放物線  $(y+1)^2 = 8(x-1)$

4

解答 (ア) 2 (イ) 0 (ウ) 6 (エ) 楕円

解説

曲線  $3x^2 + 2\sqrt{3}xy + 5y^2 = 1$  上の点 P  $(X, Y)$  を原点を中心として  $\frac{\pi}{6}$  だけ回転した点を

Q  $(x, y)$  とすると  $3X^2 + 2\sqrt{3}XY + 5Y^2 = 1 \quad \dots\dots ①$

P は Q を原点を中心として  $-\frac{\pi}{6}$  だけ回転した点であるから、複素数平面で考えると

$$\begin{aligned} X + Yi &= \left[ \cos\left(-\frac{\pi}{6}\right) + i \sin\left(-\frac{\pi}{6}\right) \right] (x + yi) = \left( \frac{\sqrt{3}}{2} - \frac{1}{2}i \right) (x + yi) \\ &= \frac{1}{2}(\sqrt{3}x + y) + \frac{1}{2}(\sqrt{3}y - x)i \end{aligned}$$

よって  $X = \frac{1}{2}(\sqrt{3}x + y), Y = \frac{1}{2}(\sqrt{3}y - x)$

これを①に代入して整理すると  $7x^2 + 10xy + 7y^2 = 1$

これは楕円を表すから、もとの曲線は楕円である。

5

解答 (1) (ア)  $k < -4, 4 < k$  (イ)  $-4 < k < 4$

(2)  $k = \sqrt{6}$  のとき接点  $\left(-\frac{4\sqrt{6}}{5}, \frac{1}{5}\right)$ ,  $k = -\sqrt{6}$  のとき接点  $\left(\frac{4\sqrt{6}}{5}, \frac{1}{5}\right)$

解説

(1) 
$$\begin{cases} x^2 - y^2 = 2 & \dots\dots ① \\ y = 3x + k & \dots\dots ② \end{cases}$$

②を①に代入すると  $x^2 - (3x + k)^2 = 2$

整理すると  $8x^2 + 6kx + k^2 + 2 = 0$

この2次方程式の判別式を  $D$  とすると

$$\frac{D}{4} = (3k)^2 - 8(k^2 + 2) = (k + 4)(k - 4)$$

(ア) ①と②が異なる2点で交わるための条件は

$$D > 0 \text{ すなわち } (k + 4)(k - 4) > 0$$

よって  $k < -4, 4 < k$

(イ) ①と②が共有点をもたないための条件は

$$D < 0 \text{ すなわち } (k + 4)(k - 4) < 0$$

よって  $-4 < k < 4$

(2) 
$$\begin{cases} x^2 + 4y^2 = 4 & \dots\dots ① \\ y = kx + 5 & \dots\dots ② \end{cases}$$

②を①に代入すると  $x^2 + 4(kx + 5)^2 = 4$

整理すると  $(4k^2 + 1)x^2 + 40kx + 96 = 0 \dots\dots ③$

この2次方程式の判別式を  $D$  とすると  $\frac{D}{4} = (20k)^2 - (4k^2 + 1) \cdot 96 = 16(k^2 - 6)$

①と②が接するための条件は  $D = 0$  すなわち  $16(k^2 - 6) = 0$

よって  $k^2 = 6$  ゆえに  $k = \pm\sqrt{6}$

接点の  $x$  座標は、③から  $x = -\frac{40k}{2(4k^2 + 1)} = -\frac{20k}{4 \cdot 6 + 1} = -\frac{4}{5}k$

接点の  $y$  座標は、②から  $y = k \cdot \left(-\frac{4}{5}k\right) + 5 = -\frac{4}{5}k^2 + 5 = -\frac{4}{5} \cdot 6 + 5 = \frac{1}{5}$

よって、接点の座標は

$$k = \sqrt{6} \text{ のとき } \left(-\frac{4\sqrt{6}}{5}, \frac{1}{5}\right), \quad k = -\sqrt{6} \text{ のとき } \left(\frac{4\sqrt{6}}{5}, \frac{1}{5}\right)$$

6

解答  $-\frac{\sqrt{5}}{2} < k < \frac{\sqrt{5}}{2}, y = \frac{1}{4}x \left(-\frac{2\sqrt{5}}{5} < x < \frac{2\sqrt{5}}{5}\right)$

解説

$y = -x + k$  を  $x^2 + 4y^2 = 1$  に代入すると  $x^2 + 4(-x + k)^2 = 1$

整理すると  $5x^2 - 8kx + 4k^2 - 1 = 0 \dots\dots ①$

この  $x$  の2次方程式①の判別式を  $D$  とすると

$$\frac{D}{4} = (-4k)^2 - 5(4k^2 - 1) = -4k^2 + 5$$

楕円  $x^2 + 4y^2 = 1$  と直線  $y = -x + k$  が異なる2点で交わるのは  $D > 0$  のときであるから

$$-4k^2 + 5 > 0$$

これを解くと  $-\frac{\sqrt{5}}{2} < k < \frac{\sqrt{5}}{2} \dots\dots ②$

2点  $P, Q$  の  $x$  座標をそれぞれ  $\alpha, \beta$  とする。  
 $\alpha, \beta$  は方程式①の解であるから、解と係数の関係により  $\alpha + \beta = \frac{8}{5}k$

$$\alpha + \beta = \frac{8}{5}k$$

線分  $PQ$  の中点  $M$  の座標が  $(x, y)$  であるから

$$x = \frac{\alpha + \beta}{2} = \frac{1}{2} \cdot \frac{8}{5}k = \frac{4}{5}k \dots\dots ③$$

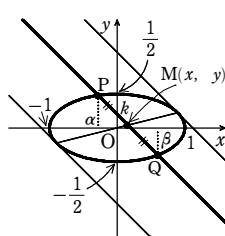
$$y = -x + k = -\frac{4}{5}k + k = \frac{1}{5}k \dots\dots ④$$

③, ④から  $k$  を消去すると  $y = \frac{1}{4}x$

また、②より  $\frac{4}{5}\left(-\frac{\sqrt{5}}{2}\right) < \frac{4}{5}k < \frac{4}{5} \cdot \frac{\sqrt{5}}{2}$

よって、③から  $-\frac{2\sqrt{5}}{5} < x < \frac{2\sqrt{5}}{5}$

したがって  $y = \frac{1}{4}x \left(-\frac{2\sqrt{5}}{5} < x < \frac{2\sqrt{5}}{5}\right)$



1

解答 略

解説

$$\frac{x^2}{a^2} + \frac{y^2}{b^2} = 1 \dots\dots ①, \quad \frac{x_1x}{a^2} + \frac{y_1y}{b^2} = 1 \dots\dots ② \text{ とする。}$$

①, ②から  $y$  を消去して整理すると

$$\left(\frac{x_1^2}{a^2} + \frac{y_1^2}{b^2}\right)x^2 - 2x_1x + a^2\left(1 - \frac{y_1^2}{b^2}\right) = 0 \dots\dots ③$$

また、点  $P(x_1, y_1)$  は楕円①上の点であるから  $\frac{x_1^2}{a^2} + \frac{y_1^2}{b^2} = 1, 1 - \frac{y_1^2}{b^2} = \frac{x_1^2}{a^2}$

よって  $x^2 - 2x_1x + x_1^2 = 0$  すなわち  $(x - x_1)^2 = 0$

したがって、 $x$  の2次方程式③は重解  $x = x_1$  をもち、直線②は、点  $P(x_1, y_1)$  における楕円①の接線である。

2

解答  $-\frac{65}{16} < k < -1$

解説

$x^2 = y - k$  を  $x^2 + 4y^2 = 4$  に代入して整理すると

$$4y^2 + y - (k + 4) = 0 \dots\dots ①$$

$x^2 = 4 - 4y^2 \geq 0$  から  $-1 \leq y \leq 1$

放物線  $y = x^2 + k$  と楕円  $x^2 + 4y^2 = 4$  は  $y$  軸に関して対称であるから、2つの曲線が異なる4点で交わる条件は、①が  $-1 < y < 1$  において異なる2つの実数解をもつことである。

①の左辺を  $f(y)$  とすると、この条件は

[1] 判別式  $D > 0$  から  $1 + 16(k + 4) > 0$

ゆえに  $k > -\frac{65}{16} \dots\dots ②$

[2] 軸:  $y = -\frac{1}{8}$  であり、 $-1 < -\frac{1}{8} < 1$  となっている。

[3]  $f(1) = 1 - k > 0$  から  $k < 1 \dots\dots ③$

[4]  $f(-1) = -1 - k > 0$  から  $k < -1 \dots\dots ④$

②, ③, ④の共通範囲を求めて  $-\frac{65}{16} < k < -1$

3

解答 (1)  $9a^2 - b^2 + 4 = 0$  (2) 円  $x^2 + y^2 = 13$

解説

(1)  $y = ax + b$  を  $4x^2 + 9y^2 = 36$  に代入すると  $4x^2 + 9(ax + b)^2 = 36$

整理すると  $(9a^2 + 4)x^2 + 18abx + 9(b^2 - 4) = 0$

判別式を  $D$  とすると  $\frac{D}{4} = (9ab)^2 - 9(9a^2 + 4)(b^2 - 4) = 36(9a^2 - b^2 + 4)$

直線  $y = ax + b$  と楕円  $C$  が接するための条件は  $D = 0$

よって  $9a^2 - b^2 + 4 = 0 \dots\dots ①$

(2) 点  $P$  の座標を  $(X, Y)$  とする。

点  $P$  から楕円  $C$  に引いた接線が  $x$  軸と垂直になるのは、 $X = \pm 3$  のときである。

[1]  $X \neq \pm 3$  のとき

点 P から楕円 C に引いた接線は x 軸に垂直ではない。

よって、その方程式は  $y - Y = m(x - X)$

すなわち  $y = mx - mX + Y$  …… ②

とおける。

② が楕円 C に接するとき、① において  $a = m$ ,

$b = -mX + Y$  とすると

$$9m^2 - (-mX + Y)^2 + 4 = 0$$

整理すると

$$(9 - X^2)m^2 + 2XYm + 4 - Y^2 = 0 \quad \dots\dots ③$$

③ の 2 つの解を  $m_1, m_2$  とすると、これらは点 P から楕円 C に引いた 2 本の接線の傾きを表す。

2 本の接線が直交するから  $m_1 m_2 = -1$

また、解と係数の関係から  $m_1 m_2 = \frac{4 - Y^2}{9 - X^2}$  すなわち  $\frac{4 - Y^2}{9 - X^2} = -1$

整理すると  $X^2 + Y^2 = 13$  …… ④

[2]  $X = \pm 3$  のとき

2 本の接線は  $x = \pm 3, y = \pm 2$  (複号任意) の組で、その交点は

$$(3, 2), (3, -2), (-3, 2), (-3, -2)$$

これらの点は ④ を満たす。

[1], [2] から、求める軌跡は 円  $x^2 + y^2 = 13$

4

解答 (1)  $\frac{x^2}{a^2} + \frac{y^2}{b^2} = 1$  (2)  $\frac{(x+k)^2}{b^2} + \frac{(y-k)^2}{a^2} = 1$

(3)  $k < -\sqrt{a^2 + b^2}, \sqrt{a^2 + b^2} < k$

解説

(1) P(s, t), Q(x, y) とすると

$$x = s, y = \frac{b}{a}t \quad \text{ゆえに} \quad s = x, t = \frac{a}{b}y$$

$$s^2 + t^2 = a^2 \text{ であるから} \quad x^2 + \left(\frac{a}{b}y\right)^2 = a^2$$

$$\text{よって、} C_1 \text{ の方程式は} \quad \frac{x^2}{a^2} + \frac{y^2}{b^2} = 1$$

(2) Q(s, t), C<sub>2</sub> 上の点を R(x, y) とすると、線分 QR の中点  $\left(\frac{s+x}{2}, \frac{t+y}{2}\right)$  は直線

$y = x + k$  上にあるから

$$\frac{t+y}{2} = \frac{s+x}{2} + k$$

ゆえに  $s - t = -x + y - 2k$  …… ①

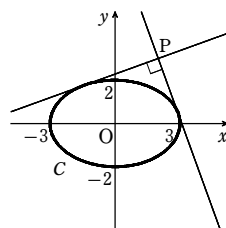
また、線分 QR は直線  $y = x + k$  に垂直であるから

$$\frac{y-t}{x-s} = -1$$

よって  $s + t = x + y$  …… ②

①, ② から  $s = y - k, t = x + k$

Q は C<sub>1</sub> 上の点であるから  $\frac{(y-k)^2}{a^2} + \frac{(x+k)^2}{b^2} = 1$



したがって、C<sub>2</sub> の方程式は  $\frac{(x+k)^2}{b^2} + \frac{(y-k)^2}{a^2} = 1$

(3)  $y = x + k$  と C<sub>2</sub> の共有点の x 座標は

$$\frac{(x+k)^2}{b^2} + \frac{(x+k-k)^2}{a^2} = 1 \quad \dots\dots ③$$

の実数解である。

③ を変形して  $(a^2 + b^2)x^2 + 2a^2kx + a^2(k^2 - b^2) = 0$

この 2 次方程式の判別式を D とすると

$$\frac{D}{4} = (a^2k)^2 - (a^2 + b^2)a^2(k^2 - b^2)$$

$$= a^2b^2(a^2 + b^2 - k^2)$$

$D < 0$  から  $a^2 + b^2 - k^2 < 0$

$a^2 + b^2 > 0$  であるから  $k < -\sqrt{a^2 + b^2}, \sqrt{a^2 + b^2} < k$

解説

1

解答 (1)  $y = x + 1$  (2)  $2x + 3y = 12$  (3)  $\sqrt{5}x + 2y + 8 = 0$

解説

(1)  $2y = 2 \cdot 1 \cdot (x + 1)$  すなわち  $y = x + 1$

(2)  $\frac{3x}{18} + \frac{2y}{8} = 1$  すなわち  $2x + 3y = 12$

(3)  $\frac{-2\sqrt{5}x}{16} - \frac{1 \cdot y}{4} = 1$  すなわち  $\sqrt{5}x + 2y + 8 = 0$

2

解答  $y = x + 5, y = -x + 5$

解説

$x^2 + 4y^2 = 20$  …… ① とする。

点 A を通る接線は、x 軸に垂直ではないから、接線の傾きを m とすると、接線の方程式は

$$y = mx + 5 \quad \dots\dots ②$$

② を ① に代入して、整理すると

$$(4m^2 + 1)x^2 + 40mx + 80 = 0$$

この 2 次方程式の判別式を D とすると

$$\frac{D}{4} = (20m)^2 - (4m^2 + 1) \cdot 80 = 80(m + 1)(m - 1)$$

直線 ② が楕円 ① に接する条件は、 $D = 0$  から  $m = \pm 1$

よって、接線の方程式は  $y = x + 5, y = -x + 5$

別解 接点の座標を P(x<sub>1</sub>, y<sub>1</sub>) とすると

点 P は楕円  $x^2 + 4y^2 = 20$  …… ① 上の点であるから

$$x_1^2 + 4y_1^2 = 20 \quad \dots\dots ②$$

楕円 ① 上の点 P における接線の方程式は  $x_1x + 4y_1y = 20$

点 A を通るから  $x_1 \cdot 0 + 4y_1 \cdot 5 = 20$  よって  $y_1 = 1$

これを ② に代入すると  $x_1^2 = 16$  ゆえに  $x_1 = \pm 4$

よって、接線の方程式は  $y = x + 5, y = -x + 5$

3

解答 (1)  $x = 5\cos\theta, y = 5\sin\theta$  (2)  $x = 5\cos\theta, y = 3\sin\theta$

(3)  $x = \frac{2}{\cos\theta}, y = \tan\theta$

解説

(1)  $x = 5\cos\theta, y = 5\sin\theta$

(2)  $x = 5\cos\theta, y = 3\sin\theta$

(3)  $x = \frac{2}{\cos\theta}, y = \tan\theta$

4

解答 (1) 放物線  $y = \frac{1}{2}x^2 - \frac{1}{2}$  の  $-1 \leq x \leq \sqrt{2}$  の部分

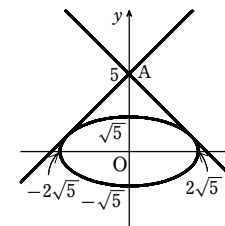
(2) 双曲線  $x^2 - y^2 = 1$  の  $x \geq 1$  の部分

(3) 円  $\left(x - \frac{1}{2}\right)^2 + y^2 = \frac{1}{4}$  ただし、点 (0, 0) を除く

解説

(1)  $x = \sin\theta + \cos\theta$  の両辺を 2 乗し、整理すると

$$x^2 = 1 + 2\sin\theta \cos\theta$$



これに  $\sin \theta \cos \theta = y$  を代入すると  
 $x^2 = 1 + 2y$   
 $\sin \theta + \cos \theta = \sqrt{2} \sin \left( \theta + \frac{\pi}{4} \right)$  であるから、 $0 \leq \theta \leq \pi$  のとき  
 $-1 \leq \sin \theta + \cos \theta \leq \sqrt{2}$   
 よって 放物線  $y = \frac{1}{2}x^2 - \frac{1}{2}$  の  $-1 \leq x \leq \sqrt{2}$  の部分  
 (2)  $x = \frac{1}{2}(3^t + 3^{-t}) \dots\dots ①$ ,  $y = \frac{1}{2}(3^t - 3^{-t}) \dots\dots ②$   
 ①+② から  $x + y = 3^t$  ①-② から  $x - y = 3^{-t}$   
 ゆえに  $(x+y)(x-y) = 3^t \cdot 3^{-t}$  よって  $x^2 - y^2 = 1$   
 $3^t > 0$ ,  $3^{-t} > 0$  であるから、相加平均と相乗平均の大小関係により  
 $x = \frac{1}{2}(3^t + 3^{-t}) \geq \sqrt{3^t \cdot 3^{-t}} = 1$

ゆえに 双曲線  $x^2 - y^2 = 1$  の  $x \geq 1$  の部分  
 (3)  $x = \frac{1}{1+t^2} \dots\dots ①$ ,  $y = \frac{t}{1+t^2} \dots\dots ②$  とする。  
 ①を②に代入して  $y = tx$   
 $x \neq 0$  であるから  $t = \frac{y}{x}$   
 これを①に代入して  $t$  を消去すると  $x = \frac{1}{1 + \left(\frac{y}{x}\right)^2}$   
 整理すると  $x(x^2 - x + y^2) = 0$   
 $x \neq 0$  であるから  $x^2 - x + y^2 = 0$   
 よって 円  $\left(x - \frac{1}{2}\right)^2 + y^2 = \frac{1}{4}$  ただし、点  $(0, 0)$  を除く。

5  
 解答  $\left(-\frac{4\sqrt{5}}{5}, \frac{\sqrt{5}}{5}\right), \left(\frac{4\sqrt{5}}{5}, -\frac{\sqrt{5}}{5}\right)$   
 解説

点  $P(x, y)$  は楕円  $\frac{x^2}{4} + y^2 = 1$  上を動くから、  
 $x = 2\cos \theta$ ,  $y = \sin \theta$  ( $0 \leq \theta < 2\pi$ ) と表される。  
 このとき  $3x^2 - 16xy - 12y^2$   
 $= 3 \cdot 4\cos^2 \theta - 16 \cdot 2\cos \theta \cdot \sin \theta - 12\sin^2 \theta$   
 $= 12(\cos^2 \theta - \sin^2 \theta) - 16 \cdot 2\sin \theta \cos \theta = 12\cos 2\theta - 16\sin 2\theta$   
 $= -4(4\sin 2\theta - 3\cos 2\theta) = -4 \cdot 5\sin(2\theta - \alpha)$   
 ただし、 $\alpha$  は  $\cos \alpha = \frac{4}{5}$ ,  $\sin \alpha = \frac{3}{5}$  ( $0 < \alpha < \frac{\pi}{2}$ ) を満たす角とする。  
 $0 \leq \theta < 2\pi$  より、 $-\alpha < 2\theta - \alpha < 4\pi - \alpha$  であり、さらに  $-\frac{\pi}{2} < -\alpha < 0$ ,  
 $\frac{7}{2}\pi < 4\pi - \alpha < 4\pi$  であるから、 $3x^2 - 16xy - 12y^2$  は  $2\theta - \alpha = \frac{3}{2}\pi, \frac{7}{2}\pi$  のとき最大となる。  
 このとき  $\theta = \frac{3}{4}\pi + \frac{\alpha}{2}, \frac{7}{4}\pi + \frac{\alpha}{2}$

ここで、 $\sin \frac{\alpha}{2} > 0$ ,  $\cos \frac{\alpha}{2} > 0$  であるから  
 $\sin \frac{\alpha}{2} = \sqrt{\frac{1}{2}(1 - \cos \alpha)} = \sqrt{\frac{1}{2}\left(1 - \frac{4}{5}\right)} = \frac{1}{\sqrt{10}}$   
 $\cos \frac{\alpha}{2} = \sqrt{\frac{1}{2}(1 + \cos \alpha)} = \sqrt{\frac{1}{2}\left(1 + \frac{4}{5}\right)} = \frac{3}{\sqrt{10}}$   
 [1]  $\theta = \frac{3}{4}\pi + \frac{\alpha}{2}$  のとき  
 $x = 2\cos \theta = 2\cos\left(\frac{3}{4}\pi + \frac{\alpha}{2}\right) = 2\left(\cos \frac{3}{4}\pi \cos \frac{\alpha}{2} - \sin \frac{3}{4}\pi \sin \frac{\alpha}{2}\right)$   
 $= 2\left\{\left(-\frac{1}{\sqrt{2}}\right) \cdot \frac{3}{\sqrt{10}} - \frac{1}{\sqrt{2}} \cdot \frac{1}{\sqrt{10}}\right\} = -\frac{4\sqrt{5}}{5}$   
 $y = \sin \theta = \sin\left(\frac{3}{4}\pi + \frac{\alpha}{2}\right) = \sin \frac{3}{4}\pi \cos \frac{\alpha}{2} + \cos \frac{3}{4}\pi \sin \frac{\alpha}{2}$   
 $= \frac{1}{\sqrt{2}} \cdot \frac{3}{\sqrt{10}} + \left(-\frac{1}{\sqrt{2}}\right) \cdot \frac{1}{\sqrt{10}} = \frac{\sqrt{5}}{5}$

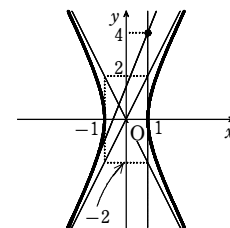
[2]  $\theta = \frac{7}{4}\pi + \frac{\alpha}{2}$  のとき  
 [1]の結果を利用すると  
 $x = 2\cos\left(\frac{7}{4}\pi + \frac{\alpha}{2}\right) = 2\cos\left(\left(\frac{3}{4}\pi + \frac{\alpha}{2}\right) + \pi\right) = -2\cos\left(\frac{3}{4}\pi + \frac{\alpha}{2}\right)$   
 $= -\left(-\frac{4\sqrt{5}}{5}\right) = \frac{4\sqrt{5}}{5}$   
 $y = \sin\left(\frac{7}{4}\pi + \frac{\alpha}{2}\right) = \sin\left(\left(\frac{3}{4}\pi + \frac{\alpha}{2}\right) + \pi\right) = -\sin\left(\frac{3}{4}\pi + \frac{\alpha}{2}\right) = -\frac{\sqrt{5}}{5}$   
 [1], [2]より、求める点  $P$  の座標は  $\left(-\frac{4\sqrt{5}}{5}, \frac{\sqrt{5}}{5}\right), \left(\frac{4\sqrt{5}}{5}, -\frac{\sqrt{5}}{5}\right)$

6  
 解答  $\begin{cases} x = 3\cos \theta - \cos 3\theta \\ y = 3\sin \theta - \sin 3\theta \end{cases}$   
 解説  
 円  $C'$  の中心  $C'$  が  $O$  の周りを  $\theta$  だけ回転したときの接点を  $T$  とし、 $A(2, 0)$  とする。  
 $\widehat{PT} = \widehat{AT} = 2\theta$ ,  $PC' = 1$  から  $\angle TCP' = 2\theta$   
 よって、線分  $CP'$  の、 $x$  軸の正方向からの角  $\alpha$  は  
 $\alpha = \theta + \pi + 2\theta = 3\theta + \pi$   
 $P(x, y)$  とすると  
 $\overrightarrow{OP} = (x, y)$ ,  $\overrightarrow{OC'} = (3\cos \theta, 3\sin \theta)$ ,  
 $\overrightarrow{CP'} = (\cos(3\theta + \pi), \sin(3\theta + \pi))$   
 $\overrightarrow{OP} = \overrightarrow{OC'} + \overrightarrow{CP'}$  であるから  
 $\begin{cases} x = 3\cos \theta + \cos(3\theta + \pi) = 3\cos \theta - \cos 3\theta \\ y = 3\sin \theta + \sin(3\theta + \pi) = 3\sin \theta - \sin 3\theta \end{cases}$

1  
 解答 (1)  $y = x + 2$  (2)  $x + y - 3 = 0$  (3)  $2\sqrt{2}x + \sqrt{3}y - 1 = 0$   
 解説  
 (1)  $4 \cdot y = 2 \cdot 2(x + 2)$   
 すなわち  $y = x + 2$   
 (2)  $\frac{1 \cdot x}{3} + \frac{2 \cdot y}{6} = 1$   
 すなわち  $x + y - 3 = 0$   
 (3)  $2 \cdot \sqrt{2} \cdot x - (-\sqrt{3}) \cdot y = 1$   
 すなわち  $2\sqrt{2}x + \sqrt{3}y - 1 = 0$

2  
 解答 接線の方程式が  $x = 1$  のとき、接点  $(1, 0)$  ;  
 接線の方程式が  $y = \frac{5}{2}x + \frac{3}{2}$  のとき、接点  $\left(-\frac{5}{3}, -\frac{8}{3}\right)$

解説  
 $4x^2 - y^2 = 4 \dots\dots ①$  とする。  
 点  $A$  を通る接線のうち、 $x$  軸に垂直なものの方  
 程式は  $x = 1$  であり、その接点の座標は  $(1, 0)$   
 である。  
 $x$  軸に垂直ではない接線の傾きを  $m$  とすると、  
 接線の方程式は  
 $y = m(x - 1) + 4 \dots\dots ②$   
 ②を①に代入して、整理すると  
 $(4 - m^2)x^2 + 2m(m - 4)x - m^2 + 8m - 20 = 0$   
 $\dots\dots ③$



$m = \pm 2$  のとき、直線 ② は漸近線と平行で、接線ではない。  
 よって  $m \neq \pm 2$   
 このとき、2次方程式 ③ の判別式を  $D$  とすると  
 $\frac{D}{4} = (m(m - 4))^2 - (4 - m^2)(-m^2 + 8m - 20)$   
 $= -32m + 80 = -16(2m - 5)$

直線 ② が双曲線 ① に接する条件は、 $D = 0$  から  $m = \frac{5}{2}$   
 このとき、接線の方程式は ② から  $y = \frac{5}{2}x + \frac{3}{2} \dots\dots ④$   
 $m = \frac{5}{2}$  を ③ に代入して  $-\frac{9}{4}x^2 - \frac{15}{2}x - \frac{25}{4} = 0$   
 ゆえに  $9x^2 + 30x + 25 = 0$  よって  $(3x + 5)^2 = 0$   
 ゆえに  $x = -\frac{5}{3}$  ④ から  $y = -\frac{8}{3}$   
 したがって、接線の方程式と接点の座標は  
 接線の方程式が  $x = 1$  のとき 接点  $(1, 0)$   
 接線の方程式が  $y = \frac{5}{2}x + \frac{3}{2}$  のとき 接点  $\left(-\frac{5}{3}, -\frac{8}{3}\right)$

別解 接点の座標を  $P(x_1, y_1)$  とすると  
 点  $P$  は双曲線上の点であるから  $4x_1^2 - y_1^2 = 4 \dots\dots ①$   
 点  $P$  における双曲線の接線の方程式は  $4x_1x - y_1y = 4 \dots\dots ②$

第3講 例題演習

点Aを通るから  $4x_1 \cdot 1 - y_1 \cdot 4 = 4$  よって  $y_1 = x_1 - 1$  ……③  
これを①に代入すると  $4x_1^2 - (x_1 - 1)^2 = 4$  ゆえに  $3x_1^2 + 2x_1 - 5 = 0$

よって  $(3x_1 + 5)(x_1 - 1) = 0$  ゆえに  $x_1 = -\frac{5}{3}, 1$

$x_1 = -\frac{5}{3}$  のとき、③から  $y_1 = -\frac{8}{3}$

このとき、接線の方程式は②から  $-\frac{20}{3}x + \frac{8}{3}y = 4$

すなわち  $y = \frac{5}{2}x + \frac{3}{2}$

$x_1 = 1$  のとき、③から  $y_1 = 0$

このとき、接線の方程式は②から  $4x = 4$  すなわち  $x = 1$   
したがって、接線の方程式と接点の座標は

接線の方程式が  $x = 1$  のとき 接点  $(1, 0)$

接線の方程式が  $y = \frac{5}{2}x + \frac{3}{2}$  のとき 接点  $(-\frac{5}{3}, -\frac{8}{3})$

3

【解答】 (1)  $x = 4\cos\theta, y = 4\sin\theta$  (2)  $x = \sqrt{5}\cos\theta, y = \sqrt{5}\sin\theta$

(3)  $x = 2\cos\theta, y = \sin\theta$  (4)  $x = 2\cos\theta, y = 3\sin\theta$

(5)  $x = \frac{4}{\cos\theta}, y = 3\tan\theta$  (6)  $x = \frac{1}{\cos\theta}, y = 2\tan\theta$

【解説】

(1)  $x = 4\cos\theta, y = 4\sin\theta$

(2)  $x = \sqrt{5}\cos\theta, y = \sqrt{5}\sin\theta$

(3)  $x = 2\cos\theta, y = \sin\theta$

(4)  $9x^2 + 4y^2 = 36$  の両辺を 36 で割って  $\frac{x^2}{4} + \frac{y^2}{9} = 1$

よって  $x = 2\cos\theta, y = 3\sin\theta$

(5)  $x = \frac{4}{\cos\theta}, y = 3\tan\theta$

(6)  $4x^2 - y^2 = 4$  の両辺を 4 で割って  $x^2 - \frac{y^2}{4} = 1$

よって  $x = \frac{1}{\cos\theta}, y = 2\tan\theta$

4

【解答】 (1) 放物線  $y = 1 - x^2$  の  $-1 \leq x \leq 1$  の部分

(2) 双曲線  $x^2 - y^2 = 4$  の  $x \geq 2$  の部分

(3) 双曲線  $x^2 - \frac{y^2}{4} = 1$  ただし、点  $(-1, 0)$  を除く

【解説】

(1)  $y = 1 - \cos^2\theta = 1 - x^2$

$0 \leq \theta \leq \pi$  であるから  $-1 \leq \cos\theta \leq 1$

よって 放物線  $y = 1 - x^2$  の  $-1 \leq x \leq 1$  の部分

(2)  $x = t^2 + \frac{1}{t^2}$  ……①,  $y = t^2 - \frac{1}{t^2}$  ……②

①+②から  $x + y = 2t^2$  ①-②から  $x - y = \frac{2}{t^2}$

ゆえに  $(x + y)(x - y) = 2t^2 \cdot \frac{2}{t^2} = 4$  よって  $x^2 - y^2 = 4$

$t^2 > 0, \frac{1}{t^2} > 0$  であるから、相加平均と相乗平均の大小関係により

$$x = t^2 + \frac{1}{t^2} \geq 2\sqrt{t^2 \cdot \frac{1}{t^2}} = 2$$

ゆえに 双曲線  $x^2 - y^2 = 4$  の  $x \geq 2$  の部分

(3)  $x = \frac{1+t^2}{1-t^2}$  から  $(1-t^2)x = 1+t^2$  よって  $(x+1)t^2 = x-1$

$x \neq -1$  であるから  $t^2 = \frac{x-1}{x+1}$  ……①

また、 $y = \frac{4t}{1-t^2}$  から

$$t = \frac{1-t^2}{4}y = \frac{y}{4}\left(1 - \frac{x-1}{x+1}\right) = \frac{y}{4} \cdot \frac{2}{x+1} = \frac{y}{2(x+1)} \dots\dots ②$$

①, ②から  $t$  を消去して  $\left(\frac{y}{2(x+1)}\right)^2 = \frac{x-1}{x+1}$

両辺に  $4(x+1)^2$  を掛けて  $y^2 = 4(x^2 - 1)$

したがって 双曲線  $x^2 - \frac{y^2}{4} = 1$  ただし、点  $(-1, 0)$  を除く。

【別解】  $x = \frac{1+t^2}{1-t^2}$  から  $x = -1 + \frac{2}{1-t^2}$  すなわち  $\frac{1}{1-t^2} = \frac{x+1}{2}$

$$y = \frac{4t}{1-t^2} \text{ から } \frac{t}{1-t^2} = \frac{y}{4}$$

$$\text{ゆえに } \left(\frac{x+1}{2}\right)^2 - \left(\frac{y}{4}\right)^2 = \frac{1}{1-t^2} = \frac{x+1}{2}$$

よって  $4x^2 - y^2 = 4$  すなわち  $x^2 - \frac{y^2}{4} = 1$

また、 $x = -1 + \frac{2}{1-t^2}$  から  $x < -1, 1 \leq x$

したがって 双曲線  $x^2 - \frac{y^2}{4} = 1$  ただし、点  $(-1, 0)$  を除く。

5

【解答】  $\frac{\sqrt{31}+1}{12}$

【解説】

楕円  $2x^2 + 3y^2 = 1$  上の点  $(x, y)$  は、

$$x = \frac{1}{\sqrt{2}}\cos\theta, y = \frac{1}{\sqrt{3}}\sin\theta \quad (0 \leq \theta < 2\pi)$$

と表されるから

$$\begin{aligned} x^2 - y^2 + xy &= \left(\frac{1}{\sqrt{2}}\cos\theta\right)^2 - \left(\frac{1}{\sqrt{3}}\sin\theta\right)^2 + \frac{1}{\sqrt{2}}\cos\theta \cdot \frac{1}{\sqrt{3}}\sin\theta \\ &= \frac{1}{2}\cos^2\theta - \frac{1}{3}\sin^2\theta + \frac{1}{\sqrt{6}}\sin\theta\cos\theta \\ &= \frac{1}{2} \cdot \frac{1+\cos 2\theta}{2} - \frac{1}{3} \cdot \frac{1-\cos 2\theta}{2} + \frac{1}{2\sqrt{6}}\sin 2\theta \\ &= \frac{\sqrt{6}}{12}\sin 2\theta + \frac{5}{12}\cos 2\theta + \frac{1}{12} \end{aligned}$$

$$= \frac{\sqrt{31}}{12}\sin(2\theta + \alpha) + \frac{1}{12}$$

ただし  $\sin\alpha = \frac{5}{\sqrt{31}}, \cos\alpha = \frac{\sqrt{6}}{\sqrt{31}}$

$0 \leq \theta < 2\pi$  であるから  $\alpha \leq 2\theta + \alpha < 4\pi + \alpha$

よって  $-1 \leq \sin(2\theta + \alpha) \leq 1$

ゆえに、求める最大値は  $\frac{\sqrt{31}+1}{12}$

6

【解答】  $x = a\cos^3\theta, y = a\sin^3\theta$

【解説】

$P(x, y)$  とし、円  $O$  と円  $C$  との接点を  $B$  とする。

$\angle BCP = \alpha$  とすると、 $\widehat{AB} = \widehat{PB}$  であるから

$$a\theta = \frac{a}{4} \cdot \alpha$$

よって  $\alpha = 4\theta$

半直線  $CP$  が  $x$  軸の正の向きとなす角は

$$\theta - \alpha = \theta - 4\theta = -3\theta$$

したがって

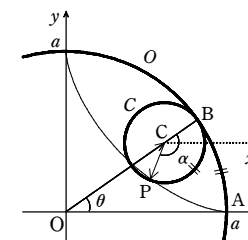
$$\overrightarrow{OP} = \overrightarrow{OC} + \overrightarrow{CP}$$

$$= \left(\frac{3}{4}a\cos\theta, \frac{3}{4}a\sin\theta\right) + \left(\frac{a}{4}\cos(-3\theta), \frac{a}{4}\sin(-3\theta)\right)$$

$$= \left(\frac{3}{4}a\cos\theta + \frac{a}{4}(4\cos^3\theta - 3\cos\theta), \frac{3}{4}a\sin\theta - \frac{a}{4}(3\sin\theta - 4\sin^3\theta)\right)$$

$$= (a\cos^3\theta, a\sin^3\theta)$$

ゆえに  $x = a\cos^3\theta, y = a\sin^3\theta$



1

【解答】 略

【解説】

点 P における接線の方程式は  $y_1 y = 2p(x + x_1)$  …… ①

点 P は放物線上の点であるから  $y_1^2 = 4px_1$

また、焦点 F の座標は  $(p, 0)$  であるから

$$\begin{aligned} FP &= \sqrt{(x_1 - p)^2 + y_1^2} = \sqrt{(x_1 - p)^2 + 4px_1} \\ &= \sqrt{(x_1 + p)^2} = x_1 + p \end{aligned}$$

T の x 座標は、接線 ① に  $y=0$  を代入して  $x = -x_1$

ゆえに  $FT = p - (-x_1) = p + x_1$

よって、 $FP = FT$  となり、 $\triangle FPT$  は二等辺三角形であるから

$$\angle PTF = \angle TPF$$

2

【解答】 (ア)  $-x^2 + 1$  (イ)  $-\frac{1}{2}$  (ウ) 1 (エ)  $\pi$

【解説】

$x = \sin \theta$ ,  $y = \cos^2 \theta$  から  $x^2 + y = \sin^2 \theta + \cos^2 \theta = 1$  よって  $y = -x^2 + 1$

$\frac{\pi}{3} \leq \theta \leq \frac{7}{6}\pi$  から  $-\frac{1}{2} \leq \sin \theta \leq 1$  すなわち  $-\frac{1}{2} \leq x \leq 1$

ゆえに、点 P が描く曲線は放物線  $y = -x^2 + 1$  の  $-\frac{1}{2} \leq x \leq 1$  の部分であり、

点 P の y 座標が最大となるのは、 $x=0$  すなわち  $\sin \theta = 0$  のときである。

$\frac{\pi}{3} \leq \theta \leq \frac{7}{6}\pi$  において、 $\sin \theta = 0$  を満たす  $\theta$  の値は  $\theta = \pi$

3

【解答】  $\frac{(x - \frac{5}{2})^2}{4} - \frac{y^2}{16} = 1$

【解説】

$x = t + \frac{1}{t} + \frac{5}{2}$  から  $t + \frac{1}{t} = x - \frac{5}{2}$  …… ①

$y = 2t - \frac{2}{t}$  から  $t - \frac{1}{t} = \frac{y}{2}$  …… ②

①+② から  $2t = (x - \frac{5}{2}) + \frac{y}{2}$  よって  $t = \frac{1}{2}(x - \frac{5}{2}) + \frac{y}{4}$

①-② から  $\frac{2}{t} = (x - \frac{5}{2}) - \frac{y}{2}$  よって  $\frac{1}{t} = \frac{1}{2}(x - \frac{5}{2}) - \frac{y}{4}$

$t \cdot \frac{1}{t} = 1$  を代入すると  $[\frac{1}{2}(x - \frac{5}{2}) + \frac{y}{4}] \cdot [\frac{1}{2}(x - \frac{5}{2}) - \frac{y}{4}] = 1$

したがって  $\frac{(x - \frac{5}{2})^2}{4} - \frac{y^2}{16} = 1$

4

【解答】 (ア)  $\frac{3}{2}$  (イ)  $(1, \frac{1}{2})$

【解説】

$x + y = k$  とおくと  $y = -x + k$  …… ①

$x + y$  のとりうる値の範囲は、直線 ① が楕円  $x^2 + x + 2y^2 + y = 3$  と共有点をもつような  $k$  の値の範囲と一致する。

① を  $x^2 + x + 2y^2 + y = 3$  に代入して整理すると  $3x^2 - 4kx + 2k^2 + k - 3 = 0$  …… ②

② の判別式を  $D$  とすると  $\frac{D}{4} = (-2k)^2 - 3 \cdot (2k^2 + k - 3) = -(2k - 3)(k + 3)$

直線 ① が楕円  $x^2 + x + 2y^2 + y = 3$  と共有点をもつとき、 $D \geq 0$  であるから

$$-(2k - 3)(k + 3) \geq 0 \quad \text{すなわち} \quad -3 \leq k \leq \frac{3}{2}$$

$k$  が最大となるとき、 $x + y$  は最大となるから、 $k = \frac{3}{2}$  のとき  $x + y$  は最大値  $\frac{3}{2}$  をとる。

このとき、② は  $3x^2 - 6x + 3 = 0$  すなわち  $(x - 1)^2 = 0$

よって  $x = 1$

したがって  $y = -x + k = \frac{1}{2}$

ゆえに、このときの点の座標は  $(1, \frac{1}{2})$

5

【解答】  $(2\theta - \sin \theta, 2 - \cos \theta)$

【解説】

円板がその中心の周りに角  $\theta$  だけ回転したときの中心を R、円板上の点で最初に原点 O にあった点に移った点を Q、R から x 軸に引いた垂線を RH とすると  $\widehat{OH} = \widehat{QH} = 2\theta$

よって  $H(2\theta, 0)$ ,  $R(2\theta, 2)$

$\vec{RP}$  と x 軸の正の向きとのなす角を  $\alpha$  とすると

$$\alpha = \frac{3}{2}\pi - \theta$$

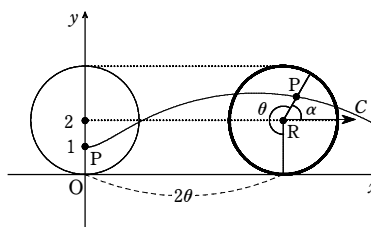
また、 $|\vec{RP}| = 1$  であるから

$$\vec{RP} = (\cos(\frac{3}{2}\pi - \theta), \sin(\frac{3}{2}\pi - \theta)) = (-\sin \theta, -\cos \theta)$$

よって

$$\begin{aligned} \vec{OP} &= \vec{OR} + \vec{RP} = (2\theta, 2) + (-\sin \theta, -\cos \theta) \\ &= (2\theta - \sin \theta, 2 - \cos \theta) \end{aligned}$$

ゆえに、点 P の座標は  $(2\theta - \sin \theta, 2 - \cos \theta)$



1

【解答】 (1)  $b = -\frac{\sqrt{3}}{2}a$  (2)  $(-1, \frac{\sqrt{3}}{2}), \frac{4}{\sqrt{13}}$

【解説】

(1) C 上の点 P(a, b) における接線の方程式は  $\frac{a}{4}x + by = 1$

よって、求める条件は  $\frac{a}{4} \cdot (-2\sqrt{3}) - 1 \cdot b = 0$

ゆえに  $b = -\frac{\sqrt{3}}{2}a$  …… ①

(2) 点 Q における接線は  $\ell$  に平行であるから、 $Q(a, b)$  とすると (1) より、① が成り立つ。

また  $\frac{a^2}{4} + b^2 = 1$  …… ②

① を ② に代入して整理すると  $a^2 = 1$  よって  $a = \pm 1$

右図から  $Q(-1, \frac{\sqrt{3}}{2})$

点 Q から直線  $\ell: x - 2\sqrt{3}y + 8 = 0$  までの距離は

$$\frac{|-1 - 2\sqrt{3} \cdot \frac{\sqrt{3}}{2} + 8|}{\sqrt{1^2 + (-2\sqrt{3})^2}} = \frac{4}{\sqrt{13}}$$

2

【解答】 (1)  $\sqrt{3}x - 2y = 4$ ,  $-\sqrt{3}x + 2y = 4$

(2) 最大値 1, Q の座標  $(\sqrt{3}, -\frac{1}{2}), (-\sqrt{3}, \frac{1}{2})$

【解説】

(1) 接点の座標を (a, b) とすると、接線の方程式は

$$\frac{ax}{4} + by = 1 \quad \text{…… ①}$$

直線 OP の傾きは  $\frac{\sqrt{3}}{2}$

よって、直線 ① が直線 OP に平行であるための条件は

$$-\frac{a}{4b} = \frac{\sqrt{3}}{2}$$

すなわち  $a = -2\sqrt{3}b$  …… ②

接点 (a, b) は曲線 C 上の点であるから  $\frac{a^2}{4} + b^2 = 1$  …… ③

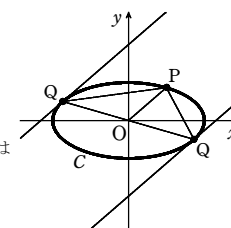
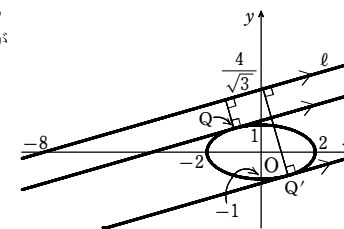
②, ③ を連立させて解くと

$$(a, b) = (\sqrt{3}, -\frac{1}{2}), (-\sqrt{3}, \frac{1}{2})$$

よって、求める直線は

$$\sqrt{3}x - 2y = 4, \quad -\sqrt{3}x + 2y = 4$$

(2) 線分 OP を  $\triangle OPQ$  の底辺と考え、高さは点 Q と直線 OP の距離 d に等しい。 $\triangle OPQ$  の面積が最大になるのは、d が最大のときであり、そのとき、Q は (1) で求めた接線の接点に一致する。



Qの座標が $(\sqrt{3}, -\frac{1}{2})$ のとき、 $\triangle OPQ$ の面積は

$$\frac{1}{2} \left| 1 \cdot \left(-\frac{1}{2}\right) - \sqrt{3} \cdot \frac{\sqrt{3}}{2} \right| = 1$$

Qの座標が $(-\sqrt{3}, \frac{1}{2})$ のとき、 $\triangle OPQ$ の面積は上で求めた値と等しいから 1

よって、 $\triangle OPQ$ の面積の最大値は1である。

また、それを与えるQの座標は

$$\left(\sqrt{3}, -\frac{1}{2}\right), \left(-\sqrt{3}, \frac{1}{2}\right)$$

別解 (1) 直線OPの傾きは  $\frac{\sqrt{3}}{2}$

よって、求める接線の方程式は  $y = \frac{\sqrt{3}}{2}x + k$  と表せる。

$$\frac{x^2}{4} + y^2 = 1 \text{ に代入して整理すると}$$

$$x^2 + \sqrt{3}kx + k^2 - 1 = 0$$

この2次方程式の判別式をDとすると

$$D = (\sqrt{3}k)^2 - 4(k^2 - 1) = -(k+2)(k-2)$$

$$D=0 \text{ から } k = \pm 2$$

よって、求める直線は  $y = -\frac{\sqrt{3}}{2}x \pm 2$

(2) (Qのx座標の求め方)

接点のx座標は  $x^2 \pm 2\sqrt{3}x + 3 = 0$  の重解であるから

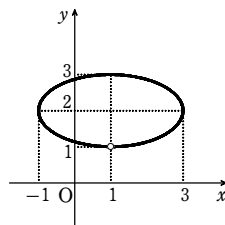
$$x = -\frac{\pm 2\sqrt{3}}{2} = \mp \sqrt{3} \text{ (複号同順)}$$

(以下同様)

3

解答 (1)  $\frac{(x-1)^2}{4} + (y-2)^2 = 1, 1 < y \leq 3$

(2) [図]



解説

$$(1) y = \frac{3+t^2}{1+t^2} \text{ から } (y-1)t^2 = 3-y \text{ …… ①}$$

$$y=1 \text{ は ① を満たさないから } y \neq 1$$

$$\text{よって } t^2 = \frac{3-y}{y-1} \text{ …… ②}$$

$$\text{これを } x = 1 + \frac{4t}{1+t^2} \text{ に代入して整理すると } t = \frac{x-1}{4(1+t^2)} = \frac{x-1}{2(y-1)} \text{ …… ③}$$

$$\text{②, ③ から } t \text{ を消去して } \left(\frac{x-1}{2(y-1)}\right)^2 = \frac{3-y}{y-1}$$

$$\text{整理すると } \frac{(x-1)^2}{4} + (y-2)^2 = 1$$

また、 $y = 1 + \frac{2}{1+t^2}$  から  $1 < y \leq 3$  であるから

$$1 < y \leq 3$$

よって、曲線Cの方程式は

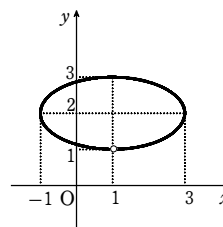
$$\frac{(x-1)^2}{4} + (y-2)^2 = 1, 1 < y \leq 3$$

(2) (1)の結果により、曲線Cは楕円

$$\frac{(x-1)^2}{4} + (y-2)^2 = 1 \text{ から点 } (1, 1) \text{ を除いた部分であ}$$

る。

よって、曲線Cの概形は右の図ようになる。



4

解答 OP =  $\sqrt{5+4\cos\theta}$

解説

OO' = 2,  $\angle AOO' = \theta$  から O'(2cos $\theta$ , 2sin $\theta$ )

更に、O'Pがx軸の正の向きとなす角は2 $\theta$ であるから、

P(x, y)とおくと

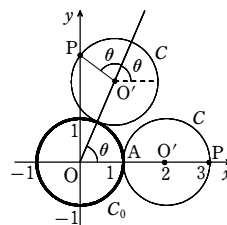
$$x = 2\cos\theta + \cos 2\theta, y = 2\sin\theta + \sin 2\theta$$

よって

$$\begin{aligned} OP^2 &= x^2 + y^2 = (2\cos\theta + \cos 2\theta)^2 + (2\sin\theta + \sin 2\theta)^2 \\ &= 4(\cos^2\theta + \sin^2\theta) + (\cos^2 2\theta + \sin^2 2\theta) \\ &\quad + 4(\cos\theta \cos 2\theta + \sin\theta \sin 2\theta) \\ &= 5 + 4\cos\theta \end{aligned}$$

OP > 0 であるから OP =  $\sqrt{5+4\cos\theta}$

解説



1

解答 (1) A(3 $\sqrt{2}$ , 3 $\sqrt{2}$ ), B(- $\sqrt{3}$ , -1) (2) C(2 $\sqrt{3}$ ,  $\frac{5}{3}\pi$ ), D(2,  $\pi$ )

解説

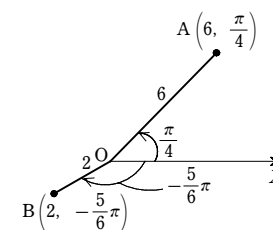
$$(1) x = 6\cos\frac{\pi}{4} = 3\sqrt{2}, y = 6\sin\frac{\pi}{4} = 3\sqrt{2} \text{ から}$$

$$A(3\sqrt{2}, 3\sqrt{2})$$

$$x = 2\cos\left(-\frac{5}{6}\pi\right) = -\sqrt{3},$$

$$y = 2\sin\left(-\frac{5}{6}\pi\right) = -1 \text{ から}$$

$$B(-\sqrt{3}, -1)$$



$$(2) r = \sqrt{(\sqrt{3})^2 + (-3)^2} = 2\sqrt{3}$$

$$\text{また } \cos\theta = \frac{1}{2}, \sin\theta = -\frac{\sqrt{3}}{2}$$

$$0 \leq \theta < 2\pi \text{ から } \theta = \frac{5}{3}\pi$$

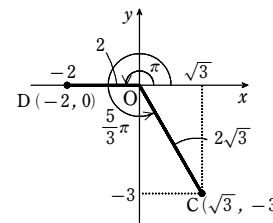
よって C(2 $\sqrt{3}$ ,  $\frac{5}{3}\pi$ )

$$r = \sqrt{(-2)^2 + 0^2} = 2$$

$$\text{また } \cos\theta = -1, \sin\theta = 0$$

$$0 \leq \theta < 2\pi \text{ から } \theta = \pi$$

よって D(2,  $\pi$ )



2

解答 (1)  $r\cos\left(\theta - \frac{5}{3}\pi\right) = 1$  (2)  $r = -2\cos\theta$  (3)  $r\sin^2\theta = 4\cos\theta$

解説

(1)  $x - \sqrt{3}y - 2 = 0$  に  $x = r\cos\theta, y = r\sin\theta$  を代入すると

$$r(\cos\theta - \sqrt{3}\sin\theta) = 2$$

$$\text{ゆえに } r\left\{\cos\theta \cdot \frac{1}{2} + \sin\theta \cdot \left(-\frac{\sqrt{3}}{2}\right)\right\} = 1$$

よって、求める極方程式は  $r\cos\left(\theta - \frac{5}{3}\pi\right) = 1$

(2)  $x^2 + y^2 = -2x$  に  $x^2 + y^2 = r^2, x = r\cos\theta$  を代入すると

$$r(r + 2\cos\theta) = 0$$

$$\text{ゆえに } r = 0 \text{ または } r = -2\cos\theta$$

$r = 0$  は極を表し、 $r = -2\cos\theta$  は極 $\left(0, \frac{\pi}{2}\right)$ を通る。

よって、求める極方程式は  $r = -2\cos\theta$

(3)  $y^2 = 4x$  に  $x = r\cos\theta, y = r\sin\theta$  を代入すると

$$r(r\sin^2\theta - 4\cos\theta) = 0$$

$$\text{ゆえに } r = 0 \text{ または } r\sin^2\theta = 4\cos\theta$$

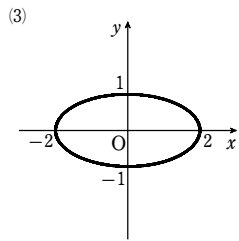
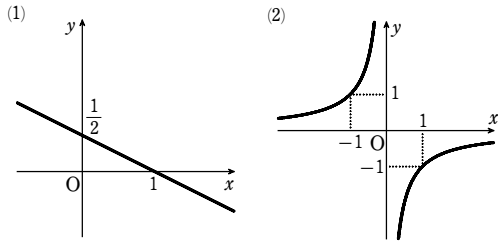
$r = 0$  は極を表し、 $r\sin^2\theta = 4\cos\theta$  は極 $\left(0, \frac{\pi}{2}\right)$ を通る。

よって、求める極方程式は  $r\sin^2\theta = 4\cos\theta$

第4講 例題

3

【解答】 (1)  $y = -\frac{1}{2}x + \frac{1}{2}$ , [図] (2)  $xy = -1$ , [図] (3)  $\frac{x^2}{4} + y^2 = 1$ , [図]



【解説】

(1)  $\frac{1}{r} = \cos\theta + 2\sin\theta$  の両辺を  $r$  倍して  $1 = r\cos\theta + 2r\sin\theta$

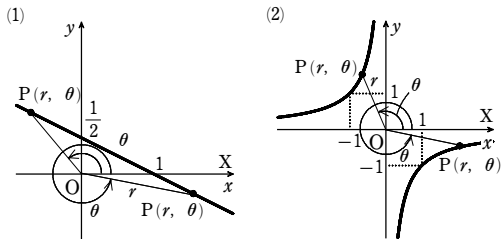
ゆえに  $1 = x + 2y$  すなわち  $y = -\frac{1}{2}x + \frac{1}{2}$ , 下図。

(2)  $r^2\sin 2\theta = r^2 \cdot 2\sin\theta \cos\theta = 2r\cos\theta \cdot r\sin\theta$  であるから  $2xy = -2$

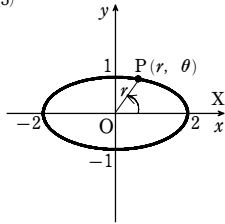
ゆえに  $xy = -1$ , 下図。

(3)  $3(r\sin\theta)^2 + r^2 = 4$  であるから  $3y^2 + (x^2 + y^2) = 4$

ゆえに  $x^2 + 4y^2 = 4$  すなわち  $\frac{x^2}{4} + y^2 = 1$ , 下図。



(3)



4

【解答】

(1) 中心が極, 半径が 3 の円 [図]

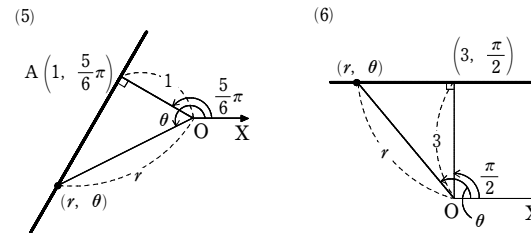
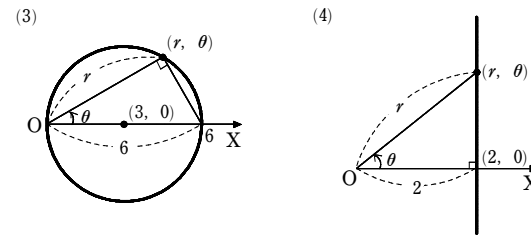
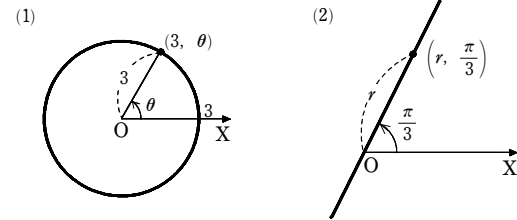
(2) 極を通り, 始線とのなす角が  $\frac{\pi}{3}$  の直線 [図]

(3) 中心の極座標が  $(3, 0)$ , 半径が 3 の円 [図]

(4) 極座標が  $(2, 0)$  である点を通り, 始線に垂直な直線 [図]

(5) 極座標が  $(1, \frac{5}{6}\pi)$  である点 A を通り, OA に垂直な直線 (O は極) [図]

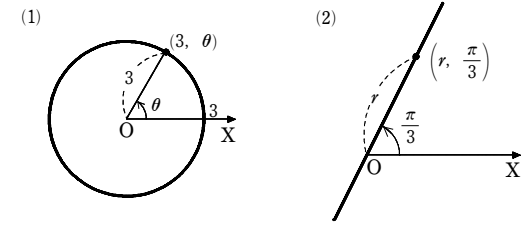
(6) 極座標が  $(3, \frac{\pi}{2})$  である点を通り, 始線に平行な直線 [図]



【解説】

(1) 中心が極, 半径が 3 の円を表す。[図]

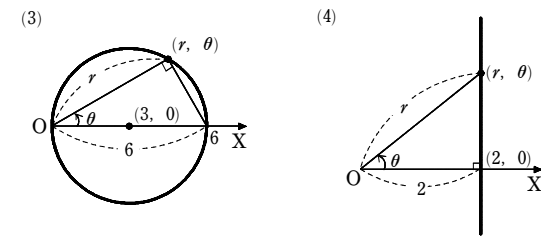
(2) 極を通り, 始線とのなす角が  $\frac{\pi}{3}$  の直線を表す。[図]



(3)  $r = 6\cos\theta$  から  $r = 2 \cdot 3\cos\theta$

よって, 中心の極座標が  $(3, 0)$ , 半径が 3 の円を表す。[図]

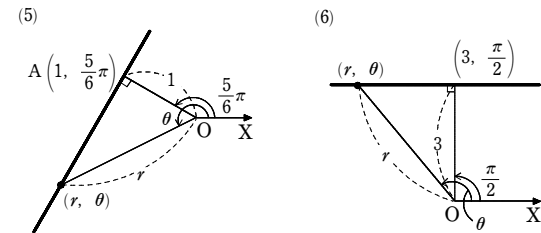
(4) 極座標が  $(2, 0)$  である点を通り, 始線に垂直な直線を表す。[図]



(5) 極座標が  $(1, \frac{5}{6}\pi)$  である点 A を通り, OA に垂直な直線を表す (O は極)。[図]

(6)  $\sin\theta = \cos(\theta - \frac{\pi}{2})$  であるから, 極方程式は  $r\cos(\theta - \frac{\pi}{2}) = 3$

よって, 極座標が  $(3, \frac{\pi}{2})$  である点を通り, 始線に平行な直線を表す。[図]



5

【解答】 (1)  $r = 5$  (2)  $r = 6\cos\theta$  (3)  $\theta = \frac{\pi}{3}$  (4)  $r\cos(\theta - \frac{\pi}{4}) = 2$

【解説】

(1)  $r = 5$

(2) 点  $(3, 0)$  を中心とする半径 3 の円であるから

$r = 2 \cdot 3\cos\theta$  よって  $r = 6\cos\theta$

(3)  $\theta = \frac{\pi}{3}$



第4講 例題

(4)  $r \cos\left(\theta - \frac{\pi}{4}\right) = 2$

[6]

**解答**  $r = \frac{6}{3+2\cos\theta}$

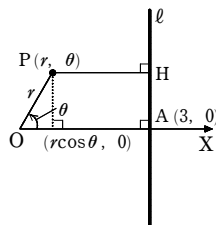
**解説**

点Pの極座標を $(r, \theta)$ 、Pから直線 $l$ に下ろした垂線をPHとすると

OP : PH = 2 : 3  
 ここで OP =  $r$ , PH =  $3 - r\cos\theta$   
 よって  $r : (3 - r\cos\theta) = 2 : 3$   
 ゆえに  $3r = 2(3 - r\cos\theta)$

したがって、求める極方程式は

$r = \frac{6}{3+2\cos\theta}$



[7]

**解答**  $\frac{1}{6}$

**解説**

OA =  $r_1$ , OB =  $r_2$ , OC =  $r_3$ , OD =  $r_4$  とおき、点Aの極座標を $(r_1, \theta_1)$ とする。

4点A, C, B, Dが、この順で極Oの周りに正の回転の向きで並んでいるとすると、3点B, C, Dの極座標は $B(r_2, \theta_1 + \pi)$ ,  $C(r_3, \theta_1 + \frac{\pi}{2})$ ,

$D(r_4, \theta_1 - \frac{\pi}{2})$  とおける。

4点A, B, C, Dは放物線上にあるから

$r_1 = \frac{3}{1 + \cos\theta_1}$

$r_2 = \frac{3}{1 + \cos(\theta_1 + \pi)} = \frac{3}{1 - \cos\theta_1}$

$r_3 = \frac{3}{1 + \cos(\theta_1 + \frac{\pi}{2})} = \frac{3}{1 - \sin\theta_1}$

$r_4 = \frac{3}{1 + \cos(\theta_1 - \frac{\pi}{2})} = \frac{3}{1 + \sin\theta_1}$

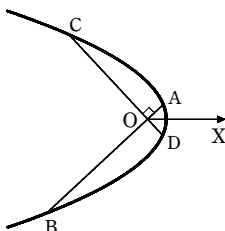
ここで  $AB = r_1 + r_2 = \frac{3}{1 + \cos\theta_1} + \frac{3}{1 - \cos\theta_1}$

$= \frac{6}{1 - \cos^2\theta_1} = \frac{6}{\sin^2\theta_1}$

$CD = r_3 + r_4 = \frac{3}{1 - \sin\theta_1} + \frac{3}{1 + \sin\theta_1}$

$= \frac{6}{1 - \sin^2\theta_1} = \frac{6}{\cos^2\theta_1}$

よって  $\frac{1}{AB} + \frac{1}{CD} = \frac{\sin^2\theta_1}{6} + \frac{\cos^2\theta_1}{6} = \frac{1}{6}$



第4講 例題演習

[1]

**解答** (1) A $(-2\sqrt{2}, -2\sqrt{2})$ , B(0, -3) (2) C $(1, \frac{7}{4}\pi)$ , D $(4, \frac{4}{3}\pi)$

**解説**

(1) A :  $x = 4\cos\frac{5}{4}\pi = -2\sqrt{2}$ ,  $y = 4\sin\frac{5}{4}\pi = -2\sqrt{2}$

よって A $(-2\sqrt{2}, -2\sqrt{2})$

B :  $x = 3\cos(-\frac{\pi}{2}) = 0$ ,  $y = 3\sin(-\frac{\pi}{2}) = -3$

よって B(0, -3)

(2) C :  $r = \sqrt{(\frac{\sqrt{2}}{2})^2 + (-\frac{\sqrt{2}}{2})^2} = 1$

よって  $\cos\theta = \frac{\sqrt{2}}{2}$ ,  $\sin\theta = -\frac{\sqrt{2}}{2}$

$0 \leq \theta < 2\pi$  から  $\theta = \frac{7}{4}\pi$

したがって C $(1, \frac{7}{4}\pi)$

D :  $r = \sqrt{(-2)^2 + (-2\sqrt{3})^2} = 4$

よって  $\cos\theta = \frac{-2}{4} = -\frac{1}{2}$ ,  $\sin\theta = \frac{-2\sqrt{3}}{4} = -\frac{\sqrt{3}}{2}$

$0 \leq \theta < 2\pi$  から  $\theta = \frac{4}{3}\pi$

したがって D $(4, \frac{4}{3}\pi)$

[2]

**解答** (1)  $r \cos(\theta - \frac{5}{4}\pi) = \sqrt{2}$  (2)  $r = 4\sin\theta$  (3)  $r^2 \cos 2\theta = -4$

**解説**

(1)  $x + y + 2 = 0$  に  $x = r\cos\theta$ ,  $y = r\sin\theta$  を代入すると

$r(\cos\theta + \sin\theta) = -2$

すなわち  $r(-\cos\theta - \sin\theta) = 2$

ゆえに  $r\left[\cos\theta \cdot \left(-\frac{1}{\sqrt{2}}\right) + \sin\theta \cdot \left(-\frac{1}{\sqrt{2}}\right)\right] = \sqrt{2}$

よって、求める極方程式は  $r\cos\left(\theta - \frac{5}{4}\pi\right) = \sqrt{2}$

(2)  $x^2 + y^2 - 4y = 0$  に  $x^2 + y^2 = r^2$ ,  $y = r\sin\theta$  を代入すると

$r(r - 4\sin\theta) = 0$

ゆえに  $r = 0$  または  $r = 4\sin\theta$

$r = 0$  は極を表し、 $r = 4\sin\theta$  は極(0, 0)を通る。

よって、求める極方程式は  $r = 4\sin\theta$

(3)  $x^2 - y^2 = -4$  に  $x = r\cos\theta$ ,  $y = r\sin\theta$  を代入すると

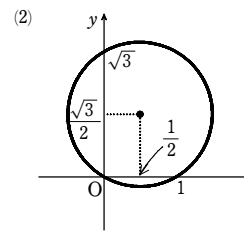
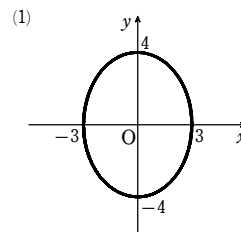
$r^2(\cos^2\theta - \sin^2\theta) = -4$

ゆえに  $r^2 \cos 2\theta = -4$

よって、求める極方程式は  $r^2 \cos 2\theta = -4$

[3]

**解答** (1)  $\frac{x^2}{9} + \frac{y^2}{16} = 1$ , [図] (2)  $x^2 + y^2 - x - \sqrt{3}y = 0$ , [図]



**解説**

(1)  $r^2(7\cos^2\theta + 9) = 144$  から

$7(r\cos\theta)^2 + 9r^2 = 144$

これに  $r\cos\theta = x$ ,  $r^2 = x^2 + y^2$  を代入して

$7x^2 + 9(x^2 + y^2) = 144$

よって  $16x^2 + 9y^2 = 144$

ゆえに  $\frac{x^2}{9} + \frac{y^2}{16} = 1$ , 右図。

(2) 極方程式の右辺を加法定理を用いて展開すると

$r = 2\left(\cos\theta \cos\frac{\pi}{3} + \sin\theta \sin\frac{\pi}{3}\right)$

すなわち  $r = \cos\theta + \sqrt{3}\sin\theta$

よって  $r^2 = r\cos\theta + \sqrt{3}r\sin\theta$

これに  $r^2 = x^2 + y^2$ ,  $r\cos\theta = x$ ,  $r\sin\theta = y$  を代入して

$x^2 + y^2 - x - \sqrt{3}y = 0$

これを变形して

$\left(x - \frac{1}{2}\right)^2 + \left(y - \frac{\sqrt{3}}{2}\right)^2 = 1$

ゆえに、右図。

**別解**  $r = 2\cos\left(\theta - \frac{\pi}{3}\right)$  ..... ① を变形して

$r = 2 \cdot 1 \cos\left(\theta - \frac{\pi}{3}\right)$

よって、極方程式①はC $(1, \frac{\pi}{3})$ を中心とし、半径1の円を表す。

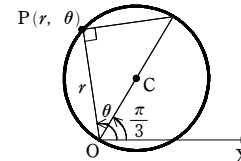
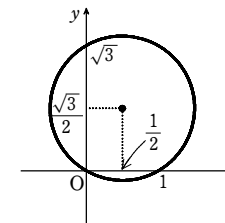
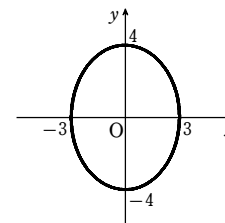
C $(1, \frac{\pi}{3})$ を直交座標で表すと

$C\left(1 \cdot \cos\frac{\pi}{3}, 1 \cdot \sin\frac{\pi}{3}\right)$

すなわち C $(\frac{1}{2}, \frac{\sqrt{3}}{2})$

ゆえに、極方程式①を直交座標に関する方程式で表すと

$\left(x - \frac{1}{2}\right)^2 + \left(y - \frac{\sqrt{3}}{2}\right)^2 = 1$

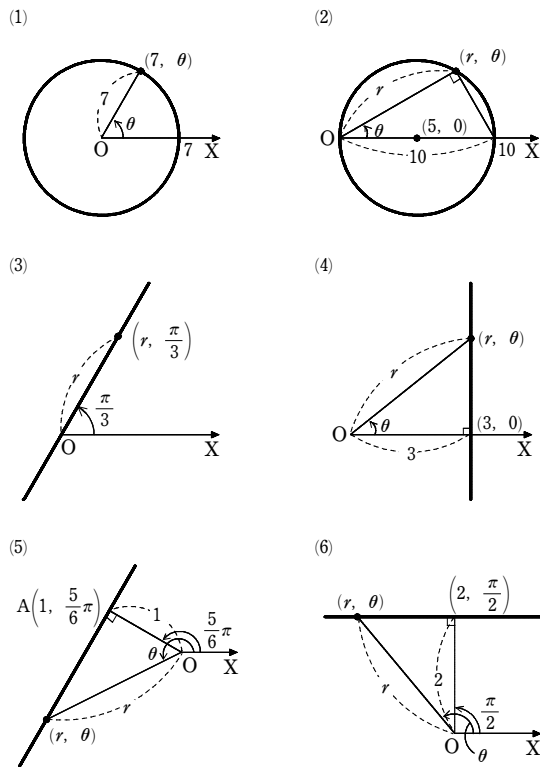


第4講 例題演習

4

【解答】 (1)~(6) [図]

- (1) 中心が極, 半径が7の円
- (2) 中心の極座標が(5, 0), 半径が5の円
- (3) 極を通り, 始線とのなす角が $\frac{\pi}{3}$ の直線
- (4) 極座標が(3, 0)である点を通り, 始線に垂直な直線
- (5) 極座標が $(1, \frac{5}{6}\pi)$ である点Aを通り, OAに垂直な直線 (Oは極)
- (6) 極座標が $(2, \frac{\pi}{2})$ である点を通り, 始線に平行な直線

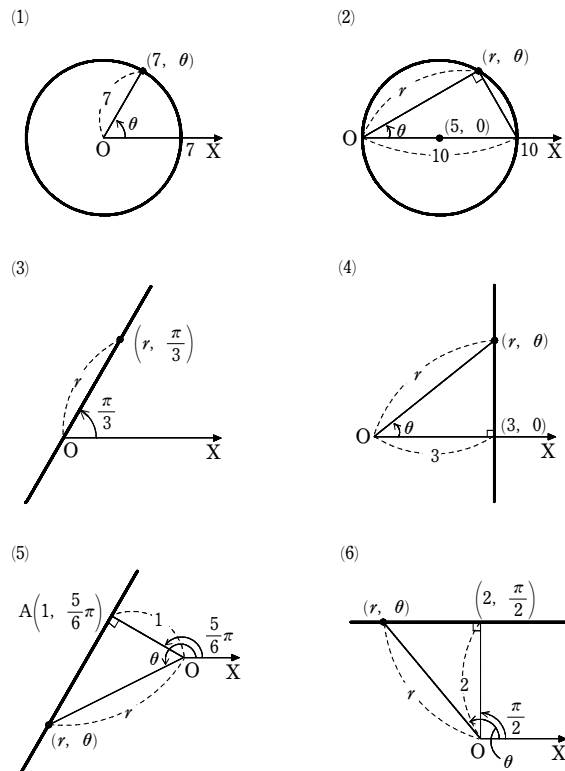


【解説】

- (1) 中心が極, 半径が7の円 [図]
- (2)  $r=10\cos\theta$  から  $r=2\cdot 5\cos\theta$   
よって, 中心の極座標が(5, 0), 半径が5の円 [図]
- (3) 極を通り, 始線とのなす角が $\frac{\pi}{3}$ の直線 [図]
- (4) 極座標が(3, 0)である点を通り, 始線に垂直な直線 [図]
- (5) 極座標が $(1, \frac{5}{6}\pi)$ である点Aを通り, OAに垂直な直線 (Oは極) [図]

(6)  $\sin\theta = \cos(\theta - \frac{\pi}{2})$  であるから, 極方程式は  $r\cos(\theta - \frac{\pi}{2}) = 2$

よって, 極座標が $(2, \frac{\pi}{2})$ である点を通り, 始線に平行な直線 [図]



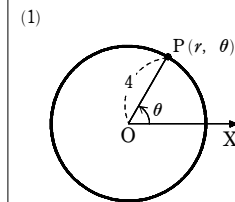
5

- 【解答】 (1)  $r=4$  (2)  $r = \frac{3}{\cos\theta}$  (3)  $\theta = \frac{\pi}{3}$  (4)  $r=6\cos\theta$   
 (5)  $r\cos(\theta - \frac{\pi}{3}) = 1$  (6)  $r\cos(\theta - \frac{\pi}{6}) = \frac{1}{2}$

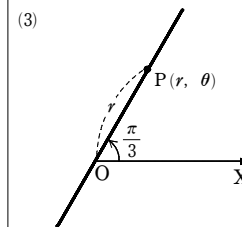
【解説】

曲線上の点Pの極座標を $(r, \theta)$ とする。

- (1)  $r=4$  (2)  $r\cos\theta = 3$  から  $r = \frac{3}{\cos\theta}$



(3)  $\theta = \frac{\pi}{3}$



(5) 極Oからこの直線に下ろした垂線をOHとする。右の図から

$\angle AOH = \frac{\pi}{2} - \frac{\pi}{6} = \frac{\pi}{3}$

$OH = OA\cos\frac{\pi}{3} = 2 \cdot \frac{1}{2} = 1$

よって, 点Hの極座標は  $(1, \frac{\pi}{3})$

したがって, 求める極方程式は  $r\cos(\theta - \frac{\pi}{3}) = 1$

(6) 極Oからこの直線に下ろした垂線をOH, 直線と始線の交点をCとする。右の図から

$\angle COH = \frac{\pi}{2} - \frac{\pi}{3} = \frac{\pi}{6}$

$\angle HOB = \frac{\pi}{2} - \frac{\pi}{6} = \frac{\pi}{3}$

$OH = OB\cos\angle HOB = 1 \cdot \cos\frac{\pi}{3} = \frac{1}{2}$

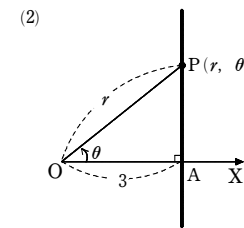
よって, 点Hの極座標は  $(\frac{1}{2}, \frac{\pi}{6})$

したがって, 求める極方程式は  $r\cos(\theta - \frac{\pi}{6}) = \frac{1}{2}$

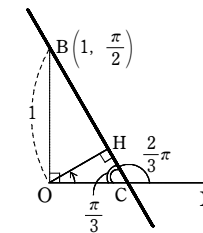
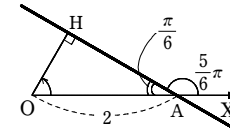
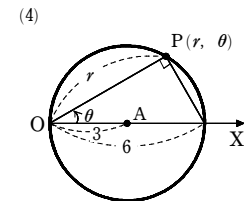
6

【解答】 (1)  $r = \frac{3}{2 - \cos\theta}$  (2)  $r = \frac{3}{1 - \cos\theta}$

【解説】

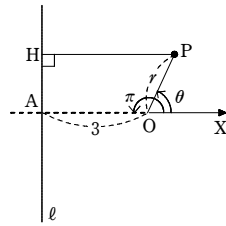


(4)  $r=6\cos\theta$



第4講 例題演習

点Pの極座標を $(r, \theta)$ とし、Pから直線 $l$ に下ろした垂線をPHとする。



(1)  $OP : PH = \frac{1}{2} : 1$  より  $2OP = PH$

これを満たす点Pは直線 $l$ の右側にあり

$OP = r$

$PH = 3 + r \cos \theta$

よって  $2r = 3 + r \cos \theta$

したがって、求める極方程式は  $r = \frac{3}{2 - \cos \theta}$

(2)  $OP : PH = 1 : 1$  より  $OP = PH$

これを満たす点Pは直線 $l$ の右側にあり

$OP = r$

$PH = 3 + r \cos \theta$

よって  $r = 3 + r \cos \theta$

したがって、求める極方程式は  $r = \frac{3}{1 - \cos \theta}$

7

【解答】 略

【解説】

楕円を直交座標において  $\frac{x^2}{a^2} + \frac{y^2}{b^2} = 1$  ( $a > b > 0$ ) とする。

楕円の中心O(原点)を極、 $x$ 軸の正の向きを始線とすると、楕円の極方程式は

$$\frac{r^2 \cos^2 \theta}{a^2} + \frac{r^2 \sin^2 \theta}{b^2} = 1$$

よって  $\frac{1}{r^2} = \frac{\cos^2 \theta}{a^2} + \frac{\sin^2 \theta}{b^2}$

$OP \perp OQ$  であるから、2点P, Qの極座標は  $P(r_1, \alpha)$ ,

$Q(r_2, \alpha + \frac{\pi}{2})$  ( $r_1 > 0, r_2 > 0$ ) とおけて、このとき

$OP = r_1, OQ = r_2$

P, Qは楕円にあるから

$$\frac{1}{r_1^2} = \frac{\cos^2 \alpha}{a^2} + \frac{\sin^2 \alpha}{b^2},$$

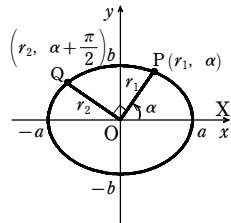
$$\frac{1}{r_2^2} = \frac{\cos^2(\alpha + \frac{\pi}{2})}{a^2} + \frac{\sin^2(\alpha + \frac{\pi}{2})}{b^2}$$

よって  $\frac{1}{r_2^2} = \frac{\sin^2 \alpha}{a^2} + \frac{\cos^2 \alpha}{b^2}$

したがって  $\frac{1}{OP^2} + \frac{1}{OQ^2} = \frac{1}{r_1^2} + \frac{1}{r_2^2} = \left(\frac{\cos^2 \alpha}{a^2} + \frac{\sin^2 \alpha}{b^2}\right) + \left(\frac{\sin^2 \alpha}{a^2} + \frac{\cos^2 \alpha}{b^2}\right)$

$$= \frac{\sin^2 \alpha + \cos^2 \alpha}{a^2} + \frac{\sin^2 \alpha + \cos^2 \alpha}{b^2}$$

$$= \frac{1}{a^2} + \frac{1}{b^2} \quad (\text{一定})$$

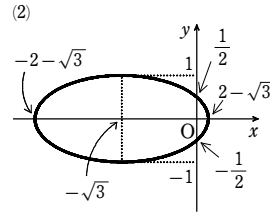


第4講 レベルA

1

【解答】 (1)  $r = \frac{3}{1 + \cos \theta}$

(2)  $\frac{(x + \sqrt{3})^2}{4} + y^2 = 1$ , [図]



【解説】

(1) 放物線上の点Pの極座標を $(r, \theta)$ とし、点Pから準線 $l$ に下ろした垂線をPHとすると  $OP = PH$

$OP = r, PH = 3 - r \cos \theta$  であるから  $r = 3 - r \cos \theta$

よって  $r = \frac{3}{1 + \cos \theta}$

(2)  $r = \frac{1}{2 + \sqrt{3} \cos \theta}$  から  $2r = 1 - \sqrt{3} r \cos \theta$

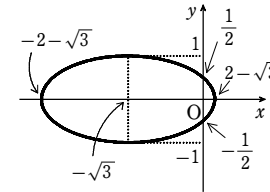
$r \cos \theta = x$  を代入して  $2r = 1 - \sqrt{3} x$

両辺を2乗して  $4r^2 = 1 - 2\sqrt{3} x + 3x^2$

$r^2 = x^2 + y^2$  を代入して

$x^2 + 2\sqrt{3} x + 4y^2 - 1 = 0$

よって  $\frac{(x + \sqrt{3})^2}{4} + y^2 = 1$ , 右図



2

【解答】 (1)  $AB = \sqrt{7}$  (2)  $r(\sqrt{3} \cos \theta - 2 \sin \theta) = \sqrt{3}$

【解説】

極をOとする。

(1)  $\triangle OAB$  について、余弦定理より

$$AB^2 = 1^2 + 2^2 - 2 \cdot 1 \cdot 2 \cos\left(2\pi - \frac{4}{3}\pi\right)$$

$$= 1 + 4 - 4 \cdot \left(-\frac{1}{2}\right) = 7$$

したがって  $AB = \sqrt{7}$

(2) Aの直交座標は  $1 \cdot \cos 0 = 1, 1 \cdot \sin 0 = 0$  より (1, 0)

Bの直交座標は  $2 \cos \frac{4}{3}\pi = -1, 2 \sin \frac{4}{3}\pi = -\sqrt{3}$  より  $(-1, -\sqrt{3})$

直線ABの直交座標に関する方程式は

$$y - 0 = \frac{-\sqrt{3} - 0}{-1 - 1}(x - 1) \quad \text{すなわち} \quad \sqrt{3}x - 2y = \sqrt{3}$$

これに  $x = r \cos \theta, y = r \sin \theta$  を代入して、求める極方程式は

$$r(\sqrt{3} \cos \theta - 2 \sin \theta) = \sqrt{3}$$

3

【解答】 (1) ①  $2\sqrt{7}$  ②  $2\sqrt{3}$  (2)  $\frac{-\sqrt{2} + 12\sqrt{3} + 7\sqrt{6}}{4}$

【解説】

(1)  $\triangle OAB$  において

$OA = 2, OB = 4,$

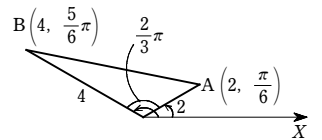
$\angle AOB = \frac{5}{6}\pi - \frac{\pi}{6} = \frac{2}{3}\pi$

① 余弦定理により

$$AB^2 = 2^2 + 4^2 - 2 \cdot 2 \cdot 4 \cos \frac{2}{3}\pi = 28$$

ゆえに  $AB = \sqrt{28} = 2\sqrt{7}$

②  $\triangle OAB$  の面積  $S$  は  $S = \frac{1}{2} \cdot 2 \cdot 4 \sin \frac{2}{3}\pi = 2\sqrt{3}$



(2)  $A\left(4, -\frac{\pi}{3}\right)$  から  $A\left(4, -\frac{\pi}{3} + 2\pi\right)$  すなわち  $A\left(4, \frac{5}{3}\pi\right)$

$\triangle ABC$  を図示すると、右の図のようになる。

ゆえに

$$\triangle OAB = \frac{1}{2} OA \cdot OB \sin \angle AOB$$

$$= \frac{1}{2} \cdot 4 \cdot 3 \sin \frac{2}{3}\pi = 6 \times \frac{\sqrt{3}}{2}$$

$$= 3\sqrt{3}$$

$$\triangle OBC = \frac{1}{2} OB \cdot OC \sin \angle BOC$$

$$= \frac{1}{2} \cdot 3 \cdot 2 \sin\left(\frac{3}{4}\pi - \frac{\pi}{3}\right)$$

$$= 3\left(\sin \frac{3}{4}\pi \cos \frac{\pi}{3} - \cos \frac{3}{4}\pi \sin \frac{\pi}{3}\right)$$

$$= 3\left[\frac{\sqrt{2}}{2} \cdot \frac{1}{2} - \left(-\frac{\sqrt{2}}{2}\right) \cdot \frac{\sqrt{3}}{2}\right] = \frac{3(\sqrt{2} + \sqrt{6})}{4}$$

$$\triangle OCA = \frac{1}{2} OC \cdot OA \sin \angle COA$$

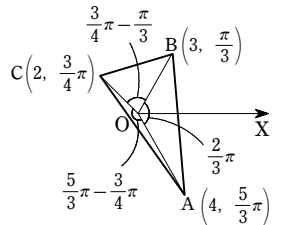
$$= \frac{1}{2} \cdot 2 \cdot 4 \sin\left(\frac{5}{3}\pi - \frac{3}{4}\pi\right)$$

$$= 4\left(\sin \frac{5}{3}\pi \cos \frac{3}{4}\pi - \cos \frac{5}{3}\pi \sin \frac{3}{4}\pi\right)$$

$$= 4\left[\left(-\frac{\sqrt{3}}{2}\right)\left(-\frac{\sqrt{2}}{2}\right) - \frac{1}{2} \cdot \frac{\sqrt{2}}{2}\right] = \sqrt{6} - \sqrt{2}$$

よって  $\triangle ABC = 3\sqrt{3} + \frac{3(\sqrt{2} + \sqrt{6})}{4} + \sqrt{6} - \sqrt{2}$

$$= \frac{-\sqrt{2} + 12\sqrt{3} + 7\sqrt{6}}{4}$$



4

【解答】  $\frac{4}{\sqrt{3}} a$

【解説】

A(2a, 0), P(r, theta) とすると、A, Pの直交座標は

A(2a, 0), P(r cos theta, r sin theta)

$r = a(1 + \cos \theta)$  であるから

$$AP^2 = (r \cos \theta - 2a)^2 + (r \sin \theta)^2$$

$$= r^2 - 4ar \cos \theta + 4a^2$$

$$= a^2(1 + \cos \theta)^2 - 4a^2 \cos \theta(1 + \cos \theta) + 4a^2$$

$$\begin{aligned}
 &= -3a^2\cos^2\theta - 2a^2\cos\theta + 5a^2 \\
 &= -3a^2\left(\cos^2\theta + \frac{2}{3}\cos\theta\right) + 5a^2 \\
 &= -3a^2\left(\cos\theta + \frac{1}{3}\right)^2 + \frac{16}{3}a^2
 \end{aligned}$$

ゆえに、 $-1 \leq \cos\theta \leq 1$  の範囲において、 $\cos\theta = -\frac{1}{3}$  のとき、 $AP^2$  は最大となる。

$AP \geq 0$  であるから、 $AP^2$  が最大るとき、 $AP$  も最大となる。

したがって、 $AP$  の最大値は  $\sqrt{\frac{16}{3}a^2} = \frac{4}{\sqrt{3}}a$

5

**解答**  $r\cos\theta = -\sqrt{3}$ ,  $r\cos\left(\theta + \frac{2}{3}\pi\right) = -\sqrt{3}$

**解説**

P の極座標を  $(s, \alpha)$ 、Q の極座標を  $(r, \theta)$  とする。

P は与えられた直線上にあるから

$$s\cos\left(\alpha + \frac{\pi}{3}\right) = -\sqrt{3} \quad \dots\dots ①$$

$\triangle OPQ$  は正三角形であるから

$$OQ = OP, \angle POQ = \frac{\pi}{3}$$

よって  $(r, \theta) = \left(s, \alpha + \frac{\pi}{3}\right)$ ,

$$\left(s, \alpha - \frac{\pi}{3}\right)$$

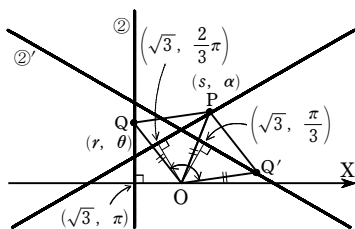
ゆえに  $(s, \alpha) = \left(r, \theta - \frac{\pi}{3}\right)$ ,  $\left(r, \theta + \frac{\pi}{3}\right)$

$(s, \alpha) = \left(r, \theta - \frac{\pi}{3}\right)$  のとき、① から  $r\cos\theta = -\sqrt{3}$

$(s, \alpha) = \left(r, \theta + \frac{\pi}{3}\right)$  のとき、① から  $r\cos\left(\theta + \frac{2}{3}\pi\right) = -\sqrt{3}$

したがって、Q の軌跡の極方程式は

$$r\cos\theta = -\sqrt{3}, r\cos\left(\theta + \frac{2}{3}\pi\right) = -\sqrt{3}$$



1

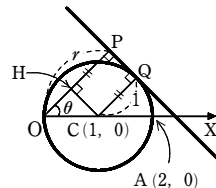
**解答**  $r = 1 + \cos\theta$

**解説**

円 C の中心を C とすると、その極座標は  $(1, 0)$  である。

[1]  $0 < \theta < \frac{\pi}{2}$  のとき

中心 C から直線 OP へ下ろした垂線の足を H とすると  
 $OC = CQ = HP = 1$   
 $\angle COH = \theta$ ,  $OH = \cos\theta$  から  
 $OP = HP + OH = 1 + \cos\theta$

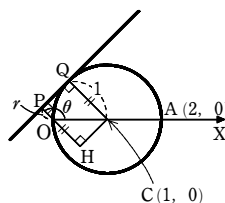


[2]  $\frac{\pi}{2} < \theta < \pi$  のとき

[1] と同様にして、 $\angle COH = \pi - \theta$ ,  
 $OH = \cos(\pi - \theta) = -\cos\theta$  から  
 $OP = HP - OH = 1 + \cos\theta$

[3]  $\theta = 0$  のとき

このとき、P は A に一致して  $OP = 2$   
 よって、 $OP = 1 + \cos\theta$  を満たす。



[4]  $\theta = \frac{\pi}{2}$  のとき

このとき、 $OP = CQ = 1$  であるから、 $OP = 1 + \cos\theta$  を満たす。  
 ゆえに、点 P の軌跡の極方程式は  
 $r = 1 + \cos\theta$

2

**解答** (1)  $r\sin\left(\theta + \frac{\pi}{3}\right) = 1$  (2)  $\sqrt{3}x + y = 2$

**解説**

(1) 点 Q の極座標を  $(r, \theta)$ 、点 P の極座標を  $(R, \alpha)$  とする。

点 P は直線  $y = 1$  上を動くから  $R\sin\alpha = 1 \quad \dots\dots ①$   
 また、 $\triangle OPQ$  は正三角形で、O, P, Q はこの順で時計

計回りに並ぶから  $R = r$ ,  $\alpha = \theta + \frac{\pi}{3}$

これを①に代入すると  $r\sin\left(\theta + \frac{\pi}{3}\right) = 1$

よって、点 Q の軌跡を極方程式で表すと

$$r\sin\left(\theta + \frac{\pi}{3}\right) = 1$$

(2) (1) から  $r\left(\sin\theta\cos\frac{\pi}{3} + \cos\theta\sin\frac{\pi}{3}\right) = 1$

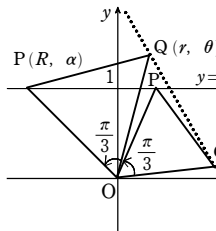
すなわち  $\frac{1}{2}r\sin\theta + \frac{\sqrt{3}}{2}r\cos\theta = 1$

$r\cos\theta = x$ ,  $r\sin\theta = y$  を代入すると  $\frac{1}{2}y + \frac{\sqrt{3}}{2}x = 1$

すなわち  $\sqrt{3}x + y = 2$

3

**解答** (1) 中心は  $(1, 0)$ 、半径は 1



(2)  $r\cos\left(\theta - \frac{\pi}{4}\right) = \sqrt{2}$

(3)  $r = 2\sqrt{2}\cos\left(\theta - \frac{\pi}{4}\right)$

**解説**

(1)  $r = 2\cos\theta$  の両辺に  $r$  を掛けると  $r^2 = 2r\cos\theta$   
 $r^2 = x^2 + y^2$ ,  $r\cos\theta = x$  を代入すると  $x^2 + y^2 = 2x$   
 すなわち  $(x - 1)^2 + y^2 = 1$

よって、円 C の中心の直交座標は  $(1, 0)$ 、半径は 1  
 (2) 線分 OB は円 C の直径であるから  $OA \perp AB$   
 よって、直線 l は、点 A を通り OA に垂直な直線である。

ゆえに、直線 l 上の点 P の極座標を  $(r, \theta)$  とすると、  
 $OA = OP\cos\angle POA$  から  $\sqrt{2} = r\cos\left|\theta - \frac{\pi}{4}\right|$

したがって、直線 l の極方程式は

$$r\cos\left(\theta - \frac{\pi}{4}\right) = \sqrt{2}$$

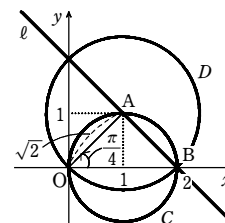
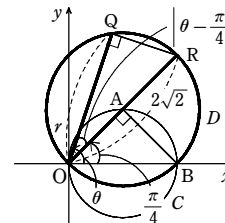
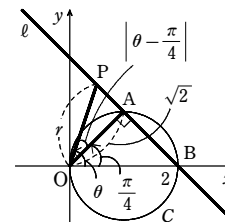
(3) 円 D 上の点 Q の極座標を  $(r, \theta)$  とする。

$AB = OA = \sqrt{2}$  であるから、極座標が  $\left(2\sqrt{2}, \frac{\pi}{4}\right)$  である点を R とすると、直角三角形 OQR において

$$OQ = OR\cos\angle QOR$$

したがって、円 D の極方程式は

$$r = 2\sqrt{2}\cos\left(\theta - \frac{\pi}{4}\right)$$



**別解** (直交座標の  $x, y$  の方程式を極方程式に直す)

(2) 点 A, B の直交座標は、それぞれ  $A(1, 1)$ ,  $B(2, 0)$

よって、直線 l の方程式は  $x + y = 2$

$x = r\cos\theta$ ,  $y = r\sin\theta$  を代入して

$$r\cos\theta + r\sin\theta = 2$$

すなわち  $r(\cos\theta + \sin\theta) = 2$

ここで  $\cos\theta + \sin\theta = \sqrt{2}\cos\left(\theta - \frac{\pi}{4}\right)$

したがって、直線 l の極方程式は  $r\cos\left(\theta - \frac{\pi}{4}\right) = \sqrt{2}$

(3)  $AB = \sqrt{2}$  であるから、円 D の方程式は  $(x - 1)^2 + (y - 1)^2 = 2$

すなわち  $x^2 + y^2 = 2x + 2y$

$x^2 + y^2 = r^2$ ,  $x = r\cos\theta$ ,  $y = r\sin\theta$  を代入して  $r^2 = 2r\cos\theta + 2r\sin\theta$

よって  $r(\cos\theta + \sin\theta) = 2$

すなわち  $r\left(\cos\theta + \sin\theta\right) = 2$

ゆえに  $r = 0$  または  $r = 2\sqrt{2}\cos\left(\theta - \frac{\pi}{4}\right)$

$r = 0$  は極を表し、曲線  $r = 2\sqrt{2}\cos\left(\theta - \frac{\pi}{4}\right)$  は極を通る。

第4講 レベルB

したがって、円  $D$  の極方程式は  $r = 2\sqrt{2} \cos\left(\theta - \frac{\pi}{4}\right)$

4

【解答】 (1) 略 (2)  $h = \frac{ab}{\sqrt{a^2 + b^2}}$

【解説】

(1)  $\triangle OAB$  の面積を  $S$  とする。

$$\angle AOB = \frac{\pi}{2} \text{ であるから } S = \frac{1}{2} OA \cdot OB \cdots \cdots \textcircled{1}$$

また、 $\triangle OAB$  は直角三角形であるから

$$AB = \sqrt{OA^2 + OB^2}$$

$$\text{よって } S = \frac{1}{2} AB \cdot h = \frac{1}{2} \sqrt{OA^2 + OB^2} \cdot h \cdots \cdots \textcircled{2}$$

$$\textcircled{1}, \textcircled{2} \text{ から } \frac{1}{2} OA \cdot OB = \frac{1}{2} \sqrt{OA^2 + OB^2} \cdot h$$

$$\text{両辺を 2 乗して整理すると } \frac{1}{h^2} = \frac{1}{OA^2} + \frac{1}{OB^2}$$

(2)  $OA = r_1$ ,  $OB = r_2$  とし、動径  $OA$ ,  $OB$  の表す角をそれぞれ  $\theta_1$ ,  $\theta_2$  とする。

ここで、 $\theta_2 = \theta_1 + \frac{\pi}{2}$  としても一般性を失わない。

このとき、 $\cos \theta_2 = \cos\left(\theta_1 + \frac{\pi}{2}\right) = -\sin \theta_1$ ,  $\sin \theta_2 = \sin\left(\theta_1 + \frac{\pi}{2}\right) = \cos \theta_1$  である

から、 $A(r_1 \cos \theta_1, r_1 \sin \theta_1)$ ,  $B(-r_2 \sin \theta_1, r_2 \cos \theta_1)$  とおける。

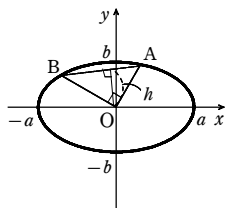
2点  $A$ ,  $B$  は楕円  $\frac{x^2}{a^2} + \frac{y^2}{b^2} = 1$  上にあるから

$$\frac{r_1^2 \cos^2 \theta_1}{a^2} + \frac{r_1^2 \sin^2 \theta_1}{b^2} = 1, \quad \frac{r_2^2 \sin^2 \theta_1}{a^2} + \frac{r_2^2 \cos^2 \theta_1}{b^2} = 1$$

$$\text{よって } \frac{1}{r_1^2} = \frac{\cos^2 \theta_1}{a^2} + \frac{\sin^2 \theta_1}{b^2}, \quad \frac{1}{r_2^2} = \frac{\sin^2 \theta_1}{a^2} + \frac{\cos^2 \theta_1}{b^2}$$

$$\begin{aligned} \text{ゆえに } \frac{1}{h^2} &= \frac{1}{OA^2} + \frac{1}{OB^2} = \frac{1}{r_1^2} + \frac{1}{r_2^2} = \frac{\sin^2 \theta_1 + \cos^2 \theta_1}{a^2} + \frac{\sin^2 \theta_1 + \cos^2 \theta_1}{b^2} \\ &= \frac{1}{a^2} + \frac{1}{b^2} = \frac{a^2 + b^2}{a^2 b^2} \end{aligned}$$

$$a > 0, b > 0, h > 0 \text{ であるから } h = \frac{ab}{\sqrt{a^2 + b^2}}$$



章末問題A

1

【解答】 (1)  $a \leq 2$  のとき最小値  $|a|$ ,  $a > 2$  のとき最小値  $2\sqrt{a-1}$

(2)  $a = \frac{\sqrt{3}}{3}, \frac{2+\sqrt{10}}{2}$

(2) P は放物線  $y^2=4x$  上の点であるから, P(s, t) とすると  $t^2=4s$

ゆえに  $AP^2=(s-a)^2+t^2=(s-a)^2+4s$   
 $=s^2-2(a-2)s+a^2$   
 $=[s-(a-2)]^2+4a-4$

$s = \frac{t^2}{4} \geq 0$  であるから

[1]  $a-2 \leq 0$  すなわち  $a \leq 2$  のとき

$AP^2$  は  $s=0$  のとき最小で, 最小値は  $a^2$

[2]  $0 < a-2$  すなわち  $a > 2$  のとき

$AP^2$  は  $s=a-2$  のとき最小で, 最小値は  $4a-4$

$a > 2$  から  $4a-4 > 0$

$AP \geq 0$  であるから,  $AP^2$  が最小のとき, AP も最小となる。

以上から  $a \leq 2$  のとき 最小値  $|a|$

$a > 2$  のとき 最小値  $2\sqrt{a-1}$

(2) 点 P(x, y) は楕円 C 上にあるから

$\frac{x^2}{10} + \frac{y^2}{6} = 1$  すなわち  $y^2 = 6 - \frac{3}{5}x^2$

よって  $PA^2 = (x-2a)^2 + y^2 = (x-2a)^2 + 6 - \frac{3}{5}x^2$

$= \frac{2}{5}x^2 - 4ax + 4a^2 + 6$

$= \frac{2}{5}(x-5a)^2 + 6 - 6a^2$

また,  $y^2 = \frac{3}{5}(10-x^2) \geq 0$  より  $-\sqrt{10} \leq x \leq \sqrt{10}$

[1]  $0 < 5a < \sqrt{10}$  すなわち  $0 < a < \frac{\sqrt{10}}{5}$  のとき

$PA^2$  は  $x=5a$  で最小値  $6-6a^2$  をとる。

よって  $6-6a^2=2^2$

$0 < a < \frac{\sqrt{10}}{5}$  を満たす  $a$  の値は  $a = \frac{\sqrt{3}}{3}$

[2]  $\sqrt{10} \leq 5a$  すなわち  $\frac{\sqrt{10}}{5} \leq a$  のとき

$PA^2$  は  $x=\sqrt{10}$  で最小値  $(2a-\sqrt{10})^2$  をとる。

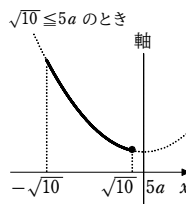
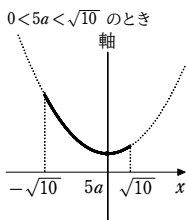
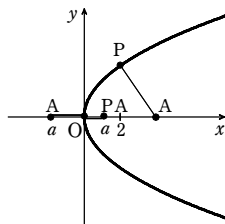
よって  $(2a-\sqrt{10})^2=2^2$

$\frac{\sqrt{10}}{5} \leq a$  を満たす  $a$  の値は  $a = \frac{2+\sqrt{10}}{2}$

以上から  $a = \frac{\sqrt{3}}{3}, \frac{2+\sqrt{10}}{2}$

2

【解答】  $\frac{(x+6)^2}{4} - \frac{(y-2)^2}{2} = -1$



双曲線  $x^2-2y^2=-4$  上の任意の点を P(u, v) とする。  
 また, 点(-3, 1) に関して P と対称な点を Q(x, y) とする。  
 線分 PQ の中点の座標が(-3, 1) であるから

$\frac{u+x}{2} = -3, \frac{v+y}{2} = 1$

ゆえに  $u = -x-6, v = -y+2$  ……①

P は, 双曲線  $x^2-2y^2=-4$  上にあるから, ① より

$(-x-6)^2 - 2(-y+2)^2 = -4$

すなわち  $(x+6)^2 - 2(y-2)^2 = -4$

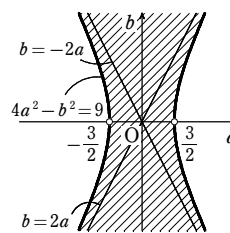
したがって, 求める曲線の方程式は

$\frac{(x+6)^2}{4} - \frac{(y-2)^2}{2} = -1$

3

【解答】 [図], 境界線は, 点  $(\pm\frac{3}{2}, 0)$  を除き,

他はすべて含む



(1) 双曲線  $\frac{x^2}{4} - \frac{y^2}{9} = 1$  と直線  $y = ax + b$  が共有点をもつための条件は,  $\frac{x^2}{4} - \frac{y^2}{9} = 1$

と  $y = ax + b$  の2式から  $y$  を消去して得られる  $x$  の方程式

$\frac{x^2}{4} - \frac{(ax+b)^2}{9} = 1$

すなわち  $(4a^2-9)x^2 + 8abx + 4(b^2+9) = 0$  ……①

が実数解をもつことである。

[1]  $4a^2-9 \neq 0$  すなわち  $a \neq \pm\frac{3}{2}$  のとき

2次方程式①の判別式を  $D$  とすると  $D \geq 0$

$\frac{D}{4} = (4ab)^2 - (4a^2-9) \cdot 4(b^2+9) = 36(b^2-4a^2+9)$  であるから,  $D \geq 0$  より

$b^2 - 4a^2 + 9 \geq 0$

すなわち  $4a^2 - b^2 \leq 9$

[2]  $4a^2-9=0$  すなわち  $a = \pm\frac{3}{2}$  のとき

①は  $\pm 12bx + 4(b^2+9) = 0$

これが実数解をもつための条件は  $b \neq 0$

[1], [2] より, 求める領域  $E$  は, 右の図の斜線部分のようになる。

ただし, 境界線は, 点  $(\pm\frac{3}{2}, 0)$  を除き, 他はすべて含む。

4

【解答】  $x = \frac{3\sqrt{2}}{2}, y = \sqrt{2}$  のとき最大値  $6\sqrt{2}$  ;

$x = -\frac{3\sqrt{2}}{2}, y = -\sqrt{2}$  のとき最小値  $-6\sqrt{2}$

不等式  $4x^2+9y^2 \leq 36$  で表される領域  $P$  は, 楕円  $\frac{x^2}{9} + \frac{y^2}{4} = 1$  の周および内部である。

$2x+3y=k$  とおくと  $y = \frac{1}{3}(-2x+k)$  ……①

直線①と領域  $P$  が共有点をもつような  $k$  の最大値, 最小値が求まるものである。

①を  $4x^2+9y^2=36$  に代入して

$4x^2 + (-2x+k)^2 = 36$

よって  $8x^2 - 4kx + k^2 - 36 = 0$  ……②

この2次方程式の判別式を  $D$  とすると  $\frac{D}{4} = (-2k)^2 - 8(k^2-36) = -4(k^2-72)$

$\frac{D}{4} \geq 0$  とすると  $k^2 - 72 \leq 0$  ゆえに  $-6\sqrt{2} \leq k \leq 6\sqrt{2}$

$k = 6\sqrt{2}$  のとき, ②の重解は  $x = -\frac{-4k}{2 \cdot 8} = \frac{3\sqrt{2}}{2}$

このとき, ①から  $y = \frac{1}{3}(-3\sqrt{2} + 6\sqrt{2}) = \sqrt{2}$

$k = -6\sqrt{2}$  のとき, ②の重解は  $x = -\frac{-4k}{2 \cdot 8} = -\frac{3\sqrt{2}}{2}$

このとき, ①から  $y = \frac{1}{3}(3\sqrt{2} - 6\sqrt{2}) = -\sqrt{2}$

したがって  $x = \frac{3\sqrt{2}}{2}, y = \sqrt{2}$  のとき最大値  $6\sqrt{2}$  ;

$x = -\frac{3\sqrt{2}}{2}, y = -\sqrt{2}$  のとき最小値  $-6\sqrt{2}$

5

【解答】 (1)  $\frac{ax}{4} + by = 1$  (2)  $\pm \frac{2t}{\sqrt{t^2-1}}$  (3)  $t = \sqrt{13}$ , 面積は  $\frac{13}{\sqrt{3}}$

(1)  $\frac{ax}{4} + by = 1$  ……①

(2) 接線①が点 P(0, t) を通るとき  $bt = 1$

よって  $b = \frac{1}{t}$  ……②

また, 点(a, b) は楕円 C 上の点であるから  $\frac{a^2}{4} + b^2 = 1$  ……③

②, ③から  $\frac{a^2}{4} + \frac{1}{t^2} = 1$

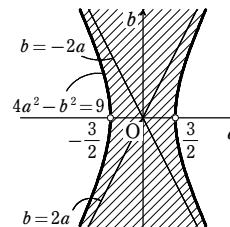
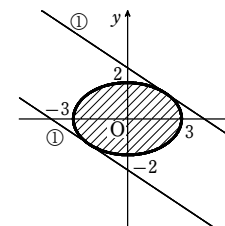
ゆえに  $a^2 = 4(1 - \frac{1}{t^2}) = \frac{4(t^2-1)}{t^2}$

ここで,  $t > 1$  であるから  $t^2 - 1 > 0$

よって  $a = \pm \frac{2\sqrt{t^2-1}}{t}$  ……④

接線①と  $x$  軸との交点の  $x$  座標は, ①で  $y=0$  として  $x = \frac{4}{a}$

ゆえに, ④から, 求める  $x$  座標は



章末問題A

$$\pm \frac{4t}{2\sqrt{t^2-1}} \quad \text{すなわち} \quad \pm \frac{2t}{\sqrt{t^2-1}}$$

(3)  $\frac{t}{\frac{2t}{\sqrt{t^2-1}}} = \tan 60^\circ$  であるから  $\frac{\sqrt{t^2-1}}{2} = \sqrt{3}$

両辺を2乗して  $\frac{t^2-1}{4} = 3$  よって  $t^2 = 13$

$t > 1$  であるから  $t = \sqrt{13}$

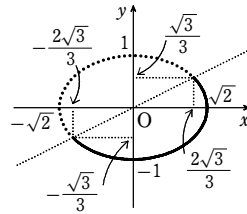
このときの正三角形の面積は  $\frac{1}{2} \cdot 2 \cdot \frac{2\sqrt{13}}{\sqrt{13-1}} \cdot \sqrt{13} = \frac{13}{\sqrt{3}}$

6

(1)  $\frac{x^2}{2} + y^2 = 1, y \leq \frac{x}{2}$ , [図]

(2) 接線の方程式は  $y = \frac{1}{\sqrt{2}}x - \sqrt{2}$ ,

接点の座標は  $(1, -\frac{1}{\sqrt{2}})$



(1)  $x = \frac{2\sqrt{3}}{3}\cos\theta + \frac{\sqrt{6}}{3}\sin\theta \dots\dots ①, y = \frac{\sqrt{3}}{3}\cos\theta - \frac{\sqrt{6}}{3}\sin\theta \dots\dots ②$  とする。

①+② から  $x+y = \sqrt{3}\cos\theta$  よって  $\cos\theta = \frac{1}{\sqrt{3}}(x+y) \dots\dots ③$

①-②×2 から  $x-2y = \sqrt{6}\sin\theta$  よって  $\sin\theta = \frac{1}{\sqrt{6}}(x-2y) \dots\dots ④$

③, ④ を  $\sin^2\theta + \cos^2\theta = 1$  に代入すると  $\frac{1}{6}(x-2y)^2 + \frac{1}{3}(x+y)^2 = 1$

整理すると  $x^2 + 2y^2 = 2$

また,  $0 \leq \theta \leq \pi$  より,  $\sin\theta \geq 0$  であるから  $\frac{1}{\sqrt{6}}(x-2y) \geq 0$

すなわち  $y \leq \frac{x}{2}$

ゆえに, C上の点(x, y)は  $\frac{x^2}{2} + y^2 = 1, y \leq \frac{x}{2}$  を満たす。

逆に, 平面上の点(x, y)が  $\frac{x^2}{2} + y^2 = 1, y \leq \frac{x}{2}$  を満たすとすると, 上の計算を逆に

たどることにより, ①, ② を満たす  $\theta (0 \leq \theta \leq \pi)$  が存在する。

よって, 点(x, y)はC上の点である。

以上から, 曲線Cを表すxとyの関係式は

$$\frac{x^2}{2} + y^2 = 1, y \leq \frac{x}{2}$$

であり, 曲線Cの概形は右の図の実線部分のようになる。

(2) まず, 点(2, 0)を通り, 楕円

$$\frac{x^2}{2} + y^2 = 1 \dots\dots ⑤$$
 に接する直線を考える。

この直線と楕円⑤の接点を  $(x_1, y_1)$  とすると, 接線の方程式は  $\frac{x_1}{2}x + y_1y = 1$

これが点(2, 0)を通るから  $x_1 = 1$

また,  $(x_1, y_1)$  は楕円⑤上にあるから  $\frac{x_1^2}{2} + y_1^2 = 1$

これに  $x_1 = 1$  を代入して整理すると  $y_1^2 = \frac{1}{2}$  よって  $y_1 = \pm \frac{1}{\sqrt{2}}$

ここで, 点  $(1, -\frac{1}{\sqrt{2}})$  はC上の点であり, 点  $(1, \frac{1}{\sqrt{2}})$  はC上の点でない。

したがって, 求める接線の方程式は  $y = \frac{1}{\sqrt{2}}x - \sqrt{2}$

接点の座標は  $(1, -\frac{1}{\sqrt{2}})$

7

[解答] 略

点Qの座標は  $(2\cos\theta, 2\sin\theta)$

よって  $\overrightarrow{OQ} = (2\cos\theta, 2\sin\theta)$

右の図において, QBはx軸に平行な半直線であり, Q'は半直線OQ上の点で  $OQ' > OQ$  とする。

図から  $\angle BQP = \angle BQQ' - \angle PQQ' = \theta - \frac{\pi}{2}$

また,  $PQ = \widehat{AQ} = 2\theta$  であるから

$$\begin{aligned} \overrightarrow{QP} &= (2\theta\cos(\theta - \frac{\pi}{2}), 2\theta\sin(\theta - \frac{\pi}{2})) \\ &= (2\theta\sin\theta, -2\theta\cos\theta) \end{aligned}$$

$\overrightarrow{OP} = \overrightarrow{OQ} + \overrightarrow{QP}$  であるから, Pの座標を(x, y)とすると

$$x = 2\cos\theta + 2\theta\sin\theta = 2(\cos\theta + \theta\sin\theta)$$

$$y = 2\sin\theta - 2\theta\cos\theta = 2(\sin\theta - \theta\cos\theta)$$

よって, Pが描く曲線の媒介変数表示は

$$x = 2(\cos\theta + \theta\sin\theta), y = 2(\sin\theta - \theta\cos\theta) \quad (0 \leq \theta \leq 2\pi)$$

8

[解答]  $\frac{\sqrt{2}}{2}\pi$

$r = 2(\cos\theta + \sin\theta)$  の両辺をr倍して

$$r^2 = 2r\cos\theta + 2r\sin\theta$$

ゆえに  $x^2 + y^2 = 2x + 2y$

$$\text{すなわち} \quad (x-1)^2 + (y-1)^2 = 2$$

$\frac{\pi}{2} \leq \theta \leq \frac{3\pi}{4}$  より, 曲線は右の図の太い実線部分のよう

になるから, 求める曲線の長さは  $\sqrt{2} \times \frac{\pi}{2} = \frac{\sqrt{2}}{2}\pi$

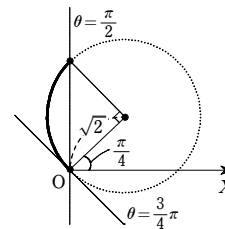
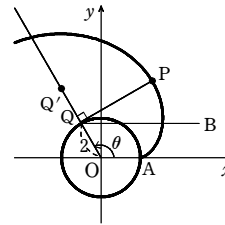
[別解]  $r = 2(\cos\theta + \sin\theta)$  から  $r = 2\sqrt{2}\cos(\theta - \frac{\pi}{4})$

よって, 極方程式  $r = 2(\cos\theta + \sin\theta)$  は

$$\text{中心が} (\sqrt{2}, \frac{\pi}{4}), \text{半径} \sqrt{2}$$

の円を表す。

以下同様。



9

[解答]  $a = \frac{3}{2}, (\sqrt{3}, \frac{\pi}{6})$

直線lの極方程式は

$$r\cos(\theta - \frac{\pi}{3}) = a \dots\dots ①$$

曲線Cは, 中心Cの極座標が(1, 0), 半径が1の円である。ただし, 極Oを除く。

このとき, 点Pの極座標を(r, theta)とする。

図から  $\angle PCO = \frac{2}{3}\pi$

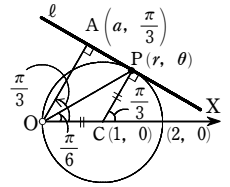
$\triangle PCO$  は, 二等辺三角形であるから  $\angle COP = \frac{\pi}{6}$

$$r = 2\cos\theta \text{ に } \theta = \frac{\pi}{6} \text{ を代入して } r = 2 \cdot \frac{\sqrt{3}}{2} = \sqrt{3}$$

よって, 点Pの極座標は  $(\sqrt{3}, \frac{\pi}{6})$

Pは直線l上の点であるから, ①より

$$a = \sqrt{3}\cos(-\frac{\pi}{6}) = \frac{3}{2}$$



10

[解答] (1)  $\theta = \pi$  のとき最大値3,  $\theta = \frac{\pi}{3}, \frac{5}{3}\pi$  のとき最小値0

$$(2) (\frac{3}{16}, \pm \frac{3\sqrt{15}}{16})$$

(1) 点  $P(f(\theta), \theta)$  と点  $Q(g(\theta), \theta)$  の間の距離をdとすると

$$d = |f(\theta) - g(\theta)| = |3\cos\theta - (1 + \cos\theta)| = |2\cos\theta - 1|$$

$0 \leq \theta < 2\pi$  より,  $-1 \leq \cos\theta \leq 1$  であるから, dは  $\cos\theta = -1$  すなわち  $\theta = \pi$  のとき最大値3,

$$\cos\theta = \frac{1}{2} \text{ すなわち } \theta = \frac{\pi}{3}, \frac{5}{3}\pi \text{ のとき最小値0}$$

をとる。

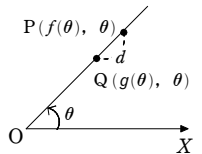
(2) 線分PQの中点が原点Oとなるための条件は  $f(\theta) + g(\theta) = 0$  かつ  $f(\theta) \neq 0$

すなわち  $3\cos\theta + (1 + \cos\theta) = 0$  かつ  $3\cos\theta \neq 0$

$$\text{よって} \quad \cos\theta = -\frac{1}{4}$$

$$\text{このとき} \quad f(\theta) = 3\cos\theta = -\frac{3}{4}, \quad \sin\theta = \pm\sqrt{1 - (-\frac{1}{4})^2} = \pm\frac{\sqrt{15}}{4}$$

点Pの直交座標は  $(f(\theta)\cos\theta, f(\theta)\sin\theta)$  で表されるから  $(\frac{3}{16}, \pm \frac{3\sqrt{15}}{16})$



章末問題B

1

【解答】 (1)  $PF^2 + PF'^2 = 2k^2 + 32$ ,  $PF \cdot PF' = 34 - k^2$

(2)  $k = \sqrt{22}$ ,  $\left(\frac{5\sqrt{13}}{4}, \frac{3\sqrt{3}}{4}\right)$

(1) 点 P の座標を  $(x, y)$  ( $x > 0, y > 0$ ) とする。

$OP = k$  より  $OP^2 = k^2$  であるから  $x^2 + y^2 = k^2$  ……①

よって  $PF^2 + PF'^2 = (x-4)^2 + y^2 + (x+4)^2 + y^2 = 2(x^2 + y^2) + 32 = 2k^2 + 32$

また、楕円の方程式から  $PF + PF' = 2 \cdot 5 = 10$

ゆえに  $PF \cdot PF' = \frac{1}{2} \{ (PF + PF')^2 - (PF^2 + PF'^2) \} = \frac{1}{2} \{ 10^2 - (2k^2 + 32) \} = 34 - k^2$

(2)  $\triangle PFF'$  において、余弦定理から

$FF'^2 = PF^2 + PF'^2 - 2PF \cdot PF' \cos \frac{\pi}{3}$

よって  $64 = 2k^2 + 32 - 2(34 - k^2) \cdot \frac{1}{2}$

したがって  $k^2 = 22$   $k > 0$  から  $k = \sqrt{22}$

このとき、①は  $x^2 + y^2 = 22$  ……②

また、楕円の方程式から  $9x^2 + 25y^2 = 25 \times 9$  ……③

②, ③ から  $x^2 = \frac{325}{16}$ ,  $y^2 = \frac{27}{16}$

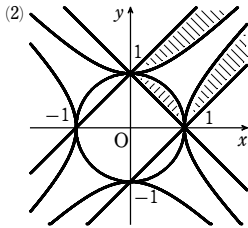
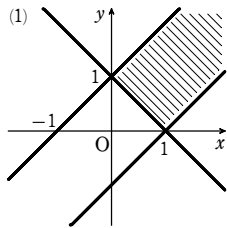
$x > 0, y > 0$  であるから  $x = \frac{5\sqrt{13}}{4}$ ,  $y = \frac{3\sqrt{3}}{4}$

よって、点 P の座標は  $\left(\frac{5\sqrt{13}}{4}, \frac{3\sqrt{3}}{4}\right)$

2

【解答】 (1) [図] 境界線は含まない。

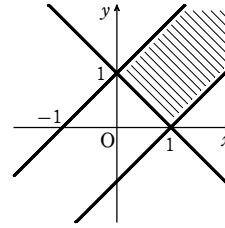
(2) [図] 境界線は含まない。



(1) 3 辺の長さが 1, x, y であるような三角形が存在するための条件は

$1 < x + y$  かつ  $x < 1 + y$  かつ  $y < 1 + x$   
すなわち  $y > -x + 1$  かつ  $y > x - 1$  かつ  $y < x + 1$   
よって、求める領域は右の図の斜線部分である。

ただし、境界線は含まない。



(2) 右の図の三角形において、余弦定理により

$\cos X = \frac{y^2 + 1 - x^2}{2y}$ ,  $\cos Y = \frac{x^2 + 1 - y^2}{2x}$ ,

$\cos Z = \frac{x^2 + y^2 - 1}{2xy}$

この三角形が鈍角三角形であるとき

$\cos X < 0$  または  $\cos Y < 0$  または  $\cos Z < 0$

よって  $\frac{y^2 + 1 - x^2}{2y} < 0$  または  $\frac{x^2 + 1 - y^2}{2x} < 0$  または  $\frac{x^2 + y^2 - 1}{2xy} < 0$

x, y は辺の長さであるから  $x > 0, y > 0$

ゆえに  $x^2 - y^2 > 1$  または  $x^2 - y^2 < -1$  または  $x^2 + y^2 < 1$

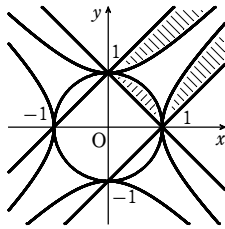
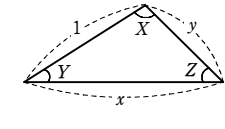
よって、3 辺の長さが 1, x, y であるような鈍角三角形が存在するための条件は

「 $y > -x + 1$  かつ  $y > x - 1$  かつ  $y < x + 1$ 」  
かつ

「 $x^2 - y^2 > 1$  または  $x^2 - y^2 < -1$ 」  
または  $x^2 + y^2 < 1$

よって、求める領域は右の図の斜線部分である。

ただし、境界線は含まない。



3

【解答】 略

点 P  $(x_1, y_1)$  における接線の方程式は

$\frac{x_1 x}{a^2} - \frac{y_1 y}{b^2} = 1$  ……①

また、 $x_1 > a$  であるから  $y_1 \neq 0$

① に  $x = a$  を代入すると

$\frac{x_1}{a} - \frac{y_1 y}{b^2} = 1$

$y_1 \neq 0$  であるから

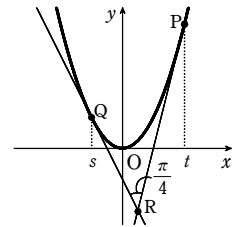
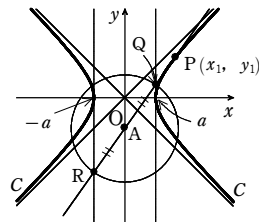
$y = \frac{b^2 x_1}{a y_1} - \frac{b^2}{y_1}$

① に  $x = -a$  を代入すると  $-\frac{x_1}{a} - \frac{y_1 y}{b^2} = 1$

$y_1 \neq 0$  であるから  $y = -\frac{b^2 x_1}{a y_1} - \frac{b^2}{y_1}$

よって  $Q\left(a, \frac{b^2 x_1}{a y_1} - \frac{b^2}{y_1}\right)$ ,  $R\left(-a, -\frac{b^2 x_1}{a y_1} - \frac{b^2}{y_1}\right)$

$\frac{1}{2} \left\{ \left(\frac{b^2 x_1}{a y_1} - \frac{b^2}{y_1}\right) + \left(-\frac{b^2 x_1}{a y_1} - \frac{b^2}{y_1}\right) \right\} = -\frac{b^2}{y_1}$  であるから、線分 QR の中点を A とす



ると  $A\left(0, -\frac{b^2}{y_1}\right)$

また  $AQ^2 = a^2 + \frac{b^4 x_1^2}{a^2 y_1^2}$

ゆえに、線分 QR を直径とする円の方程式は

$x^2 + \left(y + \frac{b^2}{y_1}\right)^2 = a^2 + \frac{b^4 x_1^2}{a^2 y_1^2}$  ……②

双曲線 C の 2 つの焦点は

$(\sqrt{a^2 + b^2}, 0)$ ,  $(-\sqrt{a^2 + b^2}, 0)$

② の左辺に  $x = \sqrt{a^2 + b^2}$ ,  $y = 0$  を代入すると  $a^2 + b^2 + \frac{b^4}{y_1^2}$

ここで、点 P は双曲線 C 上の点であるから  $\frac{x_1^2}{a^2} - \frac{y_1^2}{b^2} = 1$

よって  $a^2 + b^2 + \frac{b^4}{y_1^2} = a^2 + \frac{b^4}{y_1^2} \left(\frac{y_1^2}{b^2} + 1\right) = a^2 + \frac{b^4 x_1^2}{a^2 y_1^2}$

したがって、点  $(\sqrt{a^2 + b^2}, 0)$  は円 ② 上にある。

また、円 ② は y 軸に関して対称であるから、点  $(-\sqrt{a^2 + b^2}, 0)$  も円 ② 上にある。

4

【解答】 (1)  $X = \frac{s+t}{2}$ ,  $Y = st$  (2)  $2x^2 - 2\left(y + \frac{3}{4}\right)^2 = -1$  ( $y < -\frac{1}{4}$ )

(1)  $y = x^2$  から  $y' = 2x$

放物線  $y = x^2$  上の異なる 2 点 P  $(t, t^2)$ , Q  $(s, s^2)$  における接線の方程式は、それぞれ

$y = 2tx - t^2$  ……①,  $y = 2sx - s^2$  ……②

①, ② から y を消去すると  $2tx - t^2 = 2sx - s^2$

よって  $2(t-s)x = (t-s)(t+s)$

$t-s \neq 0$  から  $x = \frac{s+t}{2}$  このとき、① から  $y = st$

ゆえに  $X = \frac{s+t}{2}$ ,  $Y = st$

(2) 直線 PR, QR と x 軸の正の向きとのなす角をそれぞれ  $\alpha, \beta$  とすると

$\tan \alpha = 2t$ ,  $\tan \beta = 2s$

$\beta - \alpha = \frac{\pi}{4}$  であるから  $\tan(\beta - \alpha) = 1$

ここで

$\tan(\beta - \alpha) = \frac{\tan \beta - \tan \alpha}{1 + \tan \beta \tan \alpha} = \frac{2s - 2t}{1 + 2s \cdot 2t}$

よって、 $\frac{2s - 2t}{1 + 4st} = 1$  から  $2(s-t) = 1 + 4st$  ……③

$s < t$  であるから  $1 + 4st < 0$  ……④

③, ④ と (1) で求めた式から、s, t を消去する。

③ から  $\{2(s-t)\}^2 = (1+4st)^2$

左辺を変形すると  $4(s+t)^2 - 16st = (1+4st)^2$

(1) より、 $s+t=2X$ ,  $st=Y$  であるから  $4(2X)^2 - 16Y = (1+4Y)^2$

整理して  $2X^2 - 2\left(Y + \frac{3}{4}\right)^2 = -1$



章末問題B

また、④と  $st=Y$  から  $Y < -\frac{1}{4}$

したがって、点 R は双曲線  $2x^2 - 2\left(y + \frac{3}{4}\right)^2 = -1 \left(y < -\frac{1}{4}\right)$  上を動く。

5

【解答】  $y = 2\sqrt{5}x - 5, y = -2\sqrt{5}x - 5$

$y = x^2 \dots\dots ①, x^2 + \frac{y^2}{5} = 1 \dots\dots ②$  とする。

放物線①と楕円②の共通接線は  $x$  軸に垂直でないから、その方程式は

$$y = mx + n \dots\dots ③$$

と表される。

①, ③ から  $y$  を消去して  $x^2 = mx + n$

ゆえに  $x^2 - mx - n = 0$

この2次方程式の判別式を  $D$  とすると

$$D = (-m)^2 - 4 \cdot 1 \cdot (-n) = m^2 + 4n$$

直線③が放物線①と接するとき、 $D = 0$  から

$$m^2 + 4n = 0 \dots\dots ④$$

また、②, ③ から  $y$  を消去して

$$x^2 + \frac{(mx+n)^2}{5} = 1$$

よって  $5x^2 + m^2x^2 + 2mnx + n^2 - 5 = 0$

ゆえに  $(m^2+5)x^2 + 2mnx + n^2 - 5 = 0$

この2次方程式の判別式を  $D'$  とすると

$$\frac{D'}{4} = m^2n^2 - (m^2+5)(n^2-5) = 5(m^2-n^2+5)$$

直線③が楕円②と接するとき、 $D' = 0$  から

$$m^2 - n^2 + 5 = 0 \dots\dots ⑤$$

④, ⑤ から  $m$  を消去して  $n^2 + 4n - 5 = 0$

よって  $(n-1)(n+5) = 0$  ゆえに  $n = 1, -5$

④より、 $n \leq 0$  であるから  $n = -5$

よって、④から  $m^2 = -4 \cdot (-5) = 20$  ゆえに  $m = \pm 2\sqrt{5}$

したがって、求める共通接線の方程式は  $y = 2\sqrt{5}x - 5, y = -2\sqrt{5}x - 5$

【別解】  $y = x^2 \dots\dots ①, x^2 + \frac{y^2}{5} = 1 \dots\dots ②$  とする。

楕円②上の点  $(x_1, y_1)$  における接線の方程式は

$$x_1x + \frac{y_1y}{5} = 1 \dots\dots ③$$

①と③から  $y$  を消去して

$$y_1x^2 + 5x_1x - 5 = 0$$

この2次方程式の判別式を  $D$  とすると

$$D = (5x_1)^2 - 4 \cdot y_1 \cdot (-5) = 5(5x_1^2 + 4y_1)$$

直線③が放物線①と接するとき、 $D = 0$  から

$$5x_1^2 + 4y_1 = 0 \dots\dots ④$$

また、点  $(x_1, y_1)$  は楕円②上の点であるから

$$x_1^2 + \frac{y_1^2}{5} = 1 \dots\dots ⑤$$

④, ⑤ から  $x_1$  を消去して

$$y_1^2 - 4y_1 - 5 = 0$$

よって  $(y_1+1)(y_1-5) = 0$

ゆえに  $y_1 = -1, 5$

④より、 $y_1 \leq 0$  であるから  $y_1 = -1$

よって、④から  $x_1^2 = \frac{4}{5}$

ゆえに  $x_1 = \pm \frac{2}{\sqrt{5}}$

$x_1 = \frac{2}{\sqrt{5}}, y_1 = -1$  を③に代入して

$$\frac{2}{\sqrt{5}}x - \frac{1}{5}y = 1 \text{ すなわち } y = 2\sqrt{5}x - 5$$

$x_1 = -\frac{2}{\sqrt{5}}, y_1 = -1$  を③に代入して

$$-\frac{2}{\sqrt{5}}x - \frac{1}{5}y = 1 \text{ すなわち } y = -2\sqrt{5}x - 5$$

したがって、求める共通接線の方程式は

$$y = 2\sqrt{5}x - 5, y = -2\sqrt{5}x - 5$$

6

【解答】 円  $x^2 + y^2 = 25$

[1]  $a = \pm\sqrt{17}$  のとき  $b = \pm 2\sqrt{2}$  (複号任意)

[2]  $a \neq \pm\sqrt{17}$  のとき

点 P を通る傾き  $m$  の直線の方程式は  $y = m(x-a) + b$

これを楕円の方程式に代入して  $y$  を消去すると  $\frac{x^2}{17} + \frac{\{m(x-a) + b\}^2}{8} = 1$

整理すると  $(17m^2+8)x^2 + 34m(b-ma)x + 17\{(b-ma)^2-8\} = 0$

この2次方程式の判別式を  $D$  とすると

$$\begin{aligned} \frac{D}{4} &= 17^2m^2(b-ma)^2 - 17(17m^2+8)\{(b-ma)^2-8\} \\ &= 17 \cdot 8\{-(b-ma)^2 + 17m^2 + 8\} \\ &= 17 \cdot 8\{(17-a^2)m^2 + 2abm + 8 - b^2\} \end{aligned}$$

$D = 0$  から  $(17-a^2)m^2 + 2abm + 8 - b^2 = 0 \dots\dots ①$

$m$  の2次方程式①の2つの解を  $\alpha, \beta$  とすると  $\alpha\beta = -1$

解と係数の関係から  $\frac{8-b^2}{17-a^2} = -1$

ゆえに  $8 - b^2 = -(17 - a^2)$

よって  $a^2 + b^2 = 25 \dots\dots ②$

②は、 $a = \pm\sqrt{17}, b = \pm 2\sqrt{2}$  のときも成り立つ。

以上から、求める軌跡は 円  $x^2 + y^2 = 25$

7

【解答】  $P\left(1, -\frac{\sqrt{3}}{2}\right)$  のとき最大値  $\frac{12}{\sqrt{13}}, P\left(-1, \frac{\sqrt{3}}{2}\right)$  のとき最小値  $\frac{4}{\sqrt{13}}$

楕円  $\frac{x^2}{4} + y^2 = 1$  上の点 P は、 $P(2\cos\theta, \sin\theta) (0 \leq \theta < 2\pi)$  とおける。

点 P から直線  $x - 2\sqrt{3}y + 8 = 0$  に下ろした垂線の長さを  $l$  とすると

$$l = \frac{|2\cos\theta - 2\sqrt{3}\sin\theta + 8|}{\sqrt{1^2 + (-2\sqrt{3})^2}} = \frac{4}{\sqrt{13}} \left| 2 - \sin\left(\theta - \frac{\pi}{6}\right) \right|$$

ゆえに、 $\theta = \frac{5}{3}\pi$  のとき、 $l$  は最大となり、 $l$  の最大値は  $\frac{12}{\sqrt{13}}$

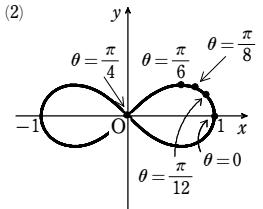
このとき、P の座標は  $\left(1, -\frac{\sqrt{3}}{2}\right)$

$\theta = \frac{2}{3}\pi$  のとき、 $l$  は最小となり、 $l$  の最小値は  $\frac{4}{\sqrt{13}}$

このとき、P の座標は  $\left(-1, \frac{\sqrt{3}}{2}\right)$

8

【解答】 (1) 略 (2)  $r^2 = \cos 2\theta$ , [図] (2)



(1)  $f(x, y) = (x^2 + y^2)^2 - (x^2 - y^2)$  とすると、与えられた曲線の方程式は

$$f(x, y) = 0 \dots\dots ①$$

$f(x, -y) = f(-x, y) = f(-x, -y) = f(x, y)$  であるから曲線①は、 $x$  軸、 $y$  軸、原点に関してそれぞれ対称である。

(2) 与式に  $x = r\cos\theta, y = r\sin\theta, x^2 + y^2 = r^2$  を代入すると

$$(r^2)^2 = r^2(\cos^2\theta - \sin^2\theta) \text{ よって } r^2 = \cos 2\theta \text{ (} r=0 \text{ も含む)}$$

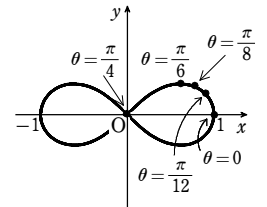
曲線の対称性から、 $r \geq 0, 0 \leq \theta \leq \frac{\pi}{2}$  とする。

また、 $r^2 \geq 0$  から  $\cos 2\theta \geq 0$

ゆえに、曲線の存在範囲は  $0 \leq \theta \leq \frac{\pi}{4}$

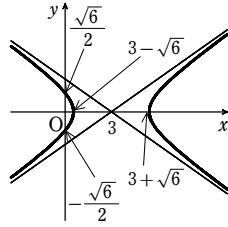
$\theta$	0	$\frac{\pi}{12}$	$\frac{\pi}{8}$	$\frac{\pi}{6}$	$\frac{\pi}{4}$
$r^2$	1	$\frac{\sqrt{3}}{2}$	$\frac{\sqrt{2}}{2}$	$\frac{1}{2}$	0

これらをもとにして、第1象限における曲線①をかき、それと  $x$  軸、 $y$  軸、原点に関して対称な曲線もかき加えると、曲線の概形は右の図のようになる。



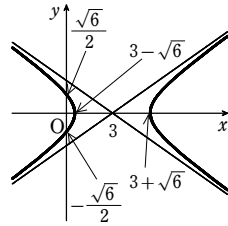
9

- 【解答】 (1)  $\frac{(x-3)^2}{6} - \frac{y^2}{3} = 1$ , 【図】  
 (2)  $a=1, k=\frac{\sqrt{6}}{2}$



- (1) 極方程式を変形して  $2r + \sqrt{6}r\cos\theta = \sqrt{6}$   
 $r\cos\theta = x$  であるから  $2r + \sqrt{6}x = \sqrt{6}$   
 すなわち  $2r = \sqrt{6}(1-x)$  両辺を2乗して  
 $r^2 = x^2 + y^2$  であるから  $4(x^2 + y^2) = 6(1-2x+x^2)$   
 整理すると  $x^2 - 6x - 2y^2 = -3$  …… ①

$4r^2 = 6(1-x)^2$



- したがって  $\frac{(x-3)^2}{6} - \frac{y^2}{3} = 1$   
 曲線の概形は右の図のようになる。  
 (2)  $kPH = OP$  から  $k^2PH^2 = OP^2$   
 $PH^2 = (x-a)^2, OP^2 = x^2 + y^2$  を代入して  
 $k^2(x-a)^2 = x^2 + y^2$  …… ②  
 ① から  $y^2 = \frac{1}{2}(x^2 - 6x + 3)$   
 ② に代入して  $k^2(x^2 - 2ax + a^2) = \frac{3}{2}x^2 - 3x + \frac{3}{2}$   
 $P(x, y)$  が (1) の曲線上を動くとき、 $k$  が一定となるから、この等式は  $x$  の恒等式である。  
 よって  $k^2 = \frac{3}{2}, 2ak^2 = 3, k^2a^2 = \frac{3}{2}$

$k > 0$  であるから  $k = \frac{\sqrt{6}}{2}$  ゆえに  $a=1$

10

- 【解答】 (1) 略 (2) 略

- (1) 楕円の直交座標による方程式を  $\frac{x^2}{a^2} + \frac{y^2}{b^2} = 1 (a > 0, b > 0)$  とする。

$\angle POQ = \frac{\pi}{2}$  であるから、 $P, Q$  の極座標は  $P(r_1, \theta), Q(r_2, \theta + \frac{\pi}{2})$  と表される。

ただし、 $r_1 > 0, r_2 > 0$  とする。

よって、 $P, Q$  の直交座標は

$P(r_1\cos\theta, r_1\sin\theta), Q(r_2\cos(\theta + \frac{\pi}{2}), r_2\sin(\theta + \frac{\pi}{2}))$

ゆえに  $Q(-r_2\sin\theta, r_2\cos\theta)$

点  $P$  は楕円上にあるから  $\frac{r_1^2\cos^2\theta}{a^2} + \frac{r_1^2\sin^2\theta}{b^2} = 1$

よって  $r_1^2\left(\frac{\cos^2\theta}{a^2} + \frac{\sin^2\theta}{b^2}\right) = 1$

点  $Q$  は楕円上にあるから  $\frac{r_2^2\sin^2\theta}{a^2} + \frac{r_2^2\cos^2\theta}{b^2} = 1$

ゆえに  $r_2^2\left(\frac{\sin^2\theta}{a^2} + \frac{\cos^2\theta}{b^2}\right) = 1$

よって  $\frac{1}{OP^2} + \frac{1}{OQ^2} = \frac{1}{r_1^2} + \frac{1}{r_2^2}$   
 $= \left(\frac{\cos^2\theta}{a^2} + \frac{\sin^2\theta}{b^2}\right) + \left(\frac{\sin^2\theta}{a^2} + \frac{\cos^2\theta}{b^2}\right)$   
 $= \frac{1}{a^2}(\sin^2\theta + \cos^2\theta) + \frac{1}{b^2}(\sin^2\theta + \cos^2\theta)$   
 $= \frac{1}{a^2} + \frac{1}{b^2}$  (一定)

- (2)  $r(1 + e\cos\theta) = l (0 < e < 1, l > 0)$  …… ① とする。

$PQ \perp RS$  であるから

$P(r_1, \theta), R(r_2, \theta + \frac{\pi}{2}),$

$Q(r_3, \theta + \pi), S(r_4, \theta + \frac{3}{2}\pi)$

と表される。ただし、 $r_1 > 0, r_2 > 0, r_3 > 0, r_4 > 0$  とする。

2点  $P, Q$  は楕円①上にあるから

$PF = r_1 = \frac{l}{1 + e\cos\theta}, QF = r_3 = \frac{l}{1 + e\cos(\theta + \pi)}$

ここで  $\cos(\theta + \pi) = -\cos\theta$

ゆえに  $\frac{1}{PF} = \frac{1 + e\cos\theta}{l}, \frac{1}{QF} = \frac{1 - e\cos\theta}{l}$

よって  $\frac{1}{PF \cdot QF} = \frac{1}{PF} \cdot \frac{1}{QF} = \frac{1 - e^2\cos^2\theta}{l^2}$  …… ②

2点  $R, S$  は楕円①上にあるから

$RF = r_2 = \frac{l}{1 + e\cos(\theta + \frac{\pi}{2})}$

$SF = r_4 = \frac{l}{1 + e\cos(\theta + \frac{3}{2}\pi)}$

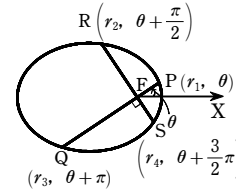
ここで  $\cos(\theta + \frac{\pi}{2}) = -\sin\theta, \cos(\theta + \frac{3}{2}\pi) = \sin\theta$

よって  $\frac{1}{RF} = \frac{1 - e\sin\theta}{l}, \frac{1}{SF} = \frac{1 + e\sin\theta}{l}$

ゆえに  $\frac{1}{RF \cdot SF} = \frac{1}{RF} \cdot \frac{1}{SF} = \frac{1 - e^2\sin^2\theta}{l^2}$  …… ③

②, ③ から

$\frac{1}{PF \cdot QF} + \frac{1}{RF \cdot SF} = \frac{2 - e^2(\cos^2\theta + \sin^2\theta)}{l^2} = \frac{2 - e^2}{l^2}$  (一定)



1

- 【解答】 (1) 略 (2) 略

- (1)  $P(\alpha, \beta) (\alpha < 0, \beta > 0)$  とおくと、接線  $l$  の方程式は  $\frac{\alpha x}{a^2} + \frac{\beta y}{b^2} = 1$

ゆえに、直線  $m$  の方程式は  $\frac{\alpha x}{a^2} + \frac{\beta y}{b^2} = 0$  すなわち  $y = -\frac{b^2\alpha}{a^2\beta}x$

これを楕円の方程式に代入して  $\frac{x^2}{a^2} + \frac{1}{b^2}\left(-\frac{b^2\alpha}{a^2\beta}\right)^2x^2 = 1$

よって  $x^2 = \frac{a^4\beta^2}{a^2\beta^2 + b^2\alpha^2} = \frac{a^4\beta^2}{a^2b^2\left(\frac{\alpha^2}{a^2} + \frac{\beta^2}{b^2}\right)} = \frac{a^2}{b^2}\beta^2$

$a > 0, b > 0, \beta > 0, x > 0$  から

$x = \frac{a}{b}\beta, y = -\frac{b^2\alpha}{a^2\beta} \cdot \frac{a}{b}\beta = -\frac{b}{a}\alpha$

よって  $A\left(\frac{a}{b}\beta, -\frac{b}{a}\alpha\right)$  であるから

$OA = \sqrt{\frac{a^2}{b^2}\beta^2 + \frac{b^2}{a^2}\alpha^2} = ab\sqrt{\frac{\alpha^2}{a^4} + \frac{\beta^2}{b^4}}$

また、 $PB$  の長さは原点  $O$  と直線  $l$  との距離に等しいから

$PB = \frac{1}{\sqrt{\frac{\alpha^2}{a^4} + \frac{\beta^2}{b^4}}}$

したがって  $OA \cdot PB = ab$

- (2)  $\triangle OPA, \triangle OFA$  の面積をそれぞれ  $S_1, S_2$  とすると、(1) から

$S_1 = \frac{1}{2}ab$  …… ①

また、 $F(\sqrt{a^2 - b^2}, 0)$  であるから

$S_2 = -\frac{b}{2a}\alpha\sqrt{a^2 - b^2}$  …… ②

ここで、 $S_1 : S_2 = PC : CF$  であるから

$\frac{S_1}{S_1 + S_2} = \frac{PC}{PC + CF} = \frac{PC}{PF}$  …… ③

$PF = \sqrt{(\alpha - \sqrt{a^2 - b^2})^2 + \beta^2} = \sqrt{\alpha^2 - 2\alpha\sqrt{a^2 - b^2} + a^2 - b^2 + b^2\left(1 - \frac{\alpha^2}{a^2}\right)}$

$= \frac{1}{a}\sqrt{a^4 - 2a^2\alpha\sqrt{a^2 - b^2} + \alpha^2(a^2 - b^2)} = \frac{1}{a}\sqrt{(a^2 - \alpha\sqrt{a^2 - b^2})^2}$

$\alpha < 0$  であるから  $PF = \frac{1}{a}(a^2 - \alpha\sqrt{a^2 - b^2})$  …… ④

①, ② から  $\frac{S_1}{S_1 + S_2} = \frac{\frac{1}{2}ab}{\frac{1}{2}ab - \frac{b}{2a}\alpha\sqrt{a^2 - b^2}} = \frac{a^2}{a^2 - \alpha\sqrt{a^2 - b^2}}$

これと ③, ④ から  $PC = \frac{S_1}{S_1 + S_2}PF = a$

2

- 【解答】 (1)  $R\left(\frac{1}{2\tan\alpha} + \frac{\sqrt{3}}{2}, 0\right)$  (2) 略

章末問題C

(1) 線分 PQ が x 軸と直交するとき、その交点を H とすると、H は線分 PQ の中点である。

$$\text{よって } OH = \frac{QH}{\tan \alpha} = \frac{1}{2 \tan \alpha}$$

また、点 R は x 軸上にあり、 $RH = \frac{\sqrt{3}}{2}$  であるから、点 R の座標は

$$\left( \frac{1}{2 \tan \alpha} + \frac{\sqrt{3}}{2}, 0 \right)$$

(2)  $OP = s$ ,  $OQ = t$  とすると

$$P(\cos \alpha, -s \sin \alpha), Q(t \cos \alpha, t \sin \alpha)$$

$$\text{よって } \overrightarrow{PQ} = ((t-s) \cos \alpha, (t+s) \sin \alpha)$$

$$\text{また } |\overrightarrow{PQ}| = PQ = 1$$

線分 PQ の中点を M とすると

$$\overrightarrow{OM} = \left( \frac{t+s}{2} \cos \alpha, \frac{t-s}{2} \sin \alpha \right)$$

$\overrightarrow{MR}$  は  $\overrightarrow{PQ}$  に垂直で大きさが  $\frac{\sqrt{3}}{2}$ , x 成分が正のベ

クトルである。

$\overrightarrow{PQ}$  と垂直で x 成分が正の単位ベクトルは  $((t+s) \sin \alpha, -(t-s) \cos \alpha)$  であるから

$$\overrightarrow{OR} = \overrightarrow{OM} + \overrightarrow{MR}$$

$$= \left( \frac{t+s}{2} \cos \alpha, \frac{t-s}{2} \sin \alpha \right) + \frac{\sqrt{3}}{2} ((t+s) \sin \alpha, -(t-s) \cos \alpha)$$

$$= \left( \frac{t+s}{2} (\cos \alpha + \sqrt{3} \sin \alpha), \frac{t-s}{2} (\sin \alpha - \sqrt{3} \cos \alpha) \right)$$

$$\frac{\cos \alpha + \sqrt{3} \sin \alpha}{2} = A, \frac{\sin \alpha - \sqrt{3} \cos \alpha}{2} = B \text{ とおき、R の座標を } (x, y) \text{ とすると}$$

$$x = A(t+s), y = B(t-s)$$

$$\text{よって } t = \frac{1}{2} \left( \frac{x}{A} + \frac{y}{B} \right), s = \frac{1}{2} \left( \frac{x}{A} - \frac{y}{B} \right) \dots \dots ①$$

$$\text{一方、} \triangle OPQ \text{ に余弦定理を適用すると } t^2 + s^2 - 2tscos2\alpha = 1$$

$$\text{これに } ① \text{ を代入して整理すると } \frac{1 - \cos 2\alpha}{2A^2} x^2 + \frac{1 + \cos 2\alpha}{2B^2} y^2 = 1$$

$$\frac{1 - \cos 2\alpha}{2A^2} > 0, \frac{1 + \cos 2\alpha}{2B^2} > 0 \text{ であるから、点 R の軌跡は楕円の一部である。}$$

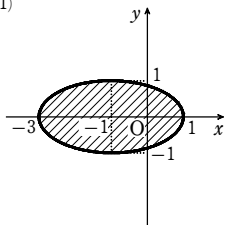
3

(解答) (1) [図] の斜線部分。ただし、境界線を含む。

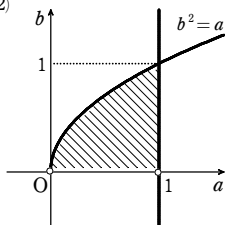
$$(2) 0 < a \leq 1, b > 0, b^2 \leq a$$

領域は [図] の斜線部分。ただし、境界線のうち a 軸を除く。

(1)



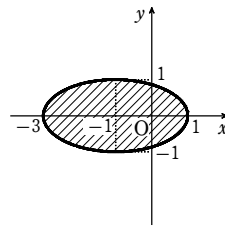
(2)



(1)  $a=2, b=1$  のとき、領域 D を表す不等式は

$$\frac{(x+1)^2}{4} + y^2 \leq 1$$

よって、D は楕円  $\frac{(x+1)^2}{4} + y^2 = 1$  およびその内部で、右の図の斜線部分。ただし、境界線を含む。



$$(2) \frac{(x-(1-a))^2}{a^2} + \frac{y^2}{b^2} = 1 \dots \dots ①,$$

$$x^2 + y^2 = 1 \dots \dots ②$$

とする。

楕円 ① の頂点のうち、x 軸上にあるものは

$$(1-2a, 0), (1, 0)$$

D が E に含まれるとき

$$1-2a \geq -1$$

$$\text{よって } 0 < a \leq 1 \dots \dots ③$$

$$① \text{ から } y^2 = b^2 \left\{ 1 - \frac{(x-1+a)^2}{a^2} \right\}$$

$$② \text{ から } y^2 = 1 - x^2$$

したがって、D が E に含まれるための条件は、

$$1-2a \leq x \leq 1 \dots \dots ④ \text{ (ただし、} 0 < a \leq 1 \text{) を満たすすべての } x \text{ について}$$

$$b^2 \left\{ 1 - \frac{(x-1+a)^2}{a^2} \right\} \leq 1 - x^2 \dots \dots ⑤$$

が成り立つことである。

$$\frac{x-1+a}{a} = t \text{ とおくと } x = at - a + 1$$

$$④ \text{ から } -1 \leq t \leq 1$$

$$⑤ \text{ から } (at - a + 1)^2 + b^2(1 - t^2) - 1 \leq 0$$

$$\text{変形して } a^2(t-1)^2 + 2a(t-1) + b^2(1-t^2) \leq 0$$

$$(t-1)((a^2 - b^2)t - (a^2 - 2a + b^2)) \geq 0$$

$-1 \leq t \leq 1$  で  $t-1 \leq 0$  であるから、 $-1 \leq t \leq 1$  において  $(a^2 - b^2)t - (a^2 - 2a + b^2) \geq 0$  が成り立てばよい。そのための条件は、

$$a=b \text{ のとき } -(a^2 - 2a + b^2) \geq 0 \text{ よって } 0 < a \leq 1$$

$a \neq b$  のとき

$$(a^2 - b^2) - (a^2 - 2a + b^2) \geq 0$$

$$\text{かつ } -(a^2 - b^2) - (a^2 - 2a + b^2) \geq 0$$

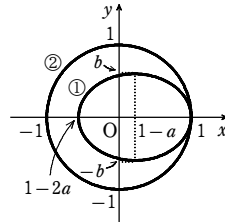
$$\text{よって } b^2 \leq a \text{ かつ } 0 < a \leq 1$$

まとめると

$$0 < a \leq 1, b > 0, b^2 \leq a$$

これは ③ を満たす。

よって、求める領域は右の図の斜線部分。ただし、境界線のうち a 軸を除く。



4

(解答) 双曲線  $2x^2 - 2\left(y + \frac{3}{4}\right)^2 = -1$  の  $y < -\frac{1}{4}$  の部分

点 P の座標を (X, Y) とおき、2 つの接点 A, B を  $A(s, s^2)$ ,  $B(t, t^2)$  (ただし  $s < t$ ) とする。

$$y = x^2 \text{ から } y' = 2x$$

点 A, B における接線の方程式はそれぞれ

$$y = 2sx - s^2 \dots \dots ①, y = 2tx - t^2 \dots \dots ②$$

点 P は、直線 ①, ② の交点である。

$$①, ② \text{ から } y \text{ を消去すると } 2sx - s^2 = 2tx - t^2$$

$$\text{よって } 2(t-s)x = (t-s)(t+s)$$

$$t-s \neq 0 \text{ から } x = \frac{s+t}{2} \quad ① \text{ から } y = st$$

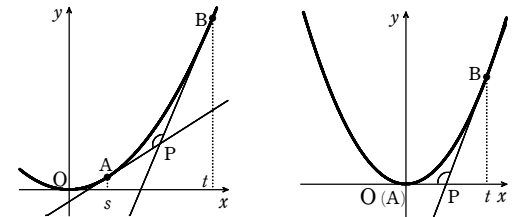
$$\text{ゆえに } X = \frac{s+t}{2}, Y = st$$

したがって、s, t は 2 次方程式  $c^2 - 2Xc + Y = 0$  の異なる 2 つの実数解であるから、判別式を D とすると  $\frac{D}{4} = (-X)^2 - 1 \cdot Y > 0$

ゆえに、 $Y < X^2$  であるから、点 P は放物線  $y = x^2$  よりも下側にある。

$$\text{ここで、} 0 < s < t \text{ とすると、} ①, ② \text{ の傾きはともに正となり } \angle APB > \frac{\pi}{2}$$

$$\text{また、} s=0, t>0 \text{ とすると、} ① \text{ の傾きは } 0, ② \text{ の傾きは正となり } \angle APB > \frac{\pi}{2}$$



$$s < t < 0 \text{ のとき、} s < 0, t=0 \text{ のときもそれぞれ同様に考えて } \angle APB > \frac{\pi}{2}$$

よって、 $\angle APB = \frac{\pi}{4}$  となるためには、 $s < 0 < t$  となる必要がある。

直線 AP, BP と x 軸の正の向きとのなす角をそれぞれ  $\alpha, \beta$  とすると、①, ② の傾きから  $\tan \alpha = 2s, \tan \beta = 2t$

$$\text{であり } 0 < \beta < \frac{\pi}{2} < \alpha < \pi$$

$$\text{よって } \angle APB = \alpha - \beta$$

$$\text{ゆえに、} \alpha - \beta = \frac{\pi}{4} \text{ であるから } \tan(\alpha - \beta) = 1$$

$$\text{ここで } \tan(\alpha - \beta) = \frac{\tan \alpha - \tan \beta}{1 + \tan \alpha \tan \beta} = \frac{2s - 2t}{1 + 4st}$$

$$\text{よって、} \frac{2s - 2t}{1 + 4st} = 1 \text{ から } 2(s-t) = 1 + 4st \dots \dots ③$$

$$s < t \text{ であるから } 1 + 4st < 0 \dots \dots ④$$

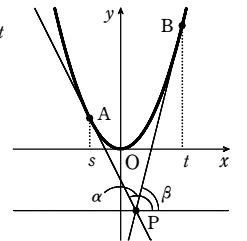
$$③ \text{ から } \{2(s-t)\}^2 = (1+4st)^2 \text{ すなわち } 4(s+t)^2 - 16st = (1+4st)^2$$

$$s+t=2X, st=Y \text{ を代入すると } 4(2X)^2 - 16Y = (1+4Y)^2$$

$$\text{整理して } 2X^2 - 2\left(Y + \frac{3}{4}\right)^2 = -1$$

$$\text{また、} ④ \text{ と } st=Y \text{ から } Y < -\frac{1}{4}$$

$$\text{ゆえに、点 P の軌跡は 双曲線 } 2x^2 - 2\left(y + \frac{3}{4}\right)^2 = -1 \text{ の } y < -\frac{1}{4} \text{ の部分}$$

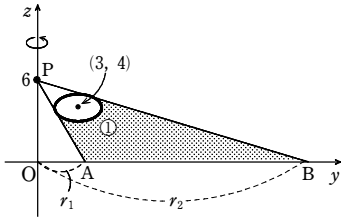


章末問題C

5

【解答】  $288\sqrt{2}\pi$

$(y-3)^2 + 3(z-4)^2 = 3 \dots\dots ①$  とする。  
 $yz$  平面上で、点  $P$  を通る楕円 ① の 2 つの接線と  $y$  軸との交点を  $A, B$  とし、  
 $OA = r_1, OB = r_2 (r_1 < r_2)$  とする。  
 立体  $T$  が  $xy$  平面上に作る影は、原点  $O$  を中心とする半径  $r_1$  と  $r_2$  の 2 つの円で囲まれる部分である。



$r_1$  と  $r_2$  は、 $yz$  平面上で楕円 ① と直線

$\frac{y}{r} + \frac{z}{6} = 1 \dots\dots ②$  が接するときの  $r$  の値である。

② から  $z = 6 - \frac{6}{r}y$

これを ① に代入して整理すると

$$(r^2 + 108)y^2 - 6(r^2 + 12r)y + 18r^2 = 0$$

この 2 次方程式の判別式を  $D$  とすると

$$\begin{aligned} \frac{D}{4} &= 9(r^2 + 12r)^2 - (r^2 + 108) \cdot 18r^2 \\ &= 9r^2(r + 12)^2 - 2(r^2 + 108) = -9r^2(r^2 - 24r + 72) \end{aligned}$$

楕円 ① と直線 ② が接するとき、 $D = 0$  であるから

$$-9r^2(r^2 - 24r + 72) = 0$$

$r > 0$  であるから  $r^2 - 24r + 72 = 0$

これを解くと  $r = 12 \pm 6\sqrt{2} = 6(2 \pm \sqrt{2})$

$r_1 < r_2$  から  $r_1 = 6(2 - \sqrt{2}), r_2 = 6(2 + \sqrt{2})$

したがって、求める影の面積は

$$\pi r_2^2 - \pi r_1^2 = \pi(r_2 + r_1)(r_2 - r_1) = \pi \times 6 \cdot 4 \times 6 \cdot 2\sqrt{2} = 288\sqrt{2}\pi$$

6

【解答】 (1) 楕円  $\frac{x^2}{\left(R + \frac{1}{R}\right)^2} + \frac{y^2}{\left(R - \frac{1}{R}\right)^2} = 1$

(2) 双曲線  $\frac{x^2}{4\cos^2\alpha} - \frac{y^2}{4\sin^2\alpha} = 1$  の  $x \geq 2\cos\alpha$  の部分

(1)  $w = R(\cos\theta + i\sin\theta) (0 \leq \theta < 2\pi)$  とおくと

$$\frac{1}{w} = \frac{1}{R(\cos\theta + i\sin\theta)} = \frac{1}{R}(\cos\theta - i\sin\theta)$$

よって  $w + \frac{1}{w} = \left(R + \frac{1}{R}\right)\cos\theta + i\left(R - \frac{1}{R}\right)\sin\theta$

$w + \frac{1}{w} = x + yi$  であるから、実部と虚部を比較して

$$x = \left(R + \frac{1}{R}\right)\cos\theta, \quad y = \left(R - \frac{1}{R}\right)\sin\theta$$

$R > 1$  であるから  $R + \frac{1}{R} \neq 0, R - \frac{1}{R} \neq 0$

ゆえに  $\cos\theta = \frac{x}{R + \frac{1}{R}}, \sin\theta = \frac{y}{R - \frac{1}{R}}$

$\cos^2\theta + \sin^2\theta = 1$  であるから、求める軌跡は 楕円  $\frac{x^2}{\left(R + \frac{1}{R}\right)^2} + \frac{y^2}{\left(R - \frac{1}{R}\right)^2} = 1$

(2)  $w = r(\cos\alpha + i\sin\alpha) (r > 0, 0 < \alpha < \frac{\pi}{2})$  とおくと、(1) と同様にして

$$x = \left(r + \frac{1}{r}\right)\cos\alpha, \quad y = \left(r - \frac{1}{r}\right)\sin\alpha$$

$0 < \alpha < \frac{\pi}{2}$  であるから  $\cos\alpha > 0, \sin\alpha > 0$

よって  $r + \frac{1}{r} = \frac{x}{\cos\alpha}, r - \frac{1}{r} = \frac{y}{\sin\alpha}$

ゆえに  $r = \frac{1}{2}\left(\frac{x}{\cos\alpha} + \frac{y}{\sin\alpha}\right), \frac{1}{r} = \frac{1}{2}\left(\frac{x}{\cos\alpha} - \frac{y}{\sin\alpha}\right)$

$r \cdot \frac{1}{r} = 1$  であるから  $\frac{1}{2}\left(\frac{x}{\cos\alpha} + \frac{y}{\sin\alpha}\right) \cdot \frac{1}{2}\left(\frac{x}{\cos\alpha} - \frac{y}{\sin\alpha}\right) = 1$

整理すると  $\frac{x^2}{4\cos^2\alpha} - \frac{y^2}{4\sin^2\alpha} = 1$

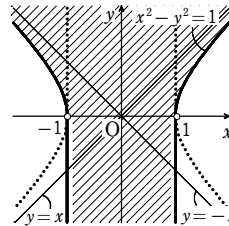
また、 $r > 0$  であるから  $\frac{x}{\cos\alpha} + \frac{y}{\sin\alpha} > 0, \frac{x}{\cos\alpha} - \frac{y}{\sin\alpha} > 0$

このとき  $x \geq 2\cos\alpha$

したがって、求める軌跡は 双曲線  $\frac{x^2}{4\cos^2\alpha} - \frac{y^2}{4\sin^2\alpha} = 1$  の  $x \geq 2\cos\alpha$  の部分

7

【解答】 【図】 境界線は、直線  $x = \pm 1$  の  $y \leq 0$  の部分を含まず、他は含む



$y = ax^2 + \frac{1-4a^2}{4a}$  から  $(x^2-1)a^2 - ya + \frac{1}{4} = 0 \dots\dots ①$

求める  $C$  の通過する領域は、① を満たす正の実数  $a$  が存在するような点  $(x, y)$  全体である。

[1]  $x^2 - 1 = 0$  すなわち  $x = \pm 1$  のとき

① は  $ya = \frac{1}{4}$  となるから、これを満たす正の実数  $a$  が存在するための条件は  $y > 0$

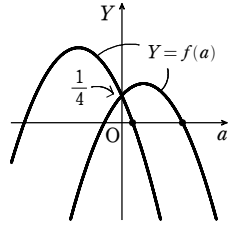
[2]  $x^2 - 1 \neq 0$  のとき

$f(a) = (x^2 - 1)a^2 - ya + \frac{1}{4}$  とおく。

① を満たす正の実数  $a$  が存在するための条件は、放物線  $Y = f(a)$  が  $a$  軸の正の部分と共有点をもつことである。

(i)  $x^2 - 1 < 0$  すなわち  $-1 < x < 1$  のとき

$Y = f(a)$  は上に凸の放物線であり、 $f(0) = \frac{1}{4}$  であるから、右の図より、 $a$  軸の正の部分と常に共有点をもつ。  
 よって、 $-1 < x < 1$  のとき  $y$  はすべての実数



(ii)  $x^2 - 1 > 0$  すなわち  $x < -1, 1 < x$  のとき

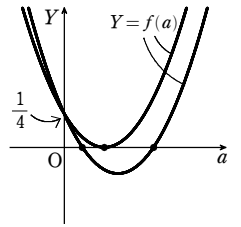
$Y = f(a)$  は下に凸の放物線であり、 $f(0) = \frac{1}{4}$  であるから、右の図より、 $a$  軸の正の部分と共有点をもつための条件は、① の判別式  $D$  について

$$D = (-y)^2 - 4 \cdot \frac{1}{4}(x^2 - 1) = y^2 - x^2 + 1 \geq 0$$

かつ 軸について  $\frac{y}{2(x^2 - 1)} > 0$

よって  $x^2 - y^2 \leq 1$  かつ  $y > 0$

以上から、求める領域は、右の図の斜線部分のようになる。ただし、境界線は、直線  $x = \pm 1$  の  $y \leq 0$  の部分を含まず、他は含む。



【別解】 【数Ⅲの微分利用】

$x$  を固定して考える。

$y = (x^2 - 1)a + \frac{1}{4a}$  から

$$\frac{dy}{da} = x^2 - 1 - \frac{1}{4a^2} = \frac{4(x^2 - 1)a^2 - 1}{4a^2}$$

[1]  $x^2 - 1 \leq 0$  のとき  $\frac{dy}{da} < 0$

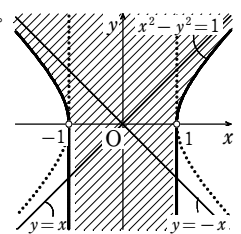
また  $\lim_{a \rightarrow +0} y = \infty, \lim_{a \rightarrow \infty} y = \begin{cases} 0 & (x^2 - 1 = 0 \text{ のとき}) \\ -\infty & (x^2 - 1 < 0 \text{ のとき}) \end{cases}$

よって、 $a$  が正の実数全体を動くとき、 $y$  のとりうる値の範囲は  $x = \pm 1$  のとき  $y > 0$   
 $-1 < x < 1$  のとき すべての実数

[2]  $x^2 - 1 > 0$  のとき

$$\frac{dy}{da} = 0 \text{ とすると } a = \pm \frac{1}{2\sqrt{x^2 - 1}}$$

$a > 0$  における  $y$  の増減表は次のようになる。

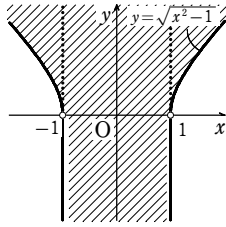


$a$	0	...	$\frac{1}{2\sqrt{x^2-1}}$	...
$\frac{dy}{da}$		-	0	+
$y$			$\sqrt{x^2-1}$	

また  $\lim_{a \rightarrow +0} y = \infty, \lim_{a \rightarrow \infty} y = \infty$

よって、 $a$  が正の実数全体を動くとき、 $y$  のとりうる値の範囲は  $y \geq \sqrt{x^2-1}$

以上から、求める領域は、右の図の斜線部分のようになる。ただし、境界線は、直線  $x = \pm 1$  の  $y \leq 0$  の部分を含まず、他は含む。



8

【解答】 (1)  $P_n((5-n)\cos t + n\cos(t - \frac{5t}{n}), (5-n)\sin t + n\sin(t - \frac{5t}{n}))$  (2) 略

(1)  $A(5, 0)$ ,  $\angle S_n O_n P_n = \alpha_n$  とすると、円  $C_n$  が滑ることなく回転するから  $\widehat{AS_n} = \widehat{P_n S_n}$

よって  $5t = n\alpha_n$  ゆえに  $\alpha_n = \frac{5t}{n}$

ここで  $\vec{OP_n} = \vec{OO_n} + \vec{O_n P_n}$

$$= ((5-n)\cos t, (5-n)\sin t) + (n\cos(t - \alpha_n), n\sin(t - \alpha_n))$$

$$= ((5-n)\cos t + n\cos(t - \frac{5t}{n}), (5-n)\sin t + n\sin(t - \frac{5t}{n}))$$

したがって  $P_n((5-n)\cos t + n\cos(t - \frac{5t}{n}), (5-n)\sin t + n\sin(t - \frac{5t}{n}))$

(2) 円  $C_n$  の中心が円  $C$  の内部を反時計回りに  $n$  周するから、 $n=2$  のとき

$$P_2(3\cos t + 2\cos \frac{3}{2}t, 3\sin t - 2\sin \frac{3}{2}t), 0 \leq t \leq 4\pi$$

$n=3$  のとき  $P_3(2\cos t + 3\cos \frac{2}{3}t, 2\sin t - 3\sin \frac{2}{3}t), 0 \leq t \leq 6\pi$

ここで、 $n=2$  に対し  $t = 4\pi - \frac{2}{3}u$  とおくと

$$3\cos(4\pi - \frac{2}{3}u) + 2\cos \frac{3}{2}(4\pi - \frac{2}{3}u) = 3\cos \frac{2}{3}u + 2\cos u,$$

$$3\sin(4\pi - \frac{2}{3}u) - 2\sin \frac{3}{2}(4\pi - \frac{2}{3}u) = -3\sin \frac{2}{3}u + 2\sin u,$$

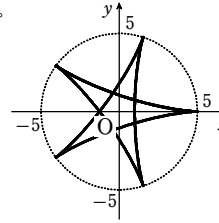
$0 \leq t \leq 4\pi$  のとき  $0 \leq u \leq 6\pi$  であるから

$$P_2(2\cos u + 3\cos \frac{2}{3}u, 2\sin u - 3\sin \frac{2}{3}u), 0 \leq u \leq 6\pi$$

と表せる。

よって、点  $P_2$  の描く曲線と点  $P_3$  の描く曲線は一致する。

【参考】 点  $P_2, P_3$  の描く曲線は右の図のようになる。



9

【解答】 (1)  $2\sqrt{x^2+y^2}\cos\alpha - 2x\sin\alpha = \cos 2\alpha$  (2)  $r(\cos\alpha - \sin\alpha\cos\theta) = \frac{\cos 2\alpha}{2}$

$$(3) \sqrt{2} < f(\alpha) \leq \frac{\sqrt{10}}{2}$$

(1) 円  $B$  の中心を  $R(x, y)$  とすると、

円  $B$  は円  $A$  に内接するから、 $R$  は円  $A$  の半径  $OP$  上にある。

円  $B$  は点  $F$  を通るから  $RP = RF$

ゆえに  $OP = OR + RP = OR + RF$

円  $A$  の半径は  $OP = \cos\alpha$  であるから

$$OR + RF = \cos\alpha \quad \dots\dots ①$$

ゆえに  $RF = \cos\alpha - OR$

$$\text{よって } \sqrt{(x - \sin\alpha)^2 + y^2} = \cos\alpha - \sqrt{x^2 + y^2}$$

両辺を2乗して整理すると  $2\sqrt{x^2+y^2}\cos\alpha - 2x\sin\alpha = \cos^2\alpha - \sin^2\alpha$

$$\text{したがって } 2\sqrt{x^2+y^2}\cos\alpha - 2x\sin\alpha = \cos 2\alpha \quad \dots\dots ②$$

(2)  $R(x, y)$  の極座標を  $(r, \theta)$  とおくと、

$$x = r\cos\theta, y = r\sin\theta, r = \sqrt{x^2 + y^2}$$

であるから、②は  $2r\cos\alpha - 2r\cos\theta\sin\alpha = \cos 2\alpha$

$$\text{ゆえに } r(\cos\alpha - \sin\alpha\cos\theta) = \frac{\cos 2\alpha}{2}$$

(3) ①より、軌跡  $C$  は2点  $O, F$  を焦点とする楕円であるから、円  $A$  上の動点  $P$  と楕円  $C$  上の動点  $Q$  が最も遠くなるのは、点  $P$  が  $H(-\cos\alpha, 0)$  の位置にあり、かつ、点  $Q$  が楕円  $C$  の長軸の右端  $G$  の位置にあるときである。

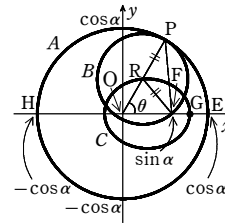
②において  $y=0, x>0$  のとき  $2x(\cos\alpha - \sin\alpha) = \cos^2\alpha - \sin^2\alpha$

$$\text{ゆえに } x = \frac{\cos\alpha + \sin\alpha}{2}$$

$$\text{よって } G\left(\frac{\cos\alpha + \sin\alpha}{2}, 0\right)$$

したがって、 $PQ$  の最大値は

$$f(\alpha) = HG = \frac{\cos\alpha + \sin\alpha}{2} - (-\cos\alpha) = \frac{1}{2}(\sin\alpha + 3\cos\alpha)$$



$$= \frac{\sqrt{10}}{2}\sin(\alpha + \beta) \quad (0 < \alpha < \frac{\pi}{4})$$

$$\text{ただし } \sin\beta = \frac{3}{\sqrt{10}}, \cos\beta = \frac{1}{\sqrt{10}}$$

ここで、 $0 < \cos\beta = \frac{1}{\sqrt{10}} < \frac{1}{2}$  から、 $\frac{\pi}{3} < \beta < \frac{\pi}{2}$

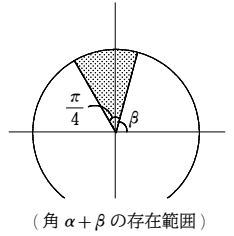
としてよい。

このとき、 $\frac{\pi}{3} < \beta < \alpha + \beta < \frac{\pi}{4} + \beta < \frac{3}{4}\pi$  であるから、

ら、 $\alpha + \beta = \frac{\pi}{2}$  のときに  $f(\alpha)$  は最大値  $\frac{\sqrt{10}}{2}$  をとる。

$$\text{一方、} f(0) = \frac{1}{2}(\sin 0 + 3\cos 0) = \frac{3}{2} \quad f\left(\frac{\pi}{4}\right) = \frac{1}{2}\left(\sin \frac{\pi}{4} + 3\cos \frac{\pi}{4}\right) = \sqrt{2}$$

$\sqrt{2} < \frac{3}{2}$  であるから、 $f(\alpha)$  のとりうる値の範囲は  $\sqrt{2} < f(\alpha) \leq \frac{\sqrt{10}}{2}$



10

【解答】 (1)  $0 \leq \alpha < \frac{2}{3}\pi$  のとき  $OP = \frac{2}{\sqrt{3}}\sin\left(\frac{2}{3}\pi - \alpha\right), OQ = \frac{2}{\sqrt{3}}\sin\alpha$

$$(2) \frac{x^2}{\left(\frac{\sqrt{3}}{2}\right)^2} + \frac{y^2}{\left(\frac{1}{2\sqrt{3}}\right)^2} = 1, x \geq \frac{\sqrt{3}}{4}, y \neq -\frac{1}{4}$$

$$(3) r = \frac{1}{\sqrt{3}}\left(\cos 2\theta + \frac{1}{2}\right) \quad \left(-\frac{\pi}{3} < \theta < \frac{\pi}{3}\right)$$

(1)  $0 < \alpha < \frac{2}{3}\pi$  のとき、 $\triangle OPQ$  に正弦定理を適用すると

$$\frac{OP}{\sin\left(\frac{2}{3}\pi - \alpha\right)} = \frac{OQ}{\sin\alpha} = \frac{1}{\sin\frac{\pi}{3}}$$

$$\text{よって } OP = \frac{2}{\sqrt{3}}\sin\left(\frac{2}{3}\pi - \alpha\right) \quad \dots\dots ①$$

$$OQ = \frac{2}{\sqrt{3}}\sin\alpha \quad \dots\dots ②$$

$\alpha=0$  のとき  $OP=1, OQ=0$

ゆえに、①、②は  $\alpha=0$  のときも成り立つ。

したがって、 $0 \leq \alpha < \frac{2}{3}\pi$  のとき  $OP = \frac{2}{\sqrt{3}}\sin\left(\frac{2}{3}\pi - \alpha\right), OQ = \frac{2}{\sqrt{3}}\sin\alpha$

【注意】  $Q$  が  $O$  に重なってもよいと考えた。  $P$  が  $O$  に重なる場合は、 $\angle OPQ$  が定義できないから除いた。

$$(2) \vec{OP} = \left(OP\cos\frac{\pi}{6}, OP\sin\frac{\pi}{6}\right), \vec{OQ} = \left(OQ\cos\left(-\frac{\pi}{6}\right), OQ\sin\left(-\frac{\pi}{6}\right)\right)$$

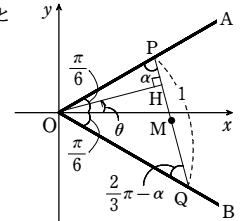
したがって、(1) から

$$\vec{OP} = \frac{2}{\sqrt{3}}\sin\left(\frac{2}{3}\pi - \alpha\right)\left(\cos\frac{\pi}{6}, \sin\frac{\pi}{6}\right) = \sin\left(\frac{2}{3}\pi - \alpha\right)\left(1, \frac{1}{\sqrt{3}}\right)$$

$$\vec{OQ} = \frac{2}{\sqrt{3}}\sin\alpha\left(\cos\left(-\frac{\pi}{6}\right), \sin\left(-\frac{\pi}{6}\right)\right) = \sin\alpha\left(1, -\frac{1}{\sqrt{3}}\right)$$

$$\text{よって } \vec{OM} = \frac{\vec{OP} + \vec{OQ}}{2}$$

$$= \left(\frac{1}{2}\left[\sin\left(\frac{2}{3}\pi - \alpha\right) + \sin\alpha\right], \frac{1}{2\sqrt{3}}\left[\sin\left(\frac{2}{3}\pi - \alpha\right) - \sin\alpha\right]\right)$$



章末問題C

$$= \left( \sin \frac{\pi}{3} \cos \left( \frac{\pi}{3} - \alpha \right), \frac{1}{\sqrt{3}} \cos \frac{\pi}{3} \sin \left( \frac{\pi}{3} - \alpha \right) \right)$$

$$= \left( \frac{\sqrt{3}}{2} \cos \left( \frac{\pi}{3} - \alpha \right), \frac{1}{2\sqrt{3}} \sin \left( \frac{\pi}{3} - \alpha \right) \right)$$

$$0 \leq \alpha < \frac{2}{3}\pi \text{ から } -\frac{\pi}{3} < \frac{\pi}{3} - \alpha \leq \frac{\pi}{3} \dots\dots \textcircled{3}$$

$$M(x, y) \text{ とすると } x = \frac{\sqrt{3}}{2} \cos \left( \frac{\pi}{3} - \alpha \right), y = \frac{1}{2\sqrt{3}} \sin \left( \frac{\pi}{3} - \alpha \right)$$

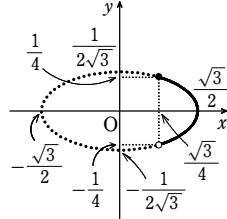
$$\text{よって } \cos \left( \frac{\pi}{3} - \alpha \right) = \frac{x}{\frac{\sqrt{3}}{2}}, \sin \left( \frac{\pi}{3} - \alpha \right) = \frac{y}{\frac{1}{2\sqrt{3}}}$$

$$\text{ゆえに } \frac{x^2}{\left(\frac{\sqrt{3}}{2}\right)^2} + \frac{y^2}{\left(\frac{1}{2\sqrt{3}}\right)^2} = 1$$

$$\text{また, } \textcircled{3} \text{ から } \frac{\sqrt{3}}{4} \leq x \leq \frac{\sqrt{3}}{2}, -\frac{1}{4} < y \leq \frac{1}{4}$$

したがって, 中点 M の軌跡の方程式は

$$\frac{x^2}{\left(\frac{\sqrt{3}}{2}\right)^2} + \frac{y^2}{\left(\frac{1}{2\sqrt{3}}\right)^2} = 1, x \geq \frac{\sqrt{3}}{4}, y \leq \frac{1}{4}$$



(3) H の偏角を  $\theta$  とすると

$$\theta = (\overrightarrow{QP} \text{ と } x \text{ 軸の正の向きとのなす角}) - \frac{\pi}{2} = \left( \frac{\pi}{6} + \alpha \right) - \frac{\pi}{2} = \alpha - \frac{\pi}{3}$$

$\textcircled{3}$  から  $-\frac{\pi}{3} \leq \alpha - \frac{\pi}{3} < \frac{\pi}{3}$  であるが,  $\alpha = 0$  のとき, O から PQ へ垂線 OH を引けな

いから  $\alpha \neq 0$

$$\text{したがって } -\frac{\pi}{3} < \theta < \frac{\pi}{3}$$

$$\text{また } OH = OP \sin \alpha = \frac{2}{\sqrt{3}} \sin \left( \frac{2}{3}\pi - \alpha \right) \sin \alpha = \frac{1}{\sqrt{3}} \left[ \cos \left( \frac{2}{3}\pi - 2\alpha \right) - \cos \frac{2}{3}\pi \right]$$

$$= \frac{1}{\sqrt{3}} \left[ \cos(-2\theta) + \frac{1}{2} \right] = \frac{1}{\sqrt{3}} \left( \cos 2\theta + \frac{1}{2} \right)$$

したがって, H の軌跡の極方程式は

$$r = \frac{1}{\sqrt{3}} \left( \cos 2\theta + \frac{1}{2} \right) \quad \left( -\frac{\pi}{3} < \theta < \frac{\pi}{3} \right)$$

[11]

**解答**  $\frac{1}{a^2} + \frac{1}{b^2} = 1 \quad (a > 0, b > 0)$

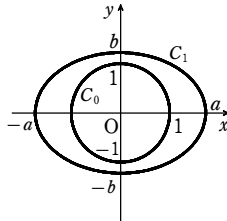
楕円  $C_1$  が, 円  $C_0$  を含むから  $a > 1, b > 1$

ゆえに,  $x$  座標が 1 である楕円  $C_1$  上の点が存在して, そのうち第 1 象限にある点を P とする。点 P から円  $C_0$  に引いた接線のうち 1 本は直線  $x=1$  であり, 直線  $x=1$  と  $C_1$  の P でない交点を S とする。

平行四辺形 PQRS が, 題意を満たすように作れるとき,  $C_0$  が  $y$  軸に関して対称な図形であるから, 2 点 Q, R は, 直線  $x=-1$  と  $C_1$  との交点である。

$C_1$  も  $y$  軸に関して対称な図形であるから点 P と点 Q, 点 R と点 S も  $y$  軸に関して対称である。

ゆえに, 辺 PQ が,  $C_0$  に接するとき, 2 点 P, Q は, 直線  $y=1$  上の点である。



よって, P(1, 1) であり, 点 P は  $C_1$  上の点であるから  $\frac{1}{a^2} + \frac{1}{b^2} = 1$

逆に,  $\frac{1}{a^2} + \frac{1}{b^2} = 1$  が成り立つとする。 $C_1$  上の任意の点 P に対し,  $C_1$  は  $x$  軸,  $y$  軸, 原点に関して対称な図形であるから, 原点に関して点 P と対称な点を R とすると, R は  $C_1$  上にある。また, 線分 PR の垂直二等分線と  $C_1$  の交点を Q, S とすると, Q, S も  $C_1$  上の点であり, 原点に関して対称である。ゆえに, 四辺形 PQRS は, その対角線 PR, QS が原点で直交し, 互いに他を 2 等分するからひし形である。

このとき,  $OP=r_1, OQ=r_2, x$  軸の正の部分と OP のなす角を  $\theta$  とおくと

$$P(r_1 \cos \theta, r_1 \sin \theta) \dots\dots \textcircled{1}, \quad Q\left(r_2 \cos \left( \theta + \frac{\pi}{2} \right), r_2 \sin \left( \theta + \frac{\pi}{2} \right)\right) \dots\dots \textcircled{2}$$

$\textcircled{2}$  から  $Q(-r_2 \sin \theta, r_2 \cos \theta) \dots\dots \textcircled{3}$

P, Q は  $C_1$  上の点であるから,  $\textcircled{1}, \textcircled{3}$  より

$$r_1^2 \left( \frac{\cos^2 \theta}{a^2} + \frac{\sin^2 \theta}{b^2} \right) = 1, \quad r_2^2 \left( \frac{\sin^2 \theta}{a^2} + \frac{\cos^2 \theta}{b^2} \right) = 1$$

$$\text{ゆえに } \frac{1}{r_1^2} + \frac{1}{r_2^2} = \frac{1}{a^2} + \frac{1}{b^2} = 1 \dots\dots \textcircled{4}$$

$$\text{一方 } \triangle POQ = \frac{1}{2} OP \cdot OQ = \frac{1}{2} r_1 r_2 \dots\dots \textcircled{5}$$

また, 原点 O と辺 PQ の距離を  $d (d > 0)$  とおくと  $\triangle POQ = \frac{1}{2} PQ \cdot d \dots\dots \textcircled{6}$

更に  $PQ^2 = OP^2 + OQ^2 = r_1^2 + r_2^2$

これと  $\textcircled{5}, \textcircled{6}$  から  $r_1^2 r_2^2 = (r_1^2 + r_2^2) d^2$

$$\text{よって, } \textcircled{4} \text{ から } d^2 = \frac{r_1^2 r_2^2}{r_1^2 + r_2^2} = \frac{1}{\frac{1}{r_1^2} + \frac{1}{r_2^2}} = 1$$

ゆえに  $d=1$  よって, PQ は  $C_0$  に接する。

同様に, QR, RS, SP も  $C_0$  に接する。

したがって, 求める必要十分条件は  $\frac{1}{a^2} + \frac{1}{b^2} = 1 \quad (a > 0, b > 0)$

[12]

**解答** (1) 略 (2)  $\left( \frac{\sqrt{3}}{2}, \frac{1}{2} \right)$

(1) 曲線 C 上の点 Q の座標は, 媒介変数  $t \left( -\frac{\pi}{2} < t < 0 \right)$

を用いて,  $Q \left( \frac{\sqrt{2}}{\cos t}, \sqrt{2} \tan t \right)$  と表される。

この点 Q における接線  $\ell$  の方程式は

$$\frac{\sqrt{2}}{\cos t} x - \sqrt{2} (\tan t) y = 2$$

$$\text{すなわち } x - (\sin t) y = \sqrt{2} \cos t \dots\dots \textcircled{1}$$

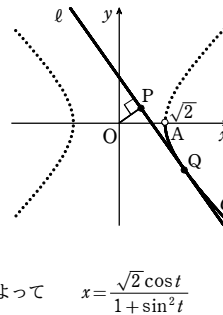
原点 O を通り, 接線  $\ell$  に垂直な直線の方程式は

$$(\sin t) x + y = 0 \dots\dots \textcircled{2}$$

$$\textcircled{1} + \textcircled{2} \times \sin t \text{ から } (1 + \sin^2 t) x = \sqrt{2} \cos t \quad \text{よって } x = \frac{\sqrt{2} \cos t}{1 + \sin^2 t}$$

$$\text{また, } \textcircled{2} - \textcircled{1} \times \sin t \text{ から } (1 + \sin^2 t) y = -\sqrt{2} \sin t \cos t$$

$$\text{よって } y = -\frac{\sqrt{2} \sin t \cos t}{1 + \sin^2 t}$$



$$\text{ゆえに, 点 P を直交座標で表すと } \left( \frac{\sqrt{2} \cos t}{1 + \sin^2 t}, -\frac{\sqrt{2} \sin t \cos t}{1 + \sin^2 t} \right)$$

$$\text{ここで, } -\frac{\pi}{2} < t < 0 \text{ であるから } x = \frac{\sqrt{2} \cos t}{1 + \sin^2 t} > 0, \quad y = -\frac{\sqrt{2} \sin t \cos t}{1 + \sin^2 t} > 0$$

よって, 点 P を点 O を極とする極座標  $(r, \theta)$  で表したとき,  $r > 0, 0 < \theta < \frac{\pi}{2}$  としてよい。

$$\text{このとき } r = OP = \frac{|-\sqrt{2} \cos t|}{\sqrt{1 + \sin^2 t}} = \frac{\sqrt{2} \cos t}{\sqrt{1 + \sin^2 t}},$$

$$\cos \theta = \frac{x}{r} = \frac{\sqrt{2} \cos t}{1 + \sin^2 t} \cdot \frac{\sqrt{1 + \sin^2 t}}{\sqrt{2} \cos t} = \frac{1}{\sqrt{1 + \sin^2 t}}$$

$$\text{よって } r^2 - 2 \cos 2\theta = r^2 - 2(2 \cos^2 \theta - 1) = \frac{2 \cos^2 t}{1 + \sin^2 t} - 2 \cdot \left( 2 \cdot \frac{1}{1 + \sin^2 t} - 1 \right)$$

$$= \frac{2(\cos^2 t + \sin^2 t) - 2}{1 + \sin^2 t} = 0$$

$$\text{また, } -\frac{\pi}{2} < t < 0 \text{ より, } 0 < \sin^2 t < 1 \text{ であるから } \frac{1}{\sqrt{2}} < \frac{1}{\sqrt{1 + \sin^2 t}} < 1$$

$$\text{すなわち } \frac{1}{\sqrt{2}} < \cos \theta < 1$$

$$0 < \theta < \frac{\pi}{2} \text{ の範囲で, これを解くと } 0 < \theta < \frac{\pi}{4}$$

したがって, 点 P の軌跡は, 点 O を極とする極方程式

$$r^2 = 2 \cos 2\theta \quad \left( r > 0, 0 < \theta < \frac{\pi}{4} \right) \quad \text{で表される。}$$

(2) 点 P の極座標を  $(r, \theta)$  とすると, 直交座標は  $(r \cos \theta, r \sin \theta)$  である。

$$\triangle OAP \text{ の面積を } S \text{ とすると } S = \frac{1}{2} \cdot OA \cdot r \sin \theta = \frac{1}{\sqrt{2}} r \sin \theta$$

(1) より,  $r^2 = 2 \cos 2\theta$  であるから

$$S^2 = \frac{1}{2} r^2 \sin^2 \theta = \frac{1}{2} \cdot 2 \cos 2\theta \cdot \frac{1 - \cos 2\theta}{2} = -\frac{1}{2} (\cos 2\theta - \frac{1}{2})^2 + \frac{1}{8}$$

また,  $0 < \theta < \frac{\pi}{4}$  より,  $0 < 2\theta < \frac{\pi}{2}$  であるから  $0 < \cos 2\theta < 1$

よって,  $S^2$  は  $\cos 2\theta = \frac{1}{2}$  すなわち  $\theta = \frac{\pi}{6}$  のとき最大となる。

$S > 0$  であるから,  $S$  も  $\theta = \frac{\pi}{6}$  のとき最大となる。

$$\text{このとき, } r = \sqrt{2 \cos 2\theta} = 1 \text{ であるから } x = r \cos \theta = \frac{\sqrt{3}}{2}, \quad y = r \sin \theta = \frac{1}{2}$$

$$\text{したがって, 求める点 P の直交座標は } \left( \frac{\sqrt{3}}{2}, \frac{1}{2} \right)$$

**参考** 極方程式  $r^2 = 2 \cos 2\theta$  で表される曲線は,

「レムニスケート」と呼ばれる曲線で,

$r > 0, 0 < \theta < \frac{\pi}{4}$  の範囲が表す部分は, 右の図

の実線部分である。

